



## DÜNYA' MIZIN ŞEKLİ

☼ Aşağıdaki resimlerden Dünya'nın şekline benzeyenleri işaretleyelim.























☼ Aşağıda verilen resimlerden hangileri Dünya'nın şekli ile ilgili araştırma yapan bilim insanları işaretleyelim.



Macellan




Edison



İbn-i Sina



Aristo




Albert Einstein



Biruni



Pisagor



Graham Bell

☼ Aşağıdaki cümlelerin başına doğruysa "D" , yanlışsa "Y" yazalım.

( ..... ) Karaya yaklaşan bir geminin en son gövdesi görünür.

( ..... ) Dünya'nın uzaydan çekilen fotoğrafları , Dünya'nın küre şeklinde olduğunu ispatlar.

( ..... ) Çok eski zamandan beri insanlar Dünya'nın küre şeklinde olduğunu biliyorlardı.

( ..... ) Dünya'mız küp şeklindedir.

( ..... ) Eski zamanlarda bazı insanlar Dünya'nın tepsi şeklinde olduğunu söylüyorlardı.

( ..... ) Sürekli aynı yöne doğru giden uçak tekrar başladığı noktaya geri gelir.

( ..... ) Dünya üzerinde canlıların yaşaması şeklinin küre olduğunu ispatlar.