

## BÖLME İŞLEMİNİ KAVRAYALIM

1. Topları 2'şerli gruplandıralım. Soruları cevaplandıralım.




Yukarıda kaç top var? (....)

Toplar kaçar gruplandı? (....)

Toplam kaç grup oluştu? (....)

2. Çiçekleri 3'erli gruplandıralım. Soruları cevaplandıralım.



Yukarıda kaç çiçek var? (....)

Çiçekler kaçar gruplandı? (....)

Toplam kaç grup oluştu? (....)

3. Kalemeleri 1'erli gruplandıralım. Soruları cevaplandıralım.




Yukarıda kaç kalem var? (....)

Kalemler kaçar gruplandı? (....)

Toplam kaç grup oluştu? (....)

4. Zarfları 4'erli gruplandıralım. Soruları cevaplandıralım.



Yukarıda kaç zarf var? (....)

Zarflar kaçar gruplandı? (....)

Toplam kaç grup oluştu? (....)

5. Yıldızları 5'erli gruplandıralım. Soruları cevaplandıralım.

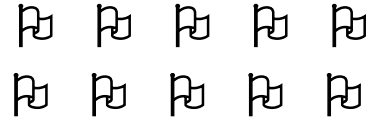


Yukarıda kaç yıldız var? (....)

Yıldızlar kaçar gruplandı? (....)

Toplam kaç grup oluştu? (....)

6. Bayrakları 2'şerli gruplandıralım. Soruları cevaplandıralım.



Yukarıda kaç bayrak var? (....)

Bayraklar kaçar gruplandı? (....)

Toplam kaç grup oluştu? (....)

7. Telefonları 3'erli gruplandıralım. Soruları cevaplandıralım.



Yukarıda kaç telefon var? (....)

Telefonlar kaçar gruplandı? (....)

Toplam kaç grup oluştu? (....)

8. Kalpleri 2'şerli gruplandıralım. Soruları cevaplandıralım.



Yukarıda kaç kalp var? (....)

Kalpler kaçar gruplandı? (....)

Toplam kaç grup oluştu? (....)