

3. Sınıf Genel Deneme Sınavı-1



3. SINIF

 ABONE OL

İlkokul 😊
Derlerim

3. SINIF GENEL DEĞERLENDİRME TESTİ-1

Bir zamanlar buranın kadınları kilim dokur, örgü örерlerdi. Gitar çalarlardı. Şiir yazar, şarkı söylerlerdi. Erkekler de tavuk yetiştirirlerdi. Her güz, evlerini onarırlardı. Oya da bu insanlardan biriydi. Oya; ince uzun boylu, kıvırcık uzun saçlı, mavi gözlü bir çocuktur.

 ABONE OL



3. SINIF GENEL DEĞERLENDİRME TESTİ-1

Soru-1

Metne göre **erkekler** genellikle ne yapıyor?

- A) Kilim dokuyorlar.
- B) Tavuk yetiştiriyor.
- C) Gitar çalıyorlar.



3. SINIF GENEL DEĞERLENDİRME TESTİ-1

Soru-2

Aşağıdakilerden hangisi Oyanın özelliklerinden birisi **değildir**?

- A) Uzun boylu
- B) Mavi gözlü
- C) Kıvırcık kısa saçlı



3. SINIF GENEL DEĞERLENDİRME TESTİ-1

Soru-3

Erkekler evlerini **ne zaman** onarıyorlar?

- A) Güz mevsiminde
- B) Kış mevsiminde
- C) Yaz mevsiminde

 ABONE OL



3. SINIF GENEL DEĞERLENDİRME TESTİ-1

Soru-4

Alfabemizde kaç tane **harf** bulunur?

A) 8

B) 21

C) 29

 ABONE OL

İlkokul 
Derslerim

3. SINIF GENEL DEĞERLENDİRME TESTİ-1

Soru-5

Aşağıdaki sözcüklerin hangisinde **ya-**
zım yanlışı vardır?

- A) Gapi
- B) Pencere
- C) Duvar

 ABONE OL

İlkokul 
Derslerim

3. SINIF GENEL DEĞERLENDİRME TESTİ-1

Soru-6

Aşağıdakilerden hangisi bir **can-**
sız varlık ismidir?

A) Ağaç

B) Taş

C) Yılan

 ABONE OL

İlkokul 
Derslerim

3. SINIF GENEL DEĞERLENDİRME TESTİ-1

Soru-7

Aşağıdakilerden hangisi cümle **de-**
ğildir?

A) Kepçe nereyi

B) Islak mendil aldım

C) İşitme cihazı kullanıyor

 ABONE OL

İlkokul 
Derslerim

3. SINIF GENEL DEĞERLENDİRME TESTİ-1

Soru-8

Aşağıdaki sözcüklerden hangisi **ey-**lemdir?

- A) Papatya
- B) Kokladı
- C) Otobüs

 ABONE OL

İlkokul 
Derslerim

3. SINIF GENEL DEĞERLENDİRME TESTİ-1

Soru-9

” Burada mavi yumurta üretimi başladı. ” Cümlesinde varlığın özelliğini bildiren sözcük hangisidir?

- A) burada
- B) üretimi
- C) mavi



3. SINIF GENEL DEĞERLENDİRME TESTİ-1

Soru-1 0

Aşağıdaki cümlelerden hangisinin sonuna **nokta** konulmaz?

- A) Kapı kapanmamış
- B) Yaşasın, dedem geldi
- C) Yapraklar sararmış

 ABONE OL

İlkokul 
Derslerim

3. SINIF GENEL DEĞERLENDİRME TESTİ-1

Soru-1 1

” 2 - 3 - 1 ” rakamlarını birer kez kullanmak şartıyla oluşturulabilecek **en büyük çift** sayı kaçtır?

A) 312

B) 321

C) 123

 ABONE OL

İlkokul 
Derslerim

3. SINIF GENEL DEĞERLENDİRME TESTİ-1

Soru-1 2

$342 + 124 + 48 = ?$ İşleminin sonucu kaçtır?

A) 494

B) 504

C) 514

 ABONE OL

İlkokul 
Derslerim

3. SINIF GENEL DEĞERLENDİRME TESTİ-1

Soru-1 3

Aşağıdakilerden hangisi çıkarma işleminin terimlerinden birisi **değildir**?

A) Toplam

B) Fark

C) Eksilen

 ABONE OL

İlkokul 
Derslerim

3. SINIF GENEL DEĞERLENDİRME TESTİ-1

Soru-1 4

Aşağıdaki çarpma işlemlerinden hangisinin sonucu **yanlıştır**?

A) $17 \times 3 = 51$

B) $25 \times 5 = 125$

C) $30 \times 6 = 160$

 ABONE OL

İlkokul 
Derslerim

3. SINIF GENEL DEĞERLENDİRME TESTİ-1

Soru-15

99 sayfalık bir kitabı günde 9 sayfa okuyarak kaç günde bitirebilirim?

A) 10

B) 11

C) 12

 ABONE OL

İlkokul 
Derslerim

3. SINIF GENEL DEĞERLENDİRME TESTİ-1

Soru-1 6

Aşağıdaki saatlerden hangisi 16:30'u göstermektedir?

A)



B)



C)



ABONE OL

İlkokul 
Derlerim

3. SINIF GENEL DEĞERLENDİRME TESTİ-1

Soru-1 7

60 sayısının $\frac{2}{5}$ 'i kaçtır?

A) 10

B) 12

C) 24

 ABONE OL

İlkokul 
Derslerim

3. SINIF GENEL DEĞERLENDİRME TESTİ-1

Soru-1 8

En **büyük** kağıt paramız aşağıdaki-
lerden hangisidir?

A)



B)



C)



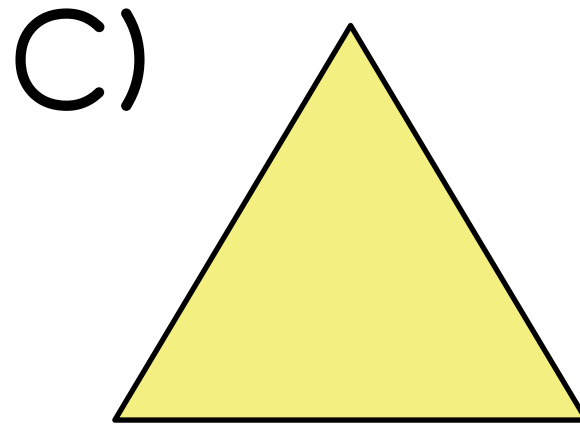

ABONE OL

İlkokul 😊
Derslerim

3. SINIF GENEL DEĞERLENDİRME TESTİ-1

Soru-19

Aşağıdaki geometrik şekillerden hangisinin **3 kenarı** vardır?



3. SINIF GENEL DEĞERLENDİRME TESTİ-1

Soru-20

1 metre + 20 cm toplam kaç cm eder?

A) 1 00 cm

B) 1 20 cm

C) 1 50 cm

 ABONE OL

İlkokul 
Derslerim

3. SINIF GENEL DEĞERLENDİRME TESTİ-1

Soru-21

Aşağıdakilerden hangisi **Dünya'nın** şekline benzer?


A)



B)



C)



ABONE OL

İlkokul 😊
Derlerim

3. SINIF GENEL DEĞERLENDİRME TESTİ-1

Soru-22

Vücudumuzun **en büyük** duyu organını aşağıdakilerden hangisidir?

- A) Göz
- B) Deri
- C) Burun



3. SINIF GENEL DEĞERLENDİRME TESTİ-1

Soru-23

Aşağıdaki cisimlerden hangisi **dönme hareketine** örnektir?

- A) Yel değirmenin hareket etmesi.
- B) Kuyudan su çekmek.
- C) Market arabasını sürmek.

 ABONE OL

İlkokul 
Derslerim

3. SINIF GENEL DEĞERLENDİRME TESTİ-1

Soru-24

Aşağıdaki maddelerden hangisi yumuşak maddeye örnek **değildir**?

- A) Sünger
- B) Pamuk
- C) Cam



3. SINIF GENEL DEĞERLENDİRME TESTİ-1

Soru-25

Aşağıdaki maddelerden hangisi **kati** maddeye örnek verilebilir?

A) Süt

B) Masa

C) Su

 ABONE OL

İlkokul 
Derslerim

3. SINIF GENEL DEĞERLENDİRME TESTİ-1

Soru-26

Aşağıdakilerden hangisi **yapay ışık** kaynağıdır?

A) Mum

B) Güneş

C) Yıldız

 ABONE OL

İlkokul 
Derslerim

3. SINIF GENEL DEĞERLENDİRME TESTİ-1

Soru-27

Aşağıdaki verilen seslerden hangisi **işitme kaybına** neden olabilir?

- A) Havlayan köpeğin sesi
- B) Miyavlayan kedinin sesi
- C) Patlayan ses bombasının sesi

 ABONE OL

İlkokul 
Derslerim

3. SINIF GENEL DEĞERLENDİRME TESTİ-1

Soru-28

Aşağıdaki varlıklardan hangisi **can-**
sız bir varlıktır?


A)



B)



C)



 ABONE OL

İlkokul 
Derslerim

3. SINIF GENEL DEĞERLENDİRME TESTİ-1

Soru-29

Aşağıdaki eşleştirmelerden hangisi yanlıştır?

- A) Araba moturu - Akü
- B) Cep telefonu - Batarya
- C) Kol saati - Şehir elektriği

 ABONE OL



3. SINIF GENEL DEĞERLENDİRME TESTİ-1

Soru-30

Aşağıdakilerden hangisi doğal çevreye örnektir?

A) Müze

B) Şelale

C) Tünel

 ABONE OL

İlkokul 
Derslerim

3. SINIF GENEL DEĞERLENDİRME TESTİ-1

Soru-31

Aşağıdakilerden hangisi **zayıf** bir yönümüzü ifade etmektedir?

- A) Düzenli ders çalışıyorum.
- B) Basketbol oynarım.
- C) Keman çalamıyorum.



3. SINIF GENEL DEĞERLENDİRME TESTİ-1

Soru-32

Bir arkadaşımızın hangi davranışı bizi **olumsuz** etkiler?

- A) Doğru söylemesi
- B) Saygısız davranması
- C) Nazik olması



3. SINIF GENEL DEĞERLENDİRME TESTİ-1

Soru-33

Aşağıdakilerden hangisi **evdeki sorumluluklarımız** arasındadır?

- A) Ödevlerimizi yapmak.
- B) Çamaşırları yıkamak.
- C) Yemek yapmak.

 ABONE OL

İlkokul 
Derslerim

3. SINIF GENEL DEĞERLENDİRME TESTİ-1

Soru-34

Kış mevsiminde hangi meyveyi yememiz sağlığımız için daha uygundur?

A) Karpuz

B) Portakal

C) Kavun

 ABONE OL

İlkokul 
Derslerim

3. SINIF GENEL DEĞERLENDİRME TESTİ-1

Soru-35

Bir ürün satın alınırken hangisine dikkat **etmeyiz**?

- A) Son kullanma tarihine
- B) Ürünün tazeliğine
- C) Ambalajının güzelliğine



3. SINIF GENEL DEĞERLENDİRME TESTİ-1

Soru-36

Aşağıdakilerden hangisi trafik ışıklarından birisi **değildir**?

A) Mavi

B) Yeşil

C) Kırmızı

 ABONE OL

İlkokul 
Derslerim

3. SINIF GENEL DEĞERLENDİRME TESTİ-1

Soru-37

Aşağıdakilerden hangisi **ev kazala-**
rına örnek gösterilebilir?

- A) Yürürken çukura düşmek.
- B) Araba çarpması.
- C) Banyoda kayıp düşmek.



3. SINIF GENEL DEĞERLENDİRME TESTİ-1

Soru-38

Aşağıdaki eşleştirmelerden hangisi yanlıştır?

- A) Muhtar - İlçe
- B) Vali - İl
- C) Kaymakam - İlçe

 ABONE OL

İlkokul 
Derslerim

3. SINIF GENEL DEĞERLENDİRME TESTİ-1

Soru-39

Aşağıdakilerden hangisi Cumhuriyet'in ilanından sonra yapılan yeniliklerden birisi değildir?

- A) Soyadı kanunu
- B) Arap alfabelerinin kabulü
- C) Ölçülerde yenilik



3. SINIF GENEL DEĞERLENDİRME TESTİ-1

Soru-40

Aşağıdaki ifadelerden hangisi **bitki-
sel** bir üründür?

A) Süt

B) Bal

C) Limon

 ABONE OL

İlkokul 
Derslerim

3. SINIF GENEL DEĞERLENDİRME TESTİ-1

Soru-41

Aşağıdaki sayılardan hangisinin okunuşu "fifteen" şeklindedir?

A) 15

B) 16

C) 17

 ABONE OL

İlkokul 
Derslerim

3. SINIF GENEL DEĞERLENDİRME TESTİ-1

Soru-42

Görseldeki **aile bireyini** ifade eden kelime hangisidir?

- A) Grandmother
- B) Grandfather
- C) Sister



[▶ ABONE OL](#)

İlkokul 
Derlerim

3. SINIF GENEL DEĞERLENDİRME TESTİ-1

Soru-43

” Small ” kelimesinin zıt anlamlısı aşağıdakilerden hangisidir?

A) Big

B) Fast

C) Fat

 ABONE OL

İlkokul 
Derlerim

3. SINIF GENEL DEĞERLENDİRME TESTİ-1

Soru-44

Aşağıdaki görsellerden hangisi **happy** sözcüğünü ifade eder?

A)



B)



C)



ABONE OL

İlkokul 
Derlerim

3. SINIF GENEL DEĞERLENDİRME TESTİ-1

Soru-45

” How many cats are there? ” sorusunun cevabı hangisi olabilir?

- A) There are ten dogs.
- B) There are ten cats.
- C) This is a cat.



3. SINIF GENEL DEĞERLENDİRME TESTİ-1

Soru-46

Aşağıdaki **görsel** evin hangi bölümünü ifade eder?

- A) Bathroom
- B) Kitchen
- C) Living room



 ABONE OL

İlkokul 
Derslerim

3. SINIF GENEL DEĞERLENDİRME TESTİ-1

Soru-47

Aşağıdakilerden hangisi **hastaneyi** ifade eder?

- A) Bank
- B) Zoo
- C) Hospital

 ABONE OL

İlkokul 
Derslerim

3. SINIF GENEL DEĞERLENDİRME TESTİ-1

Soru-48

Aşağıdaki taşıtlarlardan hangisi
havayolu taşıtıdır?

A) Plane

B) Car

C) Bicycle

 ABONE OL

İlkokul 
Derslerim

3. SINIF GENEL DEĞERLENDİRME TESTİ-1

Soru-49

Aşağıdaki görseli ifade eden **hava olayı** hangisidir?

A) Hot

B) Rainy

C) Snowy



 ABONE OL


İlkokul 
Derlerim

3. SINIF GENEL DEĞERLENDİRME TESTİ-1

Soru-50

Görsele göre "The frog is"
Cümlesini hangi sözcük ile tamamlarız?

- A) yellow
- B) green
- C) blue



▶ ABONE OL

İlkokul 😊
Derlerim

İlkokul derslerim
kanalıma abone
olmayı unutmayın!

 ABONE OL

İlkokul 😊
Derslerim