

MATEMATİK TEKRAR ÇALIŞMASI 1



$\begin{array}{r} 2 \\ + \dots \\ \hline 72 \end{array}$	$\begin{array}{r} 95 \\ - \dots \\ \hline 84 \end{array}$	$\begin{array}{r} 31 \\ - 30 \\ \hline \dots \end{array}$	$\begin{array}{r} 52 \\ + \dots \\ \hline 60 \end{array}$	$\begin{array}{r} 28 \\ - 6 \\ \hline \dots \end{array}$	$\begin{array}{r} \dots \\ + 24 \\ \hline 95 \end{array}$
$\begin{array}{r} 96 \\ - 20 \\ \hline \dots \end{array}$	$\begin{array}{r} \dots \\ - 80 \\ \hline 12 \end{array}$	$\begin{array}{r} \dots \\ - 6 \\ \hline 43 \end{array}$	$\begin{array}{r} 92 \\ - \dots \\ \hline 90 \end{array}$	$\begin{array}{r} 73 \\ - 32 \\ \hline \dots \end{array}$	$\begin{array}{r} 82 \\ - \dots \\ \hline 51 \end{array}$

En yakın onlukları boyayın.

51	33	44	53				
50	60	30	40	40	50	50	60

"<",">","=" işaretlerinden uygun olanı yazın.

17 ... 94	34 ... 42	98 ... 74
35 ... 39	84 ... 31	70 ... 68

Sayıları küçükten büyüğe sıralayın. (Sembolle)

56, 89, 63, 70, 21

73

Basamak Adı Basamak Değeri

$\begin{array}{l} \rightarrow \\ \rightarrow \end{array}$
$\begin{array}{l} \rightarrow \\ \rightarrow \end{array}$

$$\dots - 2 = 2 + 9$$

$$4 + 1 = \dots + 3$$

$$8 + 1 = \dots + 7$$

$$\dots + 9 = 14 - 4$$

Gerçek Sonuç	Tahmin	Fark
$27 + 41 = \dots$		
$24 + 38 = \dots$		

Gerçek Sonuç	Tahmin	Fark
$74 - 39 = \dots$		
$84 - 51 = \dots$		

1) Şükriye'nin 10 tane kalemi vardır. Kerem'in kalemlerinin sayısı Şükriye'nin kalemlerinin sayısından 4 fazladır. Buna göre Kerem'in kaç tane kalemi vardır?

2) Zeynep'in bir miktar parası vardı. Zeynep parasınının 41 lirasına balon almıştır. Zeynep'in 6 lirası kaldığına göre Zeynep'in başlangıçta kaç lirası vardı?

MATEMATİK TEKRAR ÇALIŞMASI 2

Verilen sayıların okunuşlarını yazınız.

Verilen sayıları rakamlarla yazınız.

98.....

otuz bir.....

27.....

elli bir.....

37.....


seksen




Aşağıdaki toplama ve çıkarma işlemlerini zihinden yapınız.

$90 - 30 = \dots$	$90 - 10 = \dots$	$26 + 11 = \dots$	$25 + 14 = \dots$
$17 + 26 = \dots$	$27 + 17 = \dots$	$60 - 10 = \dots$	$90 - 50 = \dots$


Kutuların altına bilyelerin kaç onluk ve kaç birlikten oluştuğunu yazınız.



..... onluk + birlik



..... onluk + birlik



..... onluk + birlik

Dörder ritmik sayarken 8. söylediğimiz sayı kaçtır?

Beşer ritmik sayarken 2. söylediğimiz sayı kaçtır?

Dörder ritmik sayarken 9. söylediğimiz sayı kaçtır?

İkişer ritmik sayarken 9. söylediğimiz sayı kaçtır?

46, 42, 38, 34, 30, örüntüsünü devam ettirdiğinizde hangi sayıya ulaşırız?

20, 25, 30, 35, 40, örüntüsünü devam ettirdiğinizde hangi sayıya ulaşırız?

66, 71, 76, 81, 88, 91 örüntüsünü bozan sayı hangisidir?

