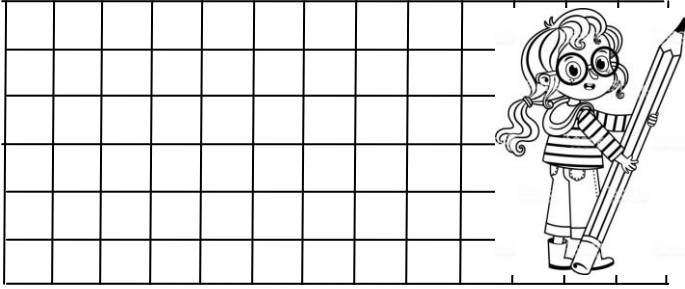
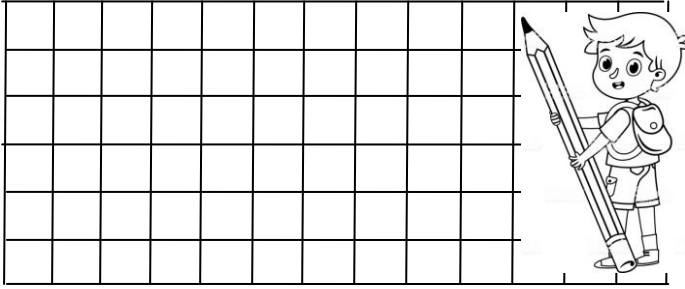


TOPLAMA İŞLEMİ PROBLEMLER


1. Kutuda 9 tane boncuk vardı. Sinem 6 tane boncuk daha koydu. Kutuda kaç tane boncuk oldu?



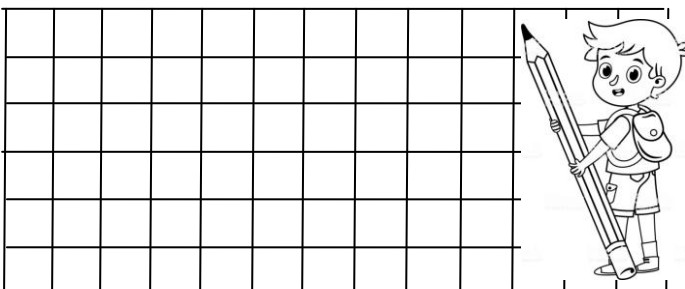
2. Sınıfımızdan 10 tane kız, 6 tane erkek öğrenci resim kursuna gidiyor. Sınıfımızdan kaç öğrenci resim kursuna gidiyor ?




3. Demet 12 , Burçin 7 yaşındadır. Demet ile Burçin'in yaşları toplamı kaçtır ?



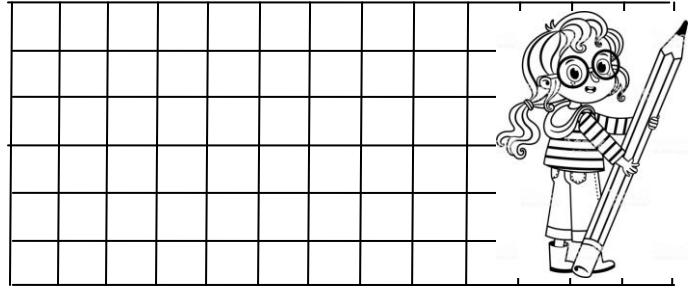
4. Yalçın'ın 5 lirası vardı. Dedesi Yalçın'a 8 lira verdi. Yalçın'ın kaç lirası olmuştur ?




5. Buzdolabında 7 tane beyaz 8 tane kırmızı yumurta var. Buzdolabında toplam kaç tane yumurta var ?



6. Funda dün 11 sayfa kitap okumuş. Bugün ise 6 sayfa okumuş. Funda toplam kaç sayfa kitap okumuş ?



7. Otobüs durağında bekleyen 4 kişi vardı. Sonra 8 kişi daha geldi. Otobüs durağında toplam kaç kişi oldu ?



8. Gökhan elindeki bilyelerden 7 tanesini arkadaşına verince 5 tane bilyesi kalmış. Bilyeleri vermeden önce Gökhan'ın kaç tane bilyesi vardı?

