

15 MAYIS 2020

**ÖĞRENCİ
GÖREVLERİ**

😊Sizin Başarınız Benim Mutluluğumdur😊

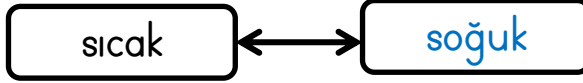


nihalkaralikorkmaz

ZİT ANLAMLI KELİMELER AYNI CÜMLEDE

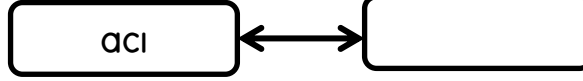
Verilen kelimelerin önce zıt anlamlısını kutuya yazın .Daha sonra iki kelimeyi örnekteki gibi aynı cümlede kullanın.

ÖRNEK:



CÜMLE: Su çok soğuk olduğundan annem içine sıcak su koydu.

1



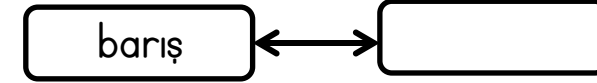
CÜMLE:

2



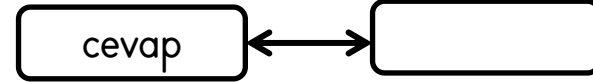
CÜMLE:

3



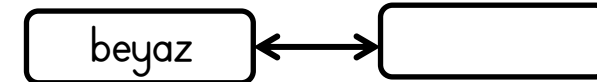
CÜMLE:

4



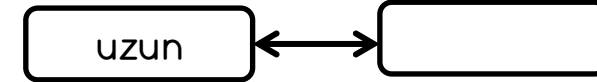
CÜMLE:

5



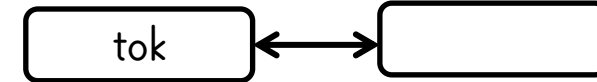
CÜMLE:

6



CÜMLE:

7



CÜMLE:

8



CÜMLE:

VERİ TOPLAMA VE DEĞERLENDİRME ÇALIŞMAMIZ



Nisan ayı boyunca hava olaylarını gözlemledim ve bir sıklık tablosu yaptım. İstenilen tablo ve grafikleri çizelim.


Sıklık Tablosu: Nisan Ayı Hava Olayları

Hava Olayı	Gün Sayısı
Yağmurlu	6
Güneşli	15
Bulutlu	9

Çetele Tablosu: Nisan Ayı Hava Olayları


Hava Olayı	Gün Sayısı
Yağmurlu	
Güneşli	
Bulutlu	

Nesne Grafiği:



Not : Grafikte her şekil 3 günü göstermektedir.

Şekil Grafiği:



Not : Grafikte her şekil 3 günü göstermektedir.



Aşağıdaki soruları diğer sayfadaki Nisan Ayı Hava Olayları tablo ve grafiklere göre cevaplayın.

a) Nisan ayında en çok hangi hava olayı görülmüştür?

.....

b) Nisan ayında en az hangi hava olayı görülmüştür?

.....

c) Yağmurlu ve bulutlu geçen günlerin toplam sayısı kaçtır?

.....

d) Güneşli geçen gün sayısı, yağmurlu olan günlerden kaç fazladır?

.....



Bir bahçedeki ağaç sayıları aşağıda verilmiştir.

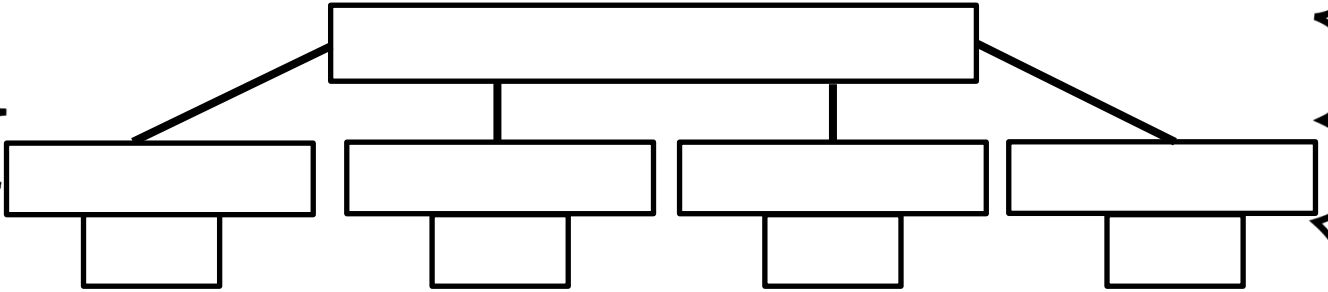
- 12 selvi ağacı

- 10 kavak ağacı

- 6 çınar ağacı

- 8 çam ağacı

Yukarıdaki verileri kullanarak ağaç şeması oluşturunuz.



Aşağıdaki soruları oluşturduğunuz ağaç şemasına göre cevaplayınız.

a) Bahçedeki ağaç sayılarını en çok en aza doğru sıralayınız.

.....

b) Bahçede toplam kaç ağaç vardır?

.....

c) Bahçede en çok olan ağaç ile en az olan ağaç arasındaki fark kaçtır?

.....