





GENEL TEKRAR DENEMESİ 1

1. **1.** Aşağıdakilerden hangisi bir cümledir?
A) Tatilde ailece denize.
B) Tavşan yavrusunu yuvaya.
C) Geri gelirken çantayı da al.
2. **2.** Aşağıdaki kelimelerden hangisi *yanlış* hecelenmiştir?
A) a - i - lem - iz B) yu - mur - ta C) tren - ler
3. **3.** Verilen kelimelerden hangisi *üç* hecelidir?
A) yangın B) itfaiye C) hemşire
4. **4.** "Sabahleyin arkadaşlarımaderim." cümlesinde boş bırakılan yere hangi kelime gelmelidir?
A) iyi geceler B) günaydın C) iyi tatiller
5. **5.** "Dedem bağçeden gül kopardı." cümlesinde baştan kaçınıcı kelime *yanlış* yazılmıştır?
A) birinci B) ikinci C) üçüncü
6. **6.** Hangi cümlede *zıt anlamlı* kelimeler bir arada kullanılmıştır?
A) Yayalar alt ve üst geçitleri kullanmalıdır.
B) Zengin adam yeni ev almış.
C) Tatlı elmayı severim.
7. **7.** Hangi cümlede *kesme işareti* (') yanlış kullanılmıştır?
A) Nurgül'ün annesi pazardan geldi mi?
B) Fatih'in babası Erzincan'a gidecek.
C) Atatür'kün doğduğu şehir Selanik'tir.
8. **8.** "Ş - I - A - T - T " harfleri ile hangi kelime *yazılabilir*?
A) TAŞIT B) TANIŞ C) ÂŞIK
9. **9.** Aşağıdaki *eş anlamlı* kelime çiftlerinden hangisi *yanlış* eşleştirilmiştir?
A) kalp - yürek B) doğa - tabiat C) güzel - çirkin
10. **10.** "diz" kelimesi hangi cümlede *bir şeyi sıralamak* anlamında kullanılmıştır?
A) Ali, yere düşünce dizi acıdı.
B) Esmâ teyze boncukları dizmiş.
C) Osman, dizini sıraya vurmuş.

11. 11. Aşağıdaki varlıklardan hangisinin sayısı birden **fazladır**?
A) otomobil B) gemiler C) tramvay

12. 12. Aşağıdaki cisimlerden hangisi **silindire** benzer?
A)  B)  C) 

13. 13. Yandaki prizma modelinin **boyanmış bölgelerine** ne denir?
A) ayrıt B) yüz C) köşe 


14. 14. Hangi seçenekteki geometrik cisim modelinde, köşe **bulunmaz**?
A)  B)  C) 

15. 15. Bir düzine kalem, bir deste kalemde kaç tane **fazladır**?
A) 2 B) 3 C) 4

16. 16. Aşağıdaki hangi sayı "**doksan dört**" diye okunur?
A) 49 B) 64 C) 94

17. 17. Ahmet'in 8 boya kalemi var. Ahmet, kaç tane boya kalemi alırsa **bir düzine** kalemi olur?
A) 2 B) 4 C) 6

18. 18. "5 onluk, 8 birlik" ten oluşan sayı hangisidir?
A) 85 B) 58 C) 13

19. 19. 
Yukarıda onluk ve birlikleri gösterilen sayı hangisidir?
A) 27 B) 17 C) 9

20. 20. "otuz altı" sayısında kaç onluk ve kaç birlik vardır?
A) 2 onluk, 6 birlik B) 3 onluk, 6 birlik C) 6 onluk, 3 birlik

21. 21. 1 TL'nin içinde kaç tane **50 Kr** vardır?
A) 3 tane B) 2 tane C) 1 tane

22. 22. Tanesi 6 TL'den, 3 tane kravat aldım. Satıcıya 20 TL verdim. Geriye kaç lira alacağım?
A) 2 B) 9 C) 14

23. **23.** Arkadaşları Sema'yı oyuna almadı. Sema neler hissetti?
A) Mutluluk B) Heyecan C) Üzüntü
24. **24.** Bayrağımıza saygı göstermek niçin önemlidir?
A) Renkleri hoşumuza gittiği için
B) Bağımsızlık sembollerinden biri olduğu için
C) Üzerinde yıldız şekli olduğu için
25. **25.** Hangisi kişisel bakıma girer?
A) Saçları taramak B) Defteri kaplamak C) Zamanında uyumak
26. **26.** Hangisi sınıf eşyası değildir?
A) Kitap dolabı B) Tenis raketi C) Sıra
27. **27.** Verilen bilgilerden hangisi doğrudur?
A) Herkesin yetenekleri birbirinden farklıdır.
B) Herkesin düşünceleri aynıdır.
C) Herkes aynı yeteneklere sahiptir.
28. **28.** Aşağıdaki taşıtlardan hangisi karada hareket eder?
A) otobüs B) gemi C) helikopter
29. **29.** Aşağıdaki besinlerden hangisi daha sağlıklıdır?
A) hamburger B) kola C) börek
30. **30.** Hata yapan arkadaşımıza tutumumuz nasıl olmalıdır?
A) sevinçli B) hoşgörülü C) kızgın
31. **31.** Yayalar karşıya geçmek için hangi ışığın yanmasını beklemelidir?
A) kırmızı B) sarı C) yeşil
32. **32.** Hangi seçenekte taşıt ve sürücüsü yanlış eşleştirilmiştir?
A) uçak - astronot B) gemi - kaptan C) tren - makinist
33. **33.** "Okul çantamıgöre hazırlamalısın." Cümlesinde boş bırakılan yere hangi sözcük gelmelidir?
A) keyfine
B) ders programına
C) kitapların kalınlığına