




1. **1.** “Kuşlar, ağacın dallarının arasına yuvalarını yapmıştı.” Cümlesinde çoğul olan kaç tane kelime vardır?
A) 2 B) 3 C) 4

2. **2.** Aşağıdaki cümlelerin hangisinde, varlığın durumunu bildiren bir kelime vardır?
A) Üç çocuk, kantinde bekliyor.
B) Hasta adam, terlemeye başlamıştı.
C) Kırmızı elmaları kim sevmez?

3. **3.** Aşağıdaki cümlelerden hangisinin sonuna yanlış noktalama işareti konulmuştur?
A) Off, canım çok yandı!
B) Hangi otobüs İzmir'e gidiyor?
C) Ne istediğini anlamadım!

4. **4.** Merve, “yarın – gideceksiniz – nereye – akşam” sözcüklerini kullanarak anlamlı bir cümle söyledi. Merve, bu sözcüklerden hangisini en sonra söylemiştir?
A) gideceksiniz B) yarın C) nereye

5. **5.** Aşağıdaki çocuklardan hangisi “ihtiyar” sözcüğünün eş anlamlısını kullanmıştır?


- A)  Yaşlı adam, torununu parka götürmüştü.
- B)  Bütün gençler sinemaya gitmiş.
- C)  Köyün ihtiyarları bir araya geldiler.

6. **6.**

Yukarıdaki sözcüklerin alfabetik sıralaması aşağıdakilerden hangisidir?


- A) katı – kara – kanca – kabak
B) kabak – katı – kara – kanca
C) kabak – kanca – kara – katı

7. **7.** Aşağıdaki sözcük gruplarından hangisi bir yönüyle diğerlerinden farklıdır?
A) esir – tutsak
B) sevgi – nefret
C) şahane – harika

8. **8.**  Sizinle gelemem çok işim var.

Nurgül'ün cümlesindeki boşluğa aşağıdaki sözcüklerden hangisi gelmelidir?

- A) bu nedenle B) için C) çünkü

9. **9.**  Yandaki saat öğleden sonraki zamanı göstermektedir. Buna göre saat kaçtır?

- A) 18.30 B) 13.00 C) 14.30

10. **10.** Sınıfımızda 16 kız, 18 erkek öğrenci var. Sınıfımızın mevcudu kaçtır?
A) 34 B) 25 C) 43

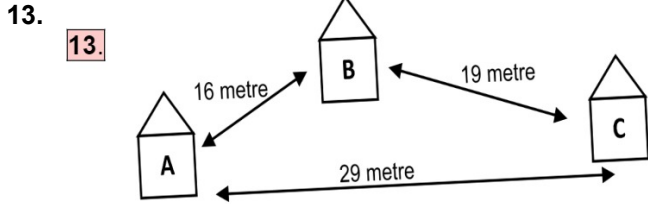
11. **11.** $95 - 72 - 67 - 44 - \triangle$

Yukarıdaki sayılar büyükten küçüğe doğru sıralanmıştır. Buna göre \triangle yerine hangi sayı yazılamaz?

- A) 30 B) 51 C) 17

12. **12.** Bir usta, duvarı örme için 2 hafta çalıştı ancak bitiremedi. Sonra 4 gün daha çalışarak işini tamamladı. Bu usta, duvarı kaç günde tamamlamıştır?

- A) 6 gün B) 18 gün C) 19 gün

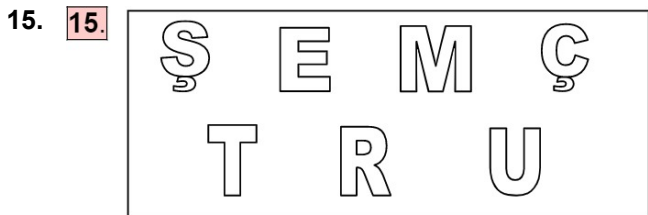


Şekilde verilenlere göre aşağıdakilerden hangisi kesinlikle yanlıştır?

- A) A' dan başlayarak B'ye uğrayarak C'ye gitmek için 29 metre yürümek gerekir.
B) B ile C arasındaki uzaklık, A ile B arasındaki uzaklıktan fazladır.
C) A ile B arasındaki uzaklık en azdır.

14. **14.** 32, 44, 54, 28 sayıları büyükten küçüğe doğru sıralanıyor. Bu sıralamaya göre **baştan birinci** sayı ile **en sondaki** sayının toplamı kaçtır?

- A) 99 B) 87 C) 82



Yukarıdaki harflerden kaçının simetri doğrusu yoktur?

- A) 1 B) 2 C) 3

16. **16.** \Rightarrow Dört kenarım vardır.
 \Rightarrow Dört köşem vardır.
 \Rightarrow Kenarlarımdan ikisi uzundur ve birbirine eşittir.
 \Rightarrow Kenarlarımdan ikisi kısadır ve birbirine eşittir.

Yukarıda kendisini tanıtan geometrik şekil hangisidir?

- A) dikdörtgen B) kare C) küp

17. **17.** Aşağıda konuşan çocuklardan hangisinin verdiği bilgi doğrudur?

- A) Eylül, yaz mevsiminin bir ayıdır.
B) Bir yılda on iki ay vardır.
C) Yeni yıl, aralık ayında başlar.

18. **18.** Aşağıdaki canlılardan hangisinin vücudu aynı zamanda yuvasıdır?




- A) yılan B) salyangoz C) tilki

19. **19.** Gemi, sandal ve botun ortak özelliği aşağıdakilerden hangisidir?

- A) Hayvan taşırlar.
B) Motorlu taşıtlardır.
C) Deniz taşıtlarıdır.

20. **20.** Nurten, ailesiyle birlikte parka gitti. Bir ara ailesini kaybetti. **Nurten, kimden yardım istemelidir**?

- A) Park güvenlik görevlisinden
B) Parktaki yaşlı kişilerden
C) Seyyar satıcılardan

21. **21.** Aşağıdakilerden hangisi grup çalışmasının önemini anlatan bir atasözüdür?
A) Gülme komşuna gelir başına.
B) Damlaya damlaya göl olur.
C) Bir elin nesi var, iki elin sesi var.
22. **22.** Bekçilik ve polislik hangi meslek grubuna girer?
A) Sanat
B) Sağlık
C) Güvenlik
23. **23.** Öğrencilerden hangisinin söylediği durum **doğru** bir davranıştır?
A)  Herkesi beklemeden yemeğe başlamalıyız.
B)  Yemek yerken konuşmamalıyız.
C)  Beğenmediğimiz yemekleri yememeliyiz.
24. **24.** Hangisi evde bize düşen görevlerden **değildir**?
A) Odamızı toplamak.
B) Faturaları ödemek.
C) Kardeşimizle ilgilenmek.
25. **25.** “Evde uymamız gereken kuralları” Boş bırakılan yere hangisi gelirse **doğru** olur?
A) ailece koymalıyız.
B) sadece annem koyar.
C) sadece babam koyar.