

# BU SETİN BENZERİ TÜRKİYE'DE YOK!

**FUFUK İLE DEYİM VE ATASÖZÜ BOYUYORUM**

**5 KİTAP**

**18 TL**

Her kitaba özel Değerlendirme Kitapçığı

1.Sınıf 2.Sınıf  
3.Sınıf 4.Sınıf


WhatsApp Sipariş  
**0 552 252 83 85**

Fiyatlar Toplu Alım İçin Geçerlidir.

KARGO BEDAVA



Kitap  
Tanıtımı  
İzlemek  
için  
**TIKLA**



**DEYİM**

**Ağızyla kuş tutmak**

Deyimin Anlamı

Çok becerikli olmak.


**Örnek Cümle**

Fufuk, arkadaşı ile başmak istiyor ama arkadaşı ağızyla kuş tutsan başmam diyordu.

**Örnek Cümlem**

Tahminim

www.ufukkoca.com 3 FUFUK Toyilan



**DEYİM**

**Etekleri zil çalmak**

Deyimin Anlamı

Çok sevinmek.

**Örnek Cümle**

Fufuk, sınavdan 100 aldığı öğrenince etekleri zil çaldı.

**Örnek Cümlem**

Tahminim

www.ufukkoca.com 5 FUFUK Toyilan

Tekli Alım Fiyatımız = **25 TL** Kargo ücretsiz.

Toplu Alım Fiyatımız = **18 TL** Kargo ücretsiz.

Toplu alım için **en az 20** set olması gerekir.

Whatsapp Sipariş : **0 552 252 83 85**

**27.**  
**Hafta**

# 23 NİSAN ULUSAL EGEMEN- LİK VE ÇOCUK BAYRAMI

Türkçe

Ad : .....

Soyad : .....

**FUFUK** Haftalık Çalışma Kitabı



23 Nisan 1920, Türk milletinin iradesini temsil eden Birinci Büyük Millet Meclisi'nin açıldığı ve Türk halkının egemenliğini ilân ettiği tarihtir.

Atatürk, 23 Nisan 1924'te '23 Nisan' gününün bayram olarak kutlanmasına karar vermiştir. Bu tarihten 5 yıl sonra 23 Nisan 1929'da Atatürk bu bayramı çocuklara armağan etmiştir ve 23 Nisan ilk defa 1929 yılında Çocuk Bayramı olarak da kutlanmaya başlanmıştır. 1979'da, yine ilk olarak altı ülkenin katılımıyla uluslararası boyuta taşıdığımız bu milli bayramımıza, ortalama olarak her yıl kırkın üzerinde ülkeden gelen ve Türk çocuklarının misafiri olan yabancı ülke çocukları da katılmaktadır. Dünya'da çocuklarına bayram hediye eden ve bu bayramı bütün dünya ile paylaşan ilk ve tek ülke Türkiye'dir.

Büyük önder Atatürk'ün düşüncesinde çocuklar, milletin geleceğidir. Onlara duyduğu sarsılmaz güvenin ve büyük sevginin ifadesi olarak, milli bayramımız olan 23 Nisanlar'ı çocuklara armağan etmiştir.

Atatürk diyor ki:

"Bütün cihan bilmelidir ki artık bu devletin ve bu milletin başında hiçbir kuvvet yoktur, hiçbir makam yoktur. Yalnız bir kuvvet vardır. O da milli egemenliktir. Yalnız bir makam vardır. O da milletin kalbi ve vicdanıdır."

Alıntı : <https://www.tbmm.gov.tr/>

1 Aşağıda verilen soruları metne göre cevaplayınız.



1. 23 Nisan 1920'de ne açıldı?

2. Atatürk ne zaman "23 Nisan" bayramını çocuklara armağan etti?

3. Çocuklara bayram hediye eden ilk ve tek ülke hangisidir?

4. Atatürk 23 Nisanlar'ı neden çocuklara armağan etmiştir?

1 Türk halkı egemenliğini ne zaman ilan etmiştir?

A 1924    B 1923    C 1920

4 Türk halkı egemenliğini ne zaman ilan etmiştir?

A 1924    B 1923    C 1920

2 23 Nisan ilk defa hangi tarihte Çocuk Bayramı olarak kutlanmaya başlandı?

A 23 Nisan 1923'te  
B 23 Nisan 1929'da  
C 23 Nisan 1979'da

5 Hangi bilgi doğrudur?

A Başka ülkeler de 23 Nisan'ı kutluyor.  
B Atatürk 29 Ekim gününü çocuklara armağan etti.  
C Milletın üstünde tek bir makam var o da padişah.

3 Atatürk'ün düşüncesine göre milletin geleceği kimlerdir?

A Çocuklar    B Gençler  
C Bilim Adamları

6 İlk olarak kaç ülke katılınca 23 Nisan uluslar arası boyuta taşındı?

A 4    B 5    C 6

**ETKİNLİK** 1 Aşağıda verilen soruların cevaplarını yazalım.



Sabah geç uyandığı için bahçede top oynayan Ali'nin yanına koşarak gitti.

Kimin yanına gitti?



Ali'nin yanına nasıl gitti?



Ali ne oynuyordu?



Ali'nin yanına neden koşarak gitti?



Ne zaman Ali'nin yanına gitti?



Ali nerede top oynuyordu?



Fufuk, odasında geç vakitte düdük çaldığı için babası onu sert bir şekilde uyardı.

Fufuk ne çaldı?



Fufuk ne zaman düdük çaldı?



Fufuk nerede düdük çaldı?



Kim Fufuk'u uyardı?



Babası Fufuk'u nasıl uyardı?



Babası Fufuk'u neden uyardı?



Hava soğuk olduğu için bahçeye çıkmayan Aslı, Ali'nin sorusunu tahtada hızlıca çözdü.

Aslı ne çözdü?



Aslı kimin sorusunu çözdü?



Ali'nin sorusunu nasıl çözdü?



Aslı neden bahçeye çıkmadı?



Ali'nin sorusunu nerede çözdü?



2 Aşağıdaki cümlelerde altı çizili sözcükler cevap olacak şekilde uygun sorular yazalım.



- ➔ Aslı'yı sabah uyandırdı.
- ➔ Mikrofonu Fufuk verdi.
- ➔ Yere düştüğü için ağladı.
- ➔ Yavaş yavaş okula gitti.
- ➔ Sokakta bisiklet sürdüler.
- ➔ Odada evcilik oynadılar.
- ➔ Fufuk, Elif'in kalemını aldı.
- ➔ Üşüdüğü için eldiven giydi.
- ➔ Çantasına elma koydu.
- ➔ Çayır kenarında piknik yaptık.
- ➔ Öğlen bizim eve geldi.
- ➔ Dersi çok güzel anlattı.

3 Aşağıdaki kelimelerini kullanarak soru cümlesi yazıp cevabını altına yazalım.



- |        |                  |
|--------|------------------|
| Ne     | ➔ Soru cümlesi : |
|        | ➔ Cevabı :       |
| Neden  | ➔ Soru cümlesi : |
|        | ➔ Cevabı :       |
| Nerede | ➔ Soru cümlesi : |
|        | ➔ Cevabı :       |
| Nasıl  | ➔ Soru cümlesi : |
|        | ➔ Cevabı :       |
| Kim    | ➔ Soru cümlesi : |
|        | ➔ Cevabı :       |



Aşağıda verilen cümlede hangi soruların cevabı varsa işaretleyelim.



1

Ela, yüzme bilmediği için koşarak ablasının simidini almaya gitti.

Ne zaman

Neden

Nasıl

Ne

Nerede

2

Elif, yağmurda ıslandığı için eve gider gitmez kıyafetlerini çıkardı.

Ne zaman

Neden

Nasıl

Ne

Kim

3

Mutfakta kek yapan annesine yardım ettiği için babası Aslı'ya aferin dedi.

Ne zaman

Neden

Nasıl

Ne

Nerede

4

Teneffüs zili çalınca öğretmen sınıfta şarkı açtı.

Ne zaman

Neden

Nerede

Ne

Kim

5

Fufuk'un babası bozuk televizyonu kurcalaya kurcalaya tamir etti.

Kim

Neden

Nasıl

Ne

Nerede

6

Hafta sonu sokağa çıkma yasağı olduğu için 3 tane ekmek aldı.

Ne zaman

Neden

Nasıl

Ne

Kim

7

Fufuk, arkadaşının hasta olduğunu Aslı'ya ağlaya ağlaya söyledi.

Ne zaman

Neden

Nasıl

Ne

Nerede

8

Telefonu bozulduğu için yenisini alan Fufuk iki günde onu da bozdu.

Ne zaman

Neden

Nerede

Ne

Kim

9

Okuldan çıkınca parka giden Fufuk, arkadaşları ile yakalamaca oynadı.

Ne zaman

Neden

Nerede

Ne

Nasıl

5 Aşağıda verilen soruların cevabı olan bir tane cümle yazınız.



1

Kim

Ne

Nerede

2

Neden

Ne

Ne zaman

3

Ne zaman

Kim

Nerede

4

Nerede

Ne

Nasıl

5

Neden

Kim

Nerede

6

Ne zaman

Ne

Nerede

7

Nasıl

Kim

Nerede

8

Neden

Nerede

Nasıl

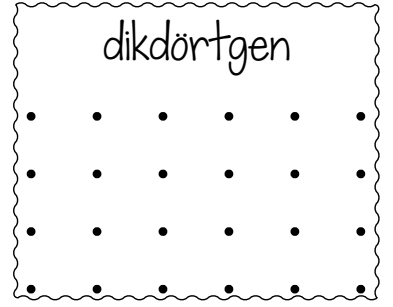
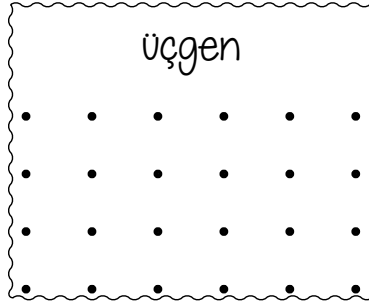
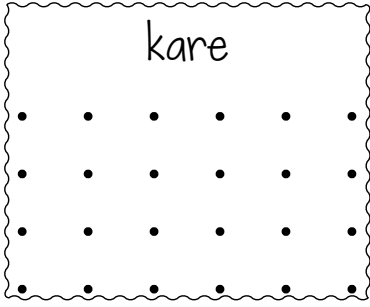
9

Ne zaman

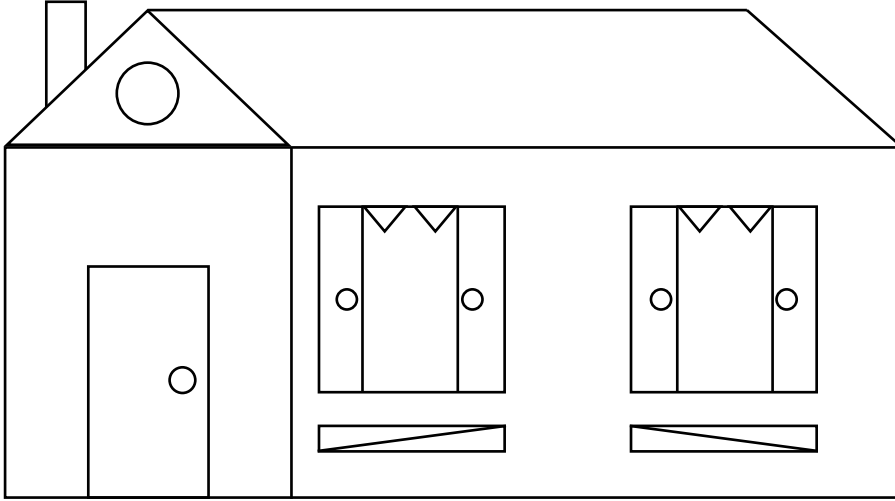
Neden

Kim

1 Aşağıdaki verilen geometrik şekilleri noktalı yerlere çizelim.



2 Aşağıdaki resimde kaç tane geometrik şekillerin olduğunu yan tarafa yazalım.



üçgen

kare

dikdörtgen

çember

3 Aşağıda verilen geometrik şekiller ile kenar sayılarını eşleştirelim.




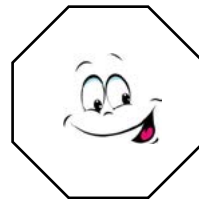

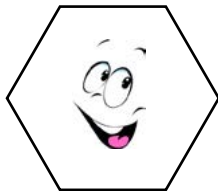

4 kenarlı

5 kenarlı

6 kenarlı

7 kenarlı

8 kenarlı

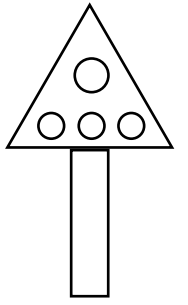
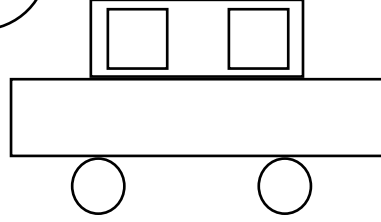






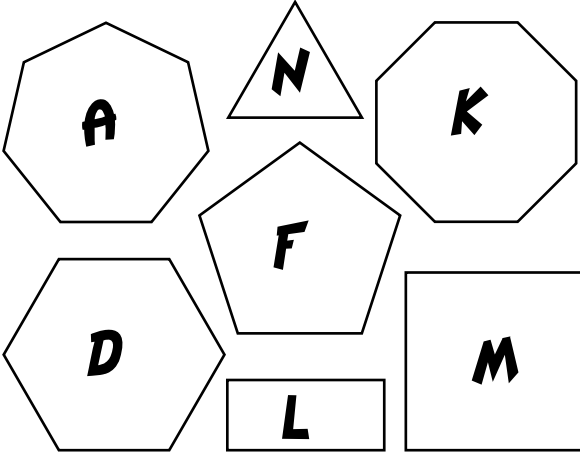
4 Aşağıda verilen resmi kurallara uygun şekilde boyayalım.



Kurallar  
 üçgenler : kırmızı  
 kareler : mavi  
 dikdörtgenler : sarı  
 çemberler : yeşil

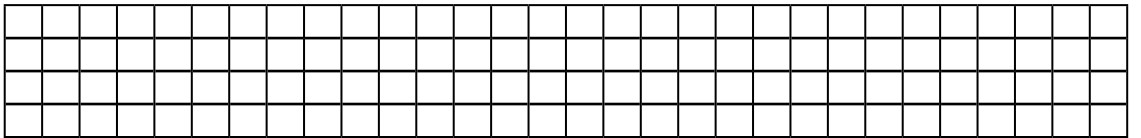
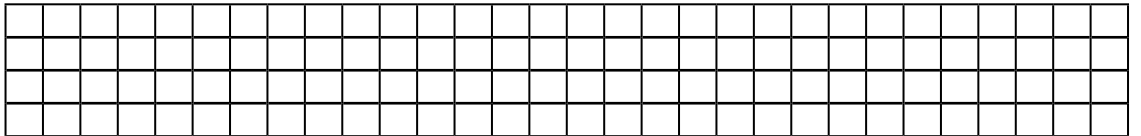

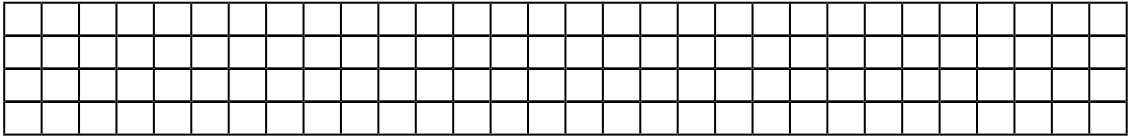


5 Aşağıda verilen şekillerin adını, kenar sayısını ve köşe sayısını tabloda uygun yere yazalım.


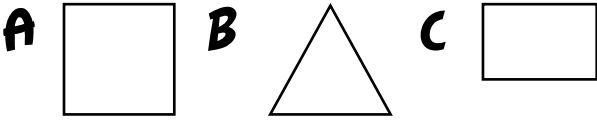


Harf	Şeklin Adı	Kenar Sayısı	Köşe Sayısı
A			
N			
K			
D			
F			
N			
M			

6 Aşağıda geometrik şekillerle oluşturulmuş resmi kareli yere yan yana çizelim ve aynı renklerde boyayalım.



1 Hangi geometrik şeklin köşegeni yoktur?



Yukarıdaki şekilde kaç tane dikdörtgen vardır?

A 4 B 5 C 6

3 Cetvel kullanarak hangi geometrik şekli çizemeyiz?

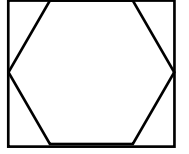
A dokuzgen B beşgen  
C çember

4  Üçgen ve kare çizmek istiyorum.

Buna göre Fufuk'un kullanması gereken prizma hangisi olabilir?

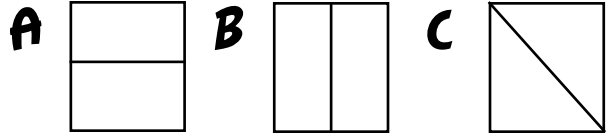
A kare prizma B üçgen prizma  
C dikdörtgen prizma

5 Yandaki görselde hangi geometrik şekil yoktur?



A üçgen B beşgen  
C kare

6 Hangi seçenekte köşegen çizilmiştir?



7 

.	.	.	T	.	U
.	A	.	.	.	.
.	K	.	B	.	Y

Yukarıda noktalardan hangilerini birleştirebilirsek üçgen oluşturamayız?

A K-U-Y B K-B-Y  
C A-T-U

FUFUK Yayınları

FUFUK İle Deyim ve Atasözü Boyuyorum



5 Kitap sadece 18 TL

Toplam 48 Deyim 32 Atasözü  
Her kitabın ayrı değerlendirme kitapçığı vardır.  
Çocuklar deyim ve atasözünü boyuyarak eğlenerek öğrenecek.

Karekod ile tüm cevaplar cebinizde

Whatsapp Sipariş : 0 552 252 83 85

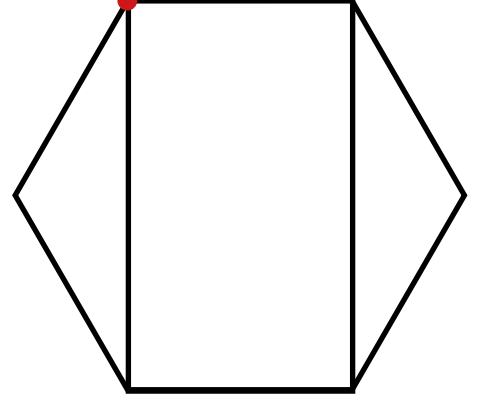
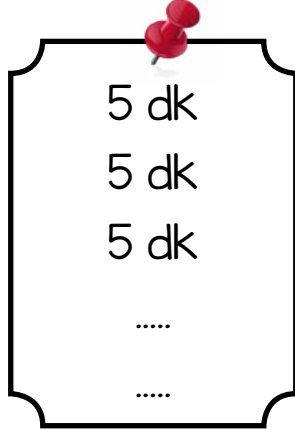
KARGO ÜCRETSİZ



Bu fiyat toplu siparişler için geçerlidir.



## FUFUK YENİ NESİL SORU



Karınca, yukarıda verilen geometrik şekilde kenarların üzerinden yürümeye başladı. Fufuk ise karıncanın bir köşeden diğer köşeye gittiği süreleri sırasıyla not aldı. Karıncanın başladığı köşe hariç 5. köşeye gelince durdu. Karınca durana kadar hep aynı hızda yürüdü.

Yukarıdaki metin ve resim ile ilgili aşağıdaki bilgiler verilmiştir.

- ➔ Karınca yürümeye kırmızı noktadan başladı.
- ➔ Karınca durana kadar hiç aynı köşeden geçmedi.
- ➔ Fufuk'un not aldığı sürelerden bir tanesi farklıdır.

Buna göre karınca kaç dakika yol yürümüş olabilir?

**A** 24

**B** 25

**C** 28

1 Aşağıda verilen davranışlardan doğal çevreyi korumaya yönelik olanları işaretleyelim.



Bitmiş pilleri çöp kutusuna atmak.

Okuldaki tüm öğrenciler araba ile okula gidiyor.

Atıkları geri dönüşüm kutularına uygun atmak.

Alışverişlerde naylon poşet kullanmalıyız.

Güzel kokmak için bol bol parfüm ve deodorant kullanmalıyız.

Fabrika bacalarına filitre takmak.


2 Aşağıda verilen bulmacada doğal çevre olanları kırmızı, yapay çevre olanları sarı renk ile boyayınız. Turuncu renk olan harfleri kullanarak şifremizi bulunuz.



G	E	Y	O	L	A	T	M	Ç	A	D	I	R
Ö	Ş	A	T	O	R	M	A	N	T	A	F	H
K	E	K	Ö	P	R	Ü	R	M	E	Ğ	A	A
D	L	A	K	A	L	E	K	A	F	E	B	V
E	A	R	A	J	O	L	E	V	O	L	R	U
L	L	S	Ç	Ö	L	A	T	D	E	N	İ	Z
E	E	U	I	L	U	N	A	P	A	R	K	E
N	H	A	S	T	A	N	E	H	İ	R	A	C

ŞİFRE

1 Hangi hayvan çevremizde bulunmaz?



2 Ders kitabını bitirince aşağıdakilerden hangisine atmalıyım?



3 Aşağıda verilen eşleştirmelerden kaç tanesi doğrudur?

Dağ



Doğal çevre

Apartman



Yapay çevre

Tarla



Doğal çevre

A 1

B 2

C 3

4


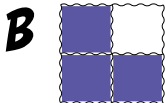
gökdelen

çöl

ırmak

deniz

Doğal çevre olan kutuları boyadığımızda oluşan görüntü hangi seçenekte doğru verilmiştir?



5

İnsanlar tarafından oluşturulan çevreye ..... çevre denir.

Yukarıdaki boşluğa hangi sözcük yazılmalıdır?

A doğal B yapay C güzel

6

Gıda ihtiyacını çevremizde nereden karşılarız?



7



vadi, tünel, çadır



dağ, deniz, göl



park, ev, hastane

Hangi çocuğun söylediklerinin hepsi yapay çevreye örnektir?

A



B



C



8

Resimdeki doğal anıtın adı nedir?



A Peribacası B Traverten

C Mağara

1 Aşağıda verilen görsellerden ortak kullanım alanı olanları işaretleyelim.



2 Aşağıda verilen ifadelerden doğru olanların başındaki kutucuğa "D" yanlış olanların başındaki kutucuğa "Y" harfi yazalım.



Toplu taşıma araçları hepimizin ortak malıdır.

Okul eşyaları hepimizin ortak malıdır.

Stadyum ortak kullanım alanıdır.

Kendi malımız dışındaki mallara zarar verebiliriz.

Ortak kullanım alanlarını temiz tutmak görevimizdir.

Ortak kullanım alanına zarar versek bize bir şey olmaz.

3 Doktor, işini zamanında yapmazsa neler olur yazalım.



.....

.....

.....