

Adı : .....  
Soyadı : .....  
Sınıfı : .....

## 2.SINIF

Haftalık Değerlendirme Sınavı  
18.Hafta



- ▲ Küçük Köpek susamıştı.  
★ hemen sahibinin yanına gitti.  
● Tabaktaki suyu bir çırpıda içti.

1- Hangi sembolle gösterilen cümlede yanlışlık **yapılmamıştır**?

- ▲ (A)      ★ (B)      ● (C)

- Karabaş      kerem      Kelebek

2- Hangi renk karttaki ad doğru yazılmıştır?

- (A)      ■ (B)      ■ (C)

3- Aşağıdaki sözcüklerden hangisi cümle içinde **her zaman** büyük harfle başlar?

- Melike      Maymun      Mandalina

- (A)      (B)      (C)

- elma      ecrin      masa  
kırşehir      pırasa      türkiye

4- Yukarıdaki adlardan hangileri büyük harfle başlamalıdır?

- Masa      Elma      Ecrin  
Kırşehir      Ecrin      Kırşehir  
Pırasa      Türkiye      Türkiye

- (A)      (B)      (C)

- Kişi adları      ► Eşya adları      ► Ülke adları  
► Tekil adlar      ► Yer adları      ► Meyve adları

5- Yukarıdaki adlardan kaç tanesi her zaman büyük harfle başlar?

- 4 (A)      3 (B)      2 (C)

6- Tencere+Kepçe+Ocak=.....

Anlam ilişkisi bakımından noktalı yere hangisi yazılmalıdır?

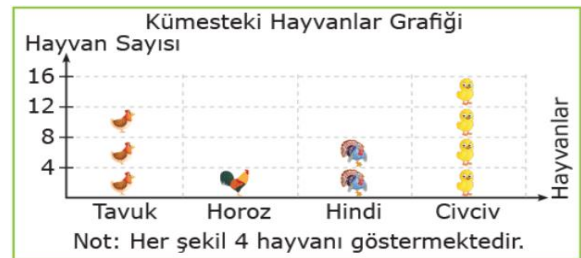
- a) Mutfak      b) Balkon      c) Salon

7- At-ot' kelimeleri arasındaki ilişki hangi ikisi arasında vardır?

- a) Kamyon-tekerlek  
b) Çiçek-çiçekçi  
c) Kedi-mama

8- Hangi eşleştirme anlam bakımından diğerlerinden farklıdır?

- a) Kitap-kağıt  
b) İnsan-ev  
c) Kuş-yuva



(9, 10 ve 11. soruları grafikte verilen bilgilere göre cevaplayınız.)

9- Küreste en çok bulunan hayvan hangisidir?

- a) Tavuk      b) Cıvciv      c) Hindi

10- Küreste kaç hindi vardır?










- a) 4      b) 8      c) 12

11- Kümeste toplam kaç hayvan vardır?

- a) 32      b) 36      c) 40



12- Sembollerle belirtilen kapları alabil-dikleri sıvı miktarına göre küçükten büyüğe doğru sıraladığımızda, doğru sıralama aşağıdakilerden hangisi olur?

- (A)  <  <   
(B)  <  <   
(C)  <  < 




13- Bir demlikten 10 bardak çay elde edilmektedir. Buna göre 4 demlikten kaç bardak çay elde edilir?


-               
(A)      (B)      (C)




14- Bir koyundan günde 2 kova süt alan bir çiftçi, aynı koyundan 5 günde kaç kova süt alır?


-               
(A)      (B)      (C)


Öykü  Çöpleri çöp kutusuna atarım.

Tuna  Oyun alanlarını temiz tutarım.

Özgür  Çöp kutusu bulamazsam çöpümü yere atarım.  
15- Yaşadığı çevreyi temiz tutma konusunda sohbet eden çocuklardan hangisinin bahsettiği davranışı **yanlıştır**?

- (A) Öykü      (B) Tuna      (C) Özgür

 Doktorların yazdığı ilaçları ..... alırız.

 Hastalandığımızda bizi ..... muayene eder.

 ..... yaptıkları işlerde doktorlara yardımcı olurlar.

16- Yukarıdaki ifadelerin doğru olması için noktalı yerlere sırasıyla hangi seçenekteki sözcükler yazılmalıdır?


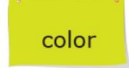
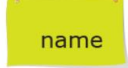
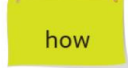
- |            |            |           |
|------------|------------|-----------|
| eczaneden  | hastaneden | eczaneden |
| doktor     | doktor     | hemşire   |
| Hemşireler | Eczacılar  | Eczacılar |
- (A)      (B)      (C)







17- Yukarıdaki tabloda verilen mesleklerden hangileri sağlık alanında çalışmaktadır?

-               
(A)      (B)      (C)


18- Konuşma balonunda boş bırakılan yere hangi seçenekteki sözcük gelmelidir?

- What ..... is it?      It's blue.
- 
-               
(A)      (B)      (C)

19- Görsele göre aşağıdaki sorunun yanıtı hangi seçenekte verilmiştir?

- What color is it?
- 
- It's yellow.       It's brown.       It's red.   
(A)      (B)      (C)

20- Aşağıdaki konuşmada boş bırakılan yere hangi seçenekteki soru gelmelidir?

- ..... ?  
- It's blue.
- 
- What is your name?      What is this toy?      What color is it?  
(A)      (B)      (C)