



KİTAP TANITIM VIDEOSU
TIKLA İÇERİĞİNİ ÖĞREN



FUFUK İLE TÜRKİYE MACERASI

DEV İNDİRİM
29 EKİM SON

7 KİTAP

22TL



WHATSAPP SİPARİŞ

0 552 252 83 85

TEKLİ SİPARİŞ FİYATI = 30 TL

✓ 1.Sınıf ✓ 2.Sınıf
✓ 3.Sınıf ✗ 4.Sınıf

Bulmacalı Türkiye
Haritası Hediye

Hediye



KARGO
BEDAVA



KİTAP TANITIM VIDEOSU
TIKLA İÇERİĞİNİ ÖĞREN



FUFUK İLE HIZLI VE ANLAMLI OKUYORUM

DEV İNDİRİM
29 EKİM SON

5 KİTAP

18TL



WHATSAPP SİPARİŞ

0 552 252 83 85

TEKLİ SİPARİŞ FİYATI = 25 TL

✓ 1.Sınıf ✓ 2.Sınıf
✓ 3.Sınıf ✓ 4.Sınıf

Her kitaba özel
Değerlendirme Kitapçığı



KARGO
BEDAVA

4. Hafta

Konu : Akrostiş ve Anı

Ad :

Soyad :

FUFUK Haftalık Çalışma Kitabı



Türkçe



BİLGİ

Akrostiş : Dizelerin ilk harflerini yukarıdan aşağıya okuduğumuzda anlamlı bir sözcük meydana gelmesidir.

Anı : Yaşadığımız olayları duygu ve düşüncelerimizi katarak yazdığımız metin yazılarıdır.

ETKİNLİK

1 Aşağıda verilen harflerle akrostiş şiir yazınız.

F
U
F
U
K

K
O
C
A

Yazdığınız akrostişleri Instagram Hikayemde paylaşacağım. @ufukkoca61 göndermeyi unutma.

ETKİNLİK

2 Aşağıya yaz tatilinde yaşadığınız en güzel anınızı yazar mısınız?





BİLGİ

Sözcük : Tek başına anlamı olan ya da cümle içinde anlam kazanan ses veya ses gruplarına denir.

Tek başına anlamı olan : Ali, masa, saç, iki, ben, yüz vb...

Tek başına anlamı olmayan : de, ile, çünkü, ama, gibi vb...

ETKİNLİK

1

Aşağıda istenen bilgiye göre doğru işaretlemeler yapalım.



Tek başına anlamı olanları işaretleyelim.



kırmızı

bin

ama

sözcük

ve

göz



Tek başına anlamı olmayanları işaretleyelim.



fakat

saat

veya

cümle

anne

ise



Tek başına anlamı olanları işaretleyelim.



sıra

gene

okul

bile

için

bak



Tek başına anlamı olmayanları işaretleyelim.



çünkü

örtü

çift

ancak

park

beş

ETKİNLİK

2

Aşağıda verilen cümlelerde kaç tane sözcük var başındaki kutucuklara yazalım.

Bugün okulda en sevdiğim arkadaşım ile birlikte bahçede ip atladım.

Annem her sabah kahvaltıda kardeşimle bana yumurta yedirir.

Babam akşam eve geldiğinde ödevime bakar ve yanlışlarımı söyler.

Okul bizi hayata hazırlayan en güzel yer.

Okulların açılmasını dört gözle bekliyordum.



1 Aşağıda verilen sözcüklerin zıt anlamlarını altlarına yazınız.

büyük

uzak

doğru

genç

zengin

soru

tümsek

ağır

hızlı

zor

mutlu

kış

şişman

çekmek

güney

kış

evet

soru

2 Aşağıda verilen cümlede zıt anlamı olan kelimeleri yuvarlak içine alıp zıt anlamlarını yandaki kutucuklara yazalım.

Bahçede küçük tavşanı çok sevdim.

Pahalı ayakkabısını arkadaşına verdi.

Kazandığı ödülü annesine gösterdi.

Sokaktaki yaşlı teyze zor yürüyordu.

Sabah kahvaltıda sıcak süt içtim.

Ormandaki uzun ağaçların arkasına saklandı.

Teyzem yeni aldığı beyaz elbisesini yıkadı.

Öğretmen, Ahmet'e kolay soruları gösterdi.

Annem iyi ve cesur bir doktor olmamı istedi.

Gece başlayan yağmur şehri göle çevirdi.

3 Aşağıda verilen sözcüklerin eş anlamlarını altlarına yazınız.

öğretmen		öğrenci		doktor	
kırmızı		beyaz		siyah	
okul		kelime		cümle	
yıl		yüzyıl		kalp	
soru		cevap		lisan	
konuk		ev		hediyeye	
görev		anı		güz	
hikâye		vatan		millet	

4 Aşağıda verilen cümlede eş anlamı olan kelimeleri yuvarlak içine alıp eş anlamlarını yandaki kutucuklara yazalım.

Müdür okulun bahçesinde duyuru yaptı.

Fakir çocuk yemek yemedi.

Bu şehirde yaşamak rüya gibi.

Şair ismini söylemedi.

Kirli kıyafetlerini suyla yıkadı.

Kafası ıslanan çocuk hasta oldu.

Yaşlı adam oyunu kullandı.

Depremde tüm evler sallandı.

Güçlü çocuk görevini yaptı.

Kaç yıl önce yaptılar?

ETKİNLİK

5 Aşağıda verilen bulmacada eş sesli olan kelimeleri bulalım.
Bulduğumuz eş sesli kelimeleri yandaki kutucuklara yazalım.

A	D	B	A	L	Y	E	D	İ
Ç	D	O	L	U	K	K	A	Z
B	A	Ğ	B	M	I	M	D	U
T	F	A	İ	A	R	E	O	L
Y	Ü	Z	N	D	İ	K	N	K
A	Z	Y	O	L	S	I	R	A
Z	K	I	Z	Ç	A	Y	I	Ç

ETKİNLİK

6 Aşağıda verilen eş sesli kelimeleri kullanarak iki farklı cümle yazalım.



1

SORU

Zıt anlamı olan 5 harfli 3 tane kelime yazar mısın?

Cevap :

2

SORU

Eş anlamı olan 3 heceli 3 tane sözcük yazar mısın?

Cevap :

3

SORU

Zıt anlamı olan 2 heceli 3 tane kelime yazar mısın?

Cevap :

4

SORU

Aşağıya yazacağınız cümlede hem eş anlamı olan hem de zıt anlamı olan kelime olsun.

Cevap :

5

SORU

Aşağıya yazacağınız cümlede eş anlamı ve zıt anlamı olan kelime olmasın.

Cevap :

6

SORU

“dar” “yaşlı” “kuzey” yukarıdaki sözcüklerin zıt anlamlarını bulup alfabetik sıraya göre sıralayınız.

Cevap :

7

SORU

“görev” “yurt” “zaman” yukarıdaki sözcüklerin eş anlamlarını bulup alfabetik sıraya göre sıralayınız.

Cevap :

8

SORU

Bu etkinlik sayfalarında hiç yazılmamış 4 tane eş sesli kelime bulup yazar mısın?

Cevap :

1 Hangi sözcüğün hem eş anlamı hem zıt anlamı **yoktur**?

A yaşlı B siyah

C kırmızı

2

fa

hi

ka

ye

Yukarıda verilen heceler ile hangi sözcüğün eş anlamı **yazılamaz**?

A baş B öykü

C zengin

3

bin

doğu

bayat

Yukarıda verilen sözcüklerden hangisinin zıt anlamı **yoktur**?

A 

B 

C 

4

Yandaki resmin zıt anlamlısı aşağıdakilerden hangisi **olamaz**?

A erkek B kolay

C çirkin



5

Aşağıdaki cümlelerin hangisinde zıt ve eş anlamı olan sözcük kullanılmamıştır?

A Yüzyıl geçti hala aynı araba.

B Sert duvara çarparak durdu.

C Sarı masaları ben boyadım.

6



Bu benim ilk bisiklete binişim.

Fufuk'un söylediği cümlede ki kelime sayısı ile hangi cümledeki kelime sayısı aynıdır?

A 0, bu resmi bana verdi.

B Her gün kahvaltı yaparım.

C Dün iki tane büyük muz yedim.

7

aç

siz

biz

iç

diz

yaz



Yukarıda eş sesli olan sözcükleri sileceğim.

Buna göre yukarıda kaç sözcük kalır?

A 2

B 3

C 4

CEVAPLAR

1 (A) (B) (C)

5 (A) (B) (C)

2 (A) (B) (C)

6 (A) (B) (C)

3 (A) (B) (C)

7 (A) (B) (C)

4 (A) (B) (C)

8 ~~(A) (B) (C)~~



BİLGİ

Bir sayı örüntüsünde belirli bir kural vardır. Sayılar ya artarak ilerliyordur ya da azalarak ilerliyordur. Biz bu kuralı bildikten sonra sayıları kendimiz sayarak ilerletebiliriz.

ETKİNLİK 1 Aşağıda verilen kurala göre sayı örüntüsünü devam ettiriniz.

Kural : Sayılar 6 artıyor.

24 - 30 - 36 - - -

Kural : Sayılar 7 azalıyor.

40 - 33 - 26 - - -

Kural : Sayılar 8 azalıyor.

70 - 62 - 54 - - -

Kural : Sayılar 9 artıyor.

15 - 24 - 32 - - -

Kural : Sayılar 6 azalıyor.

92 - 86 - 80 - - -

Kural : Sayılar 7 artıyor.

75 - 68 - 61 - - -

Kural : Sayılar 5 azalıyor.

63 - 58 - 53 - - -

Kural : Sayılar 4 artıyor.

23 - 27 - 31 - - -

Kural : Sayılar 3 azalıyor.

92 - 89 - 86 - - -

Kural : Sayılar 8 artıyor.

50 - 58 - 66 - - -

Kural : 8 ile başlayan ve her adımda 7 artan örüntü yazınız.

Kural : 35 ile başlayan ve her adımda 6 artan örüntü yazınız.

Kural : 74 ile başlayan ve her adımda 8 azalan örüntü yazınız.

Kural : 80 ile başlayan ve her adımda 9 azalan örüntü yazınız.

ETKİNLİK 2 Aşağıda verilen sayı örüntülerin kuralını bulunuz.

Kural :
22 - 27 - 32 - 37 - 42 - 47

Kural :
60 - 56 - 52 - 48 - 44 - 40

Kural :
59 - 52 - 45 - 38 - 31 - 24

Kural :
23 - 31 - 39 - 47 - 55 - 63

Kural :
18 - 26 - 34 - 42 - 50 - 58

Kural :
77 - 74 - 71 - 68 - 65 - 62


Kural :
87 - 78 - 69 - 60 - 51 - 42

Kural :
55 - 49 - 43 - 37 - 31 - 25

Kural :
33 - 39 - 45 - 51 - 57 - 63


Kural :
24 - 33 - 42 - 51 - 60 - 69

ETKİNLİK 3 Aşağıda verilen modellere göre örüntüyü ve kuralını bulup yazalım.. 5 adım daha devam ettirelim.



Örüntü :

Kural :



Örüntü :

Kural :



BİLGİ

Bir doğal sayı modeller ile gösterdiğimizde çiftleri varsa o doğal sayı çifttir. Eğer bir tane modelin çifti yoksa o sayı tektir.



8 tane ayakkabı vardır. Her ayakkabının çifti olduğuna göre 8 sayısı çifttir.



9 tane ayakkabı vardır. Bir tane ayakkabının çifti yoktur. Bu yüzden 9 sayısı tektir.



Sayılar büyüdüğünde biz bütün sayıların çiftini bulmakta zorlanırsınız. Bu yüzden biz sayının sadece birler basamağındaki rakama bakarız. Birler basamağındaki rakam : 0 - 2 - 4 - 6 - 8 ise o sayı çifttir. Birler basamağındaki rakam : 1 - 3 - 5 - 7 - 9 ise o sayı tektir.

ETKİNLİK

1 Aşağıda verilen sayılardan tek olanların başındaki kutucuğa "T" harfi çift olanların başındaki kutucuğa "Ç" harfi yazalım.

235

654

260

259

409

423

285

336

951

490

522

780

465

741

505

668

634

284

963

524

359

231

796

852

607

718

432

558

123

338

765

443

532

486

225

450

556

357

684

470

646





669

753

772

307

2 Aşağıda verilen dondurma toplarına başlığına uygun 3 basamaklı doğal sayılar yazalım. Yazdığımız her sayı farklı olsun.



3 Aşağıda verilen kurallara uygun 3 basamaklı doğal sayıları yazalım.

3 - 0 - 7 - 9 - 6

2 - 8 - 0 - 1 - 5

En büyük çift sayı :

En büyük çift sayı :

En büyük tek sayı :

En büyük tek sayı :

Rakamları farklı en büyük çift sayı :

Rakamları farklı en büyük çift sayı :

Rakamları farklı en küçük çift sayı :

Rakamları farklı en küçük çift sayı :

Rakamları farklı en büyük tek sayı :

Rakamları farklı en büyük tek sayı :

Rakamları farklı en küçük tek sayı :

Rakamları farklı en küçük tek sayı :

1

SORU

52 - 46 - 40 - 34

Yukarıdaki örüntünün kuralını yazar mısınız?

Cevap

2

SORU

36 - 43 - 50 - 57

Yukarıdaki örüntünün kuralını yazar mısınız?

Cevap

3

SORU

Her defasında 9 artan ve 52 den başlayan 5 adımlı örüntü yazar mısın?

Cevap

4

SORU

Her defasında 4 azalan ve 73 den başlayan 5 adımlı örüntü yazar mısın?

Cevap

5

SORU

3 basamaklı 3 tane çift sayı ile 2 basamaklı 2 tane tek sayı yazabilir misin?

Cevap

6

SORU

280 < < 449

Yukarıdaki noktalı yere gelecek en büyük tek sayı ile en küçük çift sayı kaçtır?

Cevap

7

SORU

397 < < 800

Yukarıdaki noktalı yere gelecek en büyük çift sayı ile en küçük tek sayı kaçtır?

Cevap

8

SORU

524 < < 608

Yukarıdaki noktalı yere gelecek en büyük tek sayı ile en küçük çift sayı kaçtır?

Cevap

www.ufukkoca.com

Sayı Örüntüleri, Tek ve Çift Sayılar

FUFUK Yayınları

1 Hangisi rakamları farklı en büyük 3 basamaklı çift sayıdır?

A 999 B 987 C 986

6 "62A" Rakamları birbirinden farklı 3 basamaklı çift doğal sayı olduğuna göre "A" yerine yazılacak rakamların toplamı kaçtır?

A 12 B 14 C 18

2 Hangisi rakamları farklı en küçük 3 basamaklı tek sayıdır?

A 101 B 102 C 103

3  Günde 36 sayfa kitap okuyorum.

Fufuk'un okuduğu sayfa sayısı tek sayı olması için en az hangi sayı ile toplamalıyız?

A 1 B 2 C 3

4 "35A" 3 basamaklı çift doğal sayı olduğuna göre "A" aşağıdakilerden hangisi **olamaz**?

A 2 B 3 C 4

5 "97A" Rakamları farklı 3 basamaklı en büyük tek sayı olduğuna göre A ile yazılan yere hangi rakam gelmelidir?

A 9 B 7 C 5

7 Yüzler basamağı ile birler basamağı aynı olan en küçük 3 basamaklı çift doğal sayı kaçtır?

A 102 B 200 C 202

8  Tek sayıları çok seviyorum.

Bilgin Eli'nin sevdiği sayıları kullanarak yazacağımız en küçük 3 basamaklı doğal sayı kaç olur?

A 101 B 103 C 111

CEVAPLAR

1	(A) (B) (C)	5	(A) (B) (C)
2	(A) (B) (C)	6	(A) (B) (C)
3	(A) (B) (C)	7	(A) (B) (C)
4	(A) (B) (C)	8	(A) (B) (C)

4. Hafta

Konu : Duyu Organları ve Görevleri

Ad :

Soyad :

Fen Bilimleri

FUFUK Haftalık Çalışma Kitabı



BİLGİ

Çevremizi görme, işitme, dokunma, tat alma ve koku alma duyu organlarıyla algılarız. Bu organlar ise göz, kulak, deri, dil ve burundur.

Göz : Görme

Kulak : İşitme

Burun : Koku alma

Dil : Tat alma

Deri : Dokunma



ETKİNLİK

1 Aşağıda görselleri verilen organların görevlerini altına yazalım.



ETKİNLİK

2 Aşağıda görsellere göre çocuklar hangi duyu organlarını kullandıklarını işaretleyelim.



kulak

burun

göz



deri

dil

burun



burun

göz

kulak



dil

burun

kulak



deri

dil

kulak



kulak

dil

deri

3 Aşağıda cümleleri okuyalım. Cümlede hangi duyu organlarını kullandıysak onları işaretleyelim.

→ Kırmızı çiçekler çok güzel kokuyordu.



→ Annemin getirdiği sıcak sütü içtim.



→ Mis gibi kokan yemeklerin tadı da çok güzeldi.



→ Pürüzlü duvara 2 farklı renkte yazı yazdı.



→ Bahçeden babam seslenince koşarak yanına gittim.



→ Yeni aldığı kırmızı top çok hafifti.



→ Buz gibi dondurma yediğim için hasta oldum.



→ Havlayan köpekleri görünce koşarak kaçtım



ETKİNLİK 4 Aşağıda verilen bilgileri hangi duyu organımız ile yaptığımızı altındaki kutucuğa yazalım.

Varlıklardan gelen ışığı algılar.

Koku ve nefes almamızı sağlar.

Vücudumuzu darbelere karşı korur.

Cisimlerin sert ya da yumuşak olup olmadığını anlarız.

İşitmemizi ve dengemizi sağlar.

Besinlerin tadını algılarız.

Varlıkların renklerini ayır eder.

Vücut ısısını ayarlar.

ETKİNLİK 5 Aşağıda cümleleri okuyalım. Uygun kutucuğu işaretleyelim.

Kulaklarımızı sert ve sivri cisimler ile temizlemeliyiz.

Doğru

Yanlış

Dil konuşmamıza yardımcı olan bir organdır.

Doğru

Yanlış

Deri sağlığımız için düzenli olarak banyo yapmalıyız.

Doğru

Yanlış

Burun soluk alıp vermeye yarayan organdır.

Doğru

Yanlış

Gürültülü ortamlar kulaklarımıza zarar verir.

Doğru

Yanlış

Varlıkların şekillerini gözümüzle anlayabiliriz.

Doğru

Yanlış

Gözlerimizi aşırı ışıktan korumalıyız.

Doğru

Yanlış

Limonun ekşi olduğunu kokusundan anlayabiliriz.

Doğru

Yanlış

Havanın sıcak ya da soğuk olduğunu işiterek de anlayabiliriz.

Doğru

Yanlış

Göz kapaklarımız açıkken çevremizdeki varlıkları göremeyiz.

Doğru

Yanlış

Sıra Sende Köşesi

Öğrendiğin konu ve etkinliklere bakarak uygun sorular ya da bilgiler yazalım. Cevaplar verilmemişse onları da kendimiz bulalım.

ETKİNLİK





1 Aşağıda işaretlenmiş duyu organlarını kullanacağınız resimler çizelim.

	göz		deri ✓	
	burun ✓		dil	
	kulak		kulak	✓

ETKİNLİK

2 Aşağıda işaretlenmiş duyu organlarını kullanacağınız cümleler yazalım.

→					
	✓			✓	

→					
			✓		✓

→					


ETKİNLİK


3 Duyu organlarımız ve görevleri ile ilgili cevaba uygun cümleler yazalım.


Doğru ✓	Yanlış	Doğru	Yanlış ✓
---------	--------	-------	----------

Doğru	Yanlış	Doğru	Yanlış
-------	--------	-------	--------



1 Hangi çocuk duyu organlarımızın hepsini doğru söylemiştir?

A  Kalp, mide, akciğer, bağırsak, göz, burun, dil.

B  Dil, burun, kulak, ağız, diş, göz

C  Kulak, burun, deri, dil, göz

2 Hangisi duyu organlarımızdan biri değildir?

A  B  C 

3 Elma'nın tadını hangi duyu organımız ile algılarız?


A Burun B Kulak
C Dil

4

tat alınız.	göz
işitiriz.	burun
	kulak


Yukarıda verilen duyu organları ile görevleri eşleştiginde hangisi dışarıda kalır?

A göz B burun
C kulak

5  Bahçede sert duvarın yanındaki kırmızı gülü kokladım.

Buna göre Fufuk hangi duyu organını kullanmamıştır?

A deri
B göz
C kulak

6  Yumuşak hamurları bulup kapının arkasındaki kutuya koydum.

Buna göre Bilgin Eli hangi duyu organlarını kullanmış oldu?

A deri, burun B göz, deri
C göz, kulak

7

diş	göz
kulak	kafa
dil	burun

Yukarıdakilerden kaç tanesi duyu organlarımız arasında yer almaz?

A 2 B 3 C 4

CEVAPLAR

1 (A) (B) (C) 5 (A) (B) (C)
2 (A) (B) (C) 6 (A) (B) (C)
3 (A) (B) (C) 7 (A) (B) (C)
4 (A) (B) (C) 8 ~~(A) (B) (C)~~



BİLGİ

Okulda sosyal etkinliklerin de olduğunu bilmeliyiz. Örneğin satranç kulübüne katılıp satranç öğrenebiliriz. Okul hem bizim gelişmemize katkı sağlar hem de toplumun gelişmesine katkı sağlar.

ETKİNLİK

1 Aşağıdaki bilgilerden doğru olanların başındaki kutucuğa "D" harfi yanlış olanların başındaki kutucuğa "Y" harfi yazalım.

Okulda sadece okuma ve yazma öğreniriz.

Okullarda sosyal etkinlikler düzenlenmez.

Okulda düzenlenen sosyal etkinliklere sadece öğrenciler katılır.

Satranç hafızayı geliştirir ve hızlı düşünmeyi sağlar.

Okul bize yardımlaşmayı ve dayanışmayı öğretir.

Okulda bütün işleri tek başımıza yapmamız gerekir.

Sosyal ve kültürel etkinliklere katılmak öz güvenimizi artırır.

ETKİNLİK

2 Aşağıda verilen ifadeleri okuyup uygun kutucuğu işaretleyelim.

Okul bizi hayata hazırlar seçeceğimiz mesleğe yardım eder.

Bireysel

Toplumsal

Okul bize tarihimizi ve kültürümü-zü öğretir.

Bireysel

Toplumsal

Okulda okuma-yazma ve matematik öğreniriz.

Bireysel

Toplumsal

Okulda vatan ve millet sevgisini öğreniriz.

Bireysel

Toplumsal

Okul bize toplumsal kuralları öğretir.

Bireysel

Toplumsal

Okul bize paylaşmayı ve yardım etmeyi öğretir.

Bireysel

Toplumsal



BİLGİ

Bazı sebeplerden dolayı zor durumda olan insanlara destek olmaya **yardımlaşma** ve **dayanışma** denir.

ETKİNLİK

1 Aşağıda verilen cümleleri okuyalım. Yardımlaşma ve dayanışma amacı taşıyorsa başındaki kutucuğu işaretleyelim.

Zor durumda olan çocuklarla yardım etmeliyiz.

Arkadaşımın derslerine çalışmasında yardımcı olurum.

Yardım ettiğim kişilerden para isterim.

Okuduğum kitapları ihtiyacı olan arkadaşlarıma veririm.

Paramı herkese dağıtırım.

Kötü durumda olan insanları küçümserim.

Yardım ettiğim insanları herkese anlatırım.

Arkadaşlarımda sadece iyi zamanlarında yanında olurum.

ETKİNLİK

2 Aşağıda verilen kelimeleri bulmacada bulalım.

A	K	Ü	L	T	Ü	R	E	L	O	B	S	Satranç	Sosyal
S	O	K	U	L	E	L	A	İ	T	İ	A	Kültürel	Yardım
O	D	A	Y	A	N	I	Ş	M	A	R	T	Okul	Birlik
S	O	S	E	Ğ	İ	T	İ	M	R	L	R	Dayanışma	Eğitim
Y	A	Y	A	R	D	I	M	E	K	İ	A	Öğretim	Sınıf
A	L	K	I	S	I	N	I	F	I	K	N		
L	Ö	Ğ	R	E	T	İ	M	A	F	A	Ç		

1 Rakamları (1, 2, 3, 4, 5, 6) kullanarak sudokuyu yapalım.
Her satır ve sütunda farklı rakamlar olmasına dikkat edelim.

4	6		3		5
	2		4	6	1
			1		6
1		6	5		2
6				5	3
2		3	6		



2		1	6		3
				1	
	4			3	6
5			1	2	4
4			3		
	2		4		1



	5		6	3	
6				1	
				2	
5	6	2	3		1
4					3
	3	6	4	5	2



		2		3	1
		6		2	
3		1	5		4
5	4		6		2
			1		
	6	4	2	5	



1		3		4	2
		2		6	
	1	5			
4	3				1
3			6	2	4
6	2				5



6		3			2
5	2		6	4	
		4	2		
		6			
4	6				1
	1	2	4	5	6



4. Hafta

Konu : Deyim ve Atasözü

Ad :

Soyad :

FUFUK Haftalık Çalışma Kitabı

Türkçe

Atasözü

Anlamı

Bakarsan bağ olur, bakmazsan dağ olur.

Bir işe önem verip ilgilenirsen ondan verim alabilirsin. Ama bakmaz ilgilenmezsen hiç bir verim alamazsın.

Resim

Kısa Hikâye

Deyim

Alın teri dökmek

Resim

Anlamı

Zahmetli iş için çok emek vermek.

Örnek

Fufuk, yaptığı bu işte büyük alın teri döktü.

Örnek Cümlem

Muhteşem dörtlü tahtadan yapılmış büyük bir at gördü. Nerede olduklarını anlamaya çalıştılar. Bilgin Eli, az ileride deniz görünce aklına bir iki tane şehir ismi geldi. Şakacı Fufuk ise yine şaka yapmak için düşünmeye başladı. Sakar Titi, altın topu alıp atın yanına gitti. Ama atın içinden birden insanlar çıkınca korkudan elindeki topu havaya attı. Altın top rüzgârın etkisiyle havada uçmaya başladı.



Muhteşem dörtlü ne gördü?

Sakar Titi neden elindeki topu attı?

Altın topu kim aldı?

Havada uçmaya başlayan şey ne?

Fufuk, neden düşünmeye başladı?

Sizce muhteşem dörtlü hangi ilde?

Hikâyeye uygun bir başlık yazalım.

Hikâyeye de kullanılan noktalama işaretlerini yuvarlak içine alalım.

Fufuk kardeşi ile bahçede çilek topladı. Büyük çilekleri kardeşi, küçük çilekleri Fufuk yedi. Eve de on beş tane çilek götürdüler. Babası çilekleri görünce hemen yıkadı. Bunu gören Fufuk şaşırıldı. "Baba çilek yıkanır mı?" dedi.

Sakar Titi, yolda elindeki haritaya baka baka yürüyordu. Bu sırada bir adama çarptı. Sakar Titi "Özür dilerim amca. Bir daha size çarpmam." dedi. Amca gülerek "Önemli değil ufaklık." dedi. Sakar Titi daha dikkatli yürüdü.

Küçük çilekleri kim yedi?

Sakar Titi yolda nasıl yürüyordu?

Fufuk, neden şaşırıldı?

Amca, Sakar Titi'ye ne dedi?

4. Hafta

Konu : Dikkat Çalışması

Ad :

Soyad :

FUFUK Haftalık Çalışma Kitabı

Kodlama

ETKİNLİK

1 Aşağıda verilen isimleri tabloda kodlarına uygun yerlere yazınız. Tabloda boş kalan kutucuğa kendi adınızı yazıp yan tarafa da kodla birlikte adınızı yazın.



	1	2	3
A			
B			
C			

B1 Yaşar

A2 Zeynep

A3 Berat

C1 Özlem

C2 Güney

B2 Yasemin

B3 Musa

C3 Yağmur

.....

	1	2	3
A			
B			
C			

A3 Kedi

B2 Koyun

B3 Kuş

C1 İnek

A1 Keçi

A2 Tavuk

B1 Kuzu

C3 Tavşan

.....

	1	2	3
A			
B			
C			

A2 Berber

B2 Pilot

B3 Kasap

C2 Kaptan

C1 Doktor

A3 Şoför

A1 Makinist

C3 Mühendis

.....

	1	2	3
A			
B			
C			

C2 Nane

C3 Marul

B3 Dereotu

B1 Biber

A1 Tere

A3 Maydanoz

C1 Soğan

B2 Brokoli

.....

4. Hafta

Konu : Kelime Türet

Ad :

Soyad :

FUFUK Haftalık Çalışma Kitabı

Bulmaca

ETKİNLİK

1 Aşağıda verilen kurala uygun anlamlı sözcükler bulup toplam puanınızı kutulara yazın. En son tüm puanlarınızı toplayın. Aynı harfleri dilediğiniz kadar kullanabilirsiniz.



1 Puan **E**

1 Heceli sözcükler

Nal	11

2 Puan **L**

2 Heceli sözcükler

3 Puan **A**

4 Puan **K**

5 Puan **i**

6 Puan **N**

5-6 Harfli sözcükler

1 Puan **O**

1 Heceli sözcükler

2 Puan **M**

2 Heceli sözcükler

Kutu	16

3 Puan **U**

4 Puan **K**

5 Puan **Ü**

6 Puan **T**

5-6 Harfli sözcükler

1 Puan **A**

1 Heceli sözcükler

2 Puan **S**

2 Heceli sözcükler

3 Puan **R**

4 Puan **E**

5 Puan **K**

6 Puan **I**

5-6 Harfli sözcükler

Isırık	28

4.
Hafta

Konu : FUFUK Bilgi Yarışması

Ad :

Soyad :

FUFUK Haftalık Çalışma Kitabı

➡ Mobil Uygulama ⚡

Google Play'den
Ücretsiz İndir



ONLINE TESTLERE KATIL

**ARKADAŞINA
MEYDAN OKU !**



Okul Öncesi - İlkokul - Ortaokul herkes kullanabilir.



FUFUK BİLGİ YARIŞMASI

TIKLA ÜCRETSİZ İNDİR

EBA Tv programına uygun **her gün** işlenen ders ile ilgili test yüklüyoruz.

EBA Tv de hangi konuları gördüyse biz de mobil uygulamada o **konular** ile ilgili sorular soruyoruz.

Testleri **gününde** çözerseniz daha fazla puan kazanırsınız.

Arkadaşınıza **meydan okuyarak** ekstra puanlar kazanabilirsiniz.