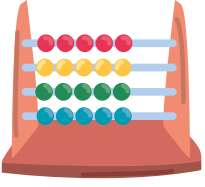


ÖDEV SETİ

2. Sınıflar


16-20 Kasım 2020



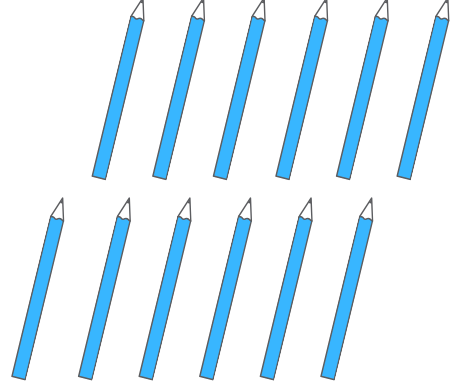


DESTE-DÜZİNE

** DESTE = 10 Adet (aynı türün oluşturduğu topluluk)
** DÜZİNE = 12 Adet (aynı türün oluşturduğu topluluk)






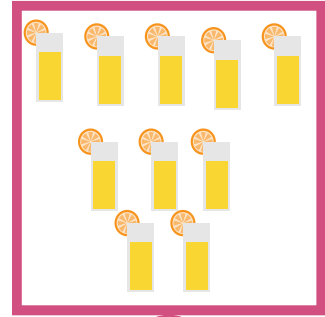


10 tane kalem = 1 **deste** kalem









12 tane kalem = 1 **düzine** kalem

ALİŞTIRMALAR

1- Aşağıdaki kutulardan 1 deste olanları işaretleyiniz.




2- Aşağıdaki kutulardan I düzine olanları işaretleyiniz.



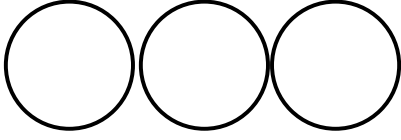
3- Aşağıdaki yıldızlardan I deste kadarını boyayınız.



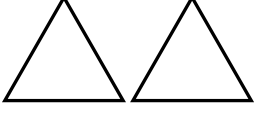
4- Aşağıdaki bulutlardan I düzine kadarını boyayınız.




5- Aşağıdaki daireleri 1 desteye tamamlayıp, boyayınız.




6- Aşağıdaki üçgenleri 1 düzineye tamamlayıp, boyayınız.




7- Aşağıdaki nesnelerin 1 desteden ne kadar fazla olduklarını örnekteki gibi belirtiniz.




.....⁴..... tane fazla



..... tane fazla




..... tane fazla




..... tane fazla


8- Aşağıdaki nesnelerin 1 düzineden ne kadar fazla olduklarını belirtiniz.



..... tane fazla



..... tane fazla



..... tane fazla



DESTE- DÜZİNE PROBLEMLERİ



Ayşe K Sahmaran

1- Ayşe'nin 3 tane boyası vardır. 1 düzine boyası olabilmesi için kaç tane boyaya daha ihtiyacı vardır?

2- Ali'nin 2 tane bilyesi vardır. 1 deste bilyesi olabilmesi için kaç tane bilyeye daha ihtiyacı vardır?

3- Oya 4 tane kitap okudu. 1 deste kitap okumuş olması için kaç tane daha kitap okuması gerekir?

4- Umut'un 5 tane legosu vardır. 1 düzine legosu olabilmesi için kaç tane daha legoya ihtiyacı vardır?

5- Park yerinde 2 tane araba vardır. 1 deste araba olabilmesi için kaç tane arabanın daha park etmesi gerekir?

EŞLEŞTİRME

Ayşe K.
Sahmaran

*1 deste kalem

*24 tane kalem

*1 düzine kalem

*40 tane kalem

*2 deste kalem

*10 tane kalem

*2 düzine kalem

*30 tane kalem

*3 deste kalem

*12 tane kalem

*4 deste kalem

*20 tane kalem

*3 düzine kalem

*36 tane kalem

TÜRKÇE ETKİNLİKLERİ

1- Aşağıdaki boşluklara tek heceli kelimeler bulup, yazınız.

ev

.....
.....

2- Aşağıdaki boşluklara iki heceli kelimeler bulup, yazınız.

perde

.....
.....

3- Aşağıdaki boşluklara üç heceli kelimeler bulup, yazınız.

çerçeve

.....
.....

4- Aşağıdaki kelimeleri hecelerine ayırıp, hece sayılarını yazınız.

KELİME	HECELERİNE AYIRMA	HECE SAYISI
televizyon	te-le-viz-yon	4
tekerlek		
halı		
hanımeli		
güvercin		
takı		
bilgisayar		
kuyumcu		
kilim		
karanfil		
kayısı		
portakal		
egemenlik		
öğrenciler		
makarna		
teleferik		
gözlükçü		
kütüphane		

5- Aşağıdaki kelimeleri harflerine ayırıp, harf sayılarını yazınız.

KELİME	HARFLERİNE AYIRMA	HARF SAYISI
televizyon	t-e-l-e-v-i-z-y-o-n	10
tekerlek		
halı		
hanımeli		
güvercin		
takı		
bilgisayar		
kuyumcu		
kilim		
karanfil		
kayısı		
portakal		
egemenlik		
öğrenciler		
makarna		
teleferik		
gözlükçü		
kütüphane		

EV İMLASI



Ayşe K
Sarı
Hintli bir adam suda bata çıka ilerlemeye çalışırken yanına bir akrep gelir. Onu kurtarmaya karar verir ve parmağını akrebe uzatır ama akrep onu sokar. Tekrar akrebi sudan kurtarmaya çalışır ama akrep onu tekrar sokar. Yakınlarında olan birisi ona, akrebi kurtarmaya çalışmaktan vazgeçmesini söyler. Hintli adam ise.....

Sevgili aileler, ev imlasını yazdırdıktan sonra, hikayenin devamını çocukların getirmesini isteyin. Kendi hayal güçlerini kullanarak hikayeyi tamamlasınlar. 😊