


UZUNLUKLARI ÖLÇME

1. Etkinlik: Aşağıdaki uzunlukları inceleyip soruları cevaplayalım.



* Yeşil boya kaç santimetredir?

☞

* En kısa boya hangisidir? Kaç cm'dir ?

☞

* En uzun boya hangisidir? Kaç cm'dir?

☞

* Kırmızı boya pembe boyadan kaç cm uzundur?

☞

* Mavi boya yeşil boyadan kaç cm kısadır?

☞

* Kırmızı boya mavi boyadan kaç cm uzundur?


☞

* Yeşil , mavi ve pembe boyalar toplam kaç cm'dir ?


☞

2. Etkinlik: Verilen şekilde belirtilen uzunluk kadarını ölçelim ve boyayalım.


◇ 6 cm




◇ 2 cm




◇ 10 cm




◇ 3 cm



◇ 12 cm



◇ 5 cm



◇ 7 cm

