

1.

TÜRKÇE ANA DİLİMİZ

Tadına doyum olmaz, İyi kur cümleleri,
Güzel konuş dilini. Açıkça anlaşılınsın.
Dilde yanlış yapılmaz, Çiğneme heceleri,
Türkçe atanın dili. Sonra ayıplanırsın.

Türkçenin gelişmesi,
Çok okumaya bağlı.
Yazarken özenmeli,
Hiç yanlış yapmamalı.

Behtullah HATOĞLU

İlk üç soruyu yukarıdaki şiire göre cevaplayınız.

1. Tadına doyum olmayan nedir?
A) güzel yazı
B) kitap okuma
C) ana dilimiz

2.

2. Hangisini yaparsak ayıplanırız?
A) Heceleri çiğneyerek konuşursak
B) Cümlelerimizi iyi kurarsak
C) Anlaşılır şekilde konuşursak

3.

3. Türkçenin gelişmesi neye bağlıdır?
A) Oyun oynamaya bağlıdır.
B) Çok okumaya bağlıdır.
C) Arkadaşlığa bağlıdır.

4.

4. "Otobüslerde yaşlılara ve hamile bayanlara yer vermelidir." Cümlesinde boş bırakılan yere aşağıdakilerden hangisi yazılmalıdır?
A) özellikle B) örneğin C) yani

5.

5. Aşağıdaki cümlelerin hangisinde birden fazla özel ad vardır?
A) Almanya'da birçok Türk var.
B) Ayşegül, annesine eldiven ördü.
C) Karabaş, kulübesinden çıkmış.

6.

6. "Saç" sözcüğü hangisinde farklı bir anlamda kullanılmıştır?
A) Dedemin saçlarına ak düşmüş.
B) Kardeşimin kıvrıkcık saçları vardı.
C) Oyuncaklarını ortalığa saçtı.

7.



Sen gitar çal, onlar şarkı söylesin.

Merve'nin söylediği cümlede hangi sözcük eş seslidir?

- A) çal B) sen C) şarkı

8.

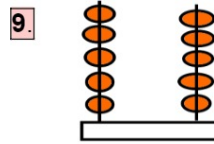
8. Hangi cümledeki altı çizili sözcük yanlış yazılmıştır?

A) Her sabah spor yaparım.

B) Annecim, seni çok özledim.

C) Elektrik faturasını dolaba koydum.

9.




Yandaki abaküste gösterilen sayıya "2 onluk ve 7 birlik" eklersek toplam kaç olur?

- A) 82 B) 72 C) 28


10.


10. Bir kasada 42 tane elma vardı. Satıcı bunların 2 düzinesini sattı. Geriye kaç tane elma kaldı?
A) 40 B) 22 C) 18

11. **11.**
$$\begin{array}{r} 30 \\ + 3 \\ \hline \end{array}$$

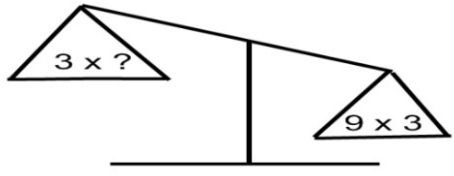
$$\begin{array}{r} - 14 \\ \hline \end{array}$$
- Yukarıdaki işlemlerde  şeklinin olduğu yere hangi sayı yazılmalıdır?
- A) 33 B) 19 C) 9

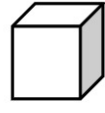
12. **12.** Cebimde 17 fındık vardı. 5 tanesini ben yedim. Diğerlerini 3 arkadaşıma paylaştırdım. Her arkadaşım kaçar fındık yedi.
- A) 4 B) 3 C) 9

13. **13.**  Yandaki elmaları 6 tabağa eşit şekilde paylaşmak istiyorum. Her tabağa kaç tane elma koymam gerekir?
- A) 6 B) 5 C) 4

14. **14.**  Yukarıdaki kutuların içindeki kalem bitmiştir. 5 kutunun içindeki kalem sayısını gösteren seçenek aşağıdakilerden hangisidir?
- A) 0×5 B) 5×0 C) $5 + 0$

15. **15.** Her sırada 2 öğrenci oturacaktır. 18 kişilik sınıfta kaç sıraya ihtiyaç vardır?
- A) 20 B) 16 C) 9

16. **16.**  Terazide dengenin sağlanması için “ ? ” olan yere hangi sayı yazılmalıdır?
- A) 6 B) 9 C) 12






17. **17.**  Yanda okla gösterilen nedir?
- A) köşe B) kenar C) yüz

18. **18.** Aykut, annesine aşağıdaki soruları sormuştur:
- Anne, küçükken hangi oyunları oynardın?
 - En sevdiğin oyuncak neydi?
 - Nasıl bir oyuncaktı?
- Aykut'un annesine sorduğu soruların nedeni aşağıdakilerden hangisi olabilir?
- A) eskiden kullanılan ev aletlerinin neler olduğunu öğrenmek
- B) küçükken nasıl bir çocuk olduğunu öğrenmek
- C) aile büyüklerinin küçükken oynadığı oyunları araştırmak

19. **19.** Aşağıdakilerden hangisi bebekken daha çok tüketilir?



20. **20.** Aşağıdakilerden hangisi ailede üstlenebileceğimiz görevler arasında sayılmaz?
- A) bozulan bir aleti tamir etmek
- B) evde beslenen bir hayvana yemini vermek
- C) dağılan oyuncakları toplamak

21. **21.**  Doğum günümdü. En sevdiğim arkadaşımı davet ettim. Ama gelemeceğini söyledi. Çok üzüldüm. Tam pastamı keserken kapı çaldı. Kapıda arkadaşım vardı. O anda çok
- Sinem'in sözlerini hangi seçenek **tamamlamaz**?
- A) şaşırdım
B) üzüldüm
C) heyecanlandım
22. **22.**  Pencerelelere süsler astık.
 Türk bayraklarıyla sınıfı donattık.
 Şiirler ezberledik.
- Yukarıdaki öğrenciler okulda bayram hazırlığı yapmışlar. Buna göre aşağıdakilerden hangisine hazırlanıyor olabilirler?
- A) Kurban Bayramı
B) Ramazan Bayramı
C) 23 Nisan Çocuk Bayramı
23. **23.** "Bir arkadaşı, koridorda koşarken Esra'ya çarparak yere düşürdü." Esra bu durumda nasıl davranmalıdır?
- A) Ona vurmaldır.
B) Sakin olup, özür dilemesini beklemelidir.
C) Ona öfkeyle bağırmalıdır.
24. **24.**  Benim adım Kubilay. Yaşadığım yerde iki tane boğaz köprüsü var. Sultanahmet Camisi ve Ayasofya bu şehirdedir. Yurdumuzun en kalabalık şehri burasıdır.
- Acaba Kubilay, hangi şehirde yaşıyor?
- A) Erzurum B) Trabzon C) İstanbul
25. **25.** Aşağıdakilerden hangisi liderin sahip olması gereken özellikler arasında **yer almaz**?
- A) planlı B) yalancı C) sabırlı