

Minik arı dünyaya yeni gelmişti. Çok heyecanlıydı. Merakla etrafına bakınıyordu. Kuşlar, böcekler, çiçekler çok güzeldi. Bunların arasından özellikle çiçekleri çok sevmiştir. Renk renk, çeşit çeşitlerdi. Üstelik çok güzel kokuyorlardı. Dünyanın bu güzelliği onu çok mutlu etmişti.

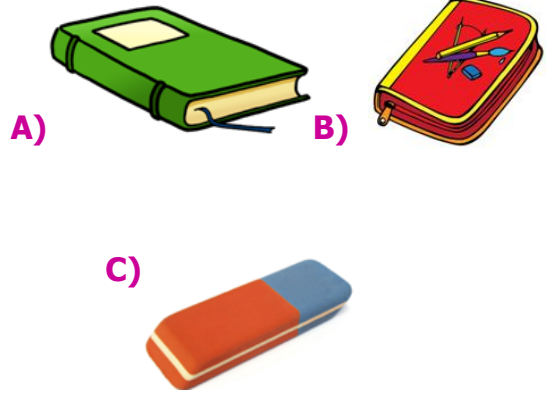
1, 2 ve 3. Sorular yukarıdaki metne göre cevaplayın.

- 1) Minik **arı** aşağıdakilerden hangisini çok severmiş?
- A) ağaç  
B) bal  
C) çiçek
- 2) Aşağıdakilerden hangisi **çiçeklerin** özelliklerinden değildir?
- A) renk renk olması  
B) parlak olması  
C) güzel kokulu olması

- 3) Minik **arı** için aşağıdakilerden hangisi söylenemez?

- A) sevecen  
B) heyecanlı  
C) meraklı

- 4) Aşağıdaki **görsellerden** hangisinin **hece** sayısı diğerlerinden fazladır?



- 5)



Yukarıdaki **sözcükte** birbirinden **farklı** kaç harf bulunmaktadır?

- A) 10      B) 9      C) 8

6)



Yukarıdaki **kartlarda** yazılı olan kelimenin **satır sonuna** yazılımını hangi çocuk yanlış yazmıştır?

A)



B)



C)



7)

Yatmadan önce kitap okudum.

Yukarıdaki cümlenin **kelime** sayısı seçeneklerdeki cümlelerin kelime sayısına eşittir?

- A) Lale bu gün okula gelmedi.  
 B) Babam hikaye kitabı aldı.  
 C) Bu akşam arkadaşım bize gelecek.

8)



Yukarıdaki kelimeleri **sözlük** sırasına göre sıralarsak halkalar nasıl sıralanmalıdır?

A)



B)



C)



9)



Yukarıdaki **kelimeler** arasındaki **ilişki** aşağıdaki kelimelerden hangisinde vardır?

A)



B)



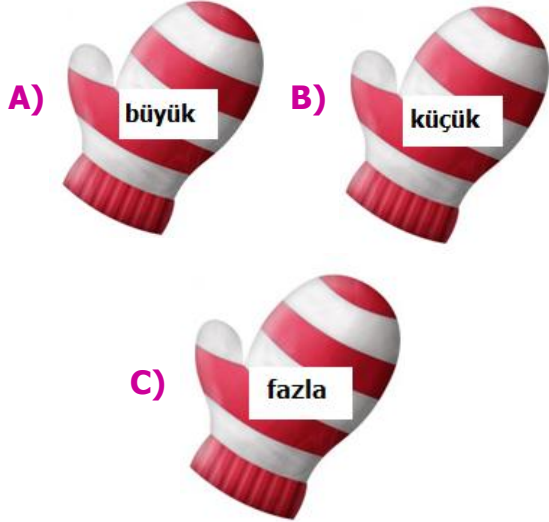
C)



10) Aşağıdaki eldivenin eşi kaybolmuştur.



Kayıp eldivenin üzerinde yukarıdaki kelimenin **zıt anlamlısı** yazmaktadır. Buna göre hangi seçenekteki bu eldivenin eşidir?



11) Ali, kardeşinden üç yaş büyük.



Ayşe'nin cümlesinde "yaş" kelimesi aşağıdaki seçeneklerden hangisinde bu cümledeki **anlamı** ile kullanılmıştır?

- A) Ahmet sekiz yaşına girdi.
- B) Askıdaki kıyafetler çok yaş.
- C) Halı kurumadığı için yaş.

12) yağıyor












kar



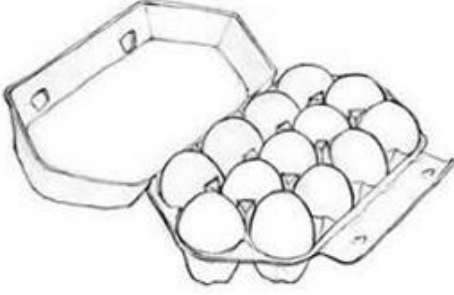
dışarıda



Yukarıdaki sözcüklerle **anlamlı** bir cümle oluşturduğumuzda **sembollerin** sıralaması nasıl olur?

- A)   
- B)   
- C)   

1)



Yumurta kolisinde bir **düzine** yumurta vardır.



Bir **deste** yumurtadan **3 fazla** yumurta vardır.



Yumurta kolisinden **bir** yumurta **çıkarırsak** bir **düzine** yumurta olur.

Yukarıdaki bilgilerden hangileri doğrudur?


A)




B)



C)



2)



Ahmet yukarıdaki resimlerin **bir destesini** boyayacaktır.

Buna göre Ahmet'in **boyaması** gereken kaç resmi kalır?

A) 4

B) 3

C) 2

3)



Yelkenli yarışmaya katılabilmesi için numarasını **çözümleyerek** hakeme vermesi gerekiyor.

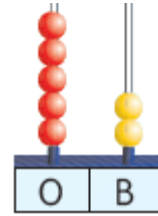
Buna göre hangi seçeneği hakeme verirse **yarışa** katılabilir?

A) 6 birlik 8 onluk

B) 8 birlik 6 onluk

C) 6 birlik 6 onluk

4)



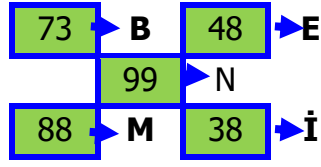
Yukarıdaki abaküste gösterilen sayının **onlar** basamağına ve **birler** basamağına **ikişer** boncuk eklersek **yeni oluşan sayı** aşağıdakilerden hangisidir?

A) 74

B) 72

C) 52

- 5) 1. Yetmiş üç  
2. Otuz sekiz  
3. Doksan dokuz



Okunuşları verilen **sayılara** ait harfleri yerlerine yazarsak hangi **kelime** oluşur?

- A) BEN  
B) BİM  
C) BİN

- 6) 8'den ileriye 5'er sayarsak aşağıdaki sayılardan hangisini söyleyemeyiz?



7)

38	58
52	83

Yukarıdaki tabloda onlar basamakları aynı olan sayıların kutucukları boyanacaktır. Buna göre tablonun son hali nasıl olur?

- A) 

- B) 

- C) 

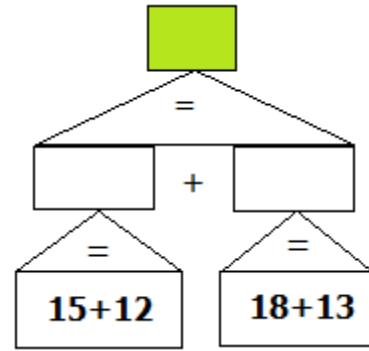

- 8) Aşağıdaki yük treninin bir vagonu eksiktir.



Yük treninin **eksik** vagonu hangisidir?

- A) 24
- B) 23
- C) 22

9)



Yukarıdaki işlemlerin sonucuna göre □

**yerine** hangi sayı gelmelidir?

- A) 58
- B) 48
- C) 38



10)



Yukarıdaki işlemin **sonucu** aşağıdaki seçeneklerden hangisidir?

- A) 9 onluk 8 birlik
- B) 9 onluk 7 birlik
- C) 7 onluk 9 birlik


11)

Eksilen  $\rightarrow$  69  
Çıkan  $\rightarrow$  13

Yukarıdaki verilen bilgilere göre **fark** kaçtır?

- A) 82
- B) 57
- C) 56

12)



Hakan'ın söylemiş olduğu **sayı** aşağıdakilerden hangi işlemin sonucudur?

- A) 45 + 44
- B) 55 + 32
- C) 46 + 42

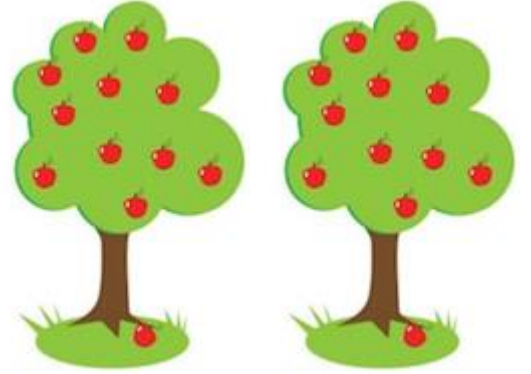
13)



Yukarıdaki bilgilere göre **babanın** ve **kızın** yaşları toplamı kaçtır?

- A) 83
- B) 52
- C) 42

14)



Sinan elma ağaçlarından 1. Gün **48** tane elma, 2. Gün ilk günden **13** tane **eksik** elma toplamıştır.

Buna göre Sinan **iki** günde **toplam** kaç tane elma toplamıştır?

- A) 61
- B) 83
- C) 93

1)



Sibel canlı ders için görseldekini yanına almaktadır.

Buna göre Sibel hangi **derse** hazırlık yapmıştır?

- A) Matematik  
B) Türkçe  
C) Görsel Sanatlar

2)



Yukarıdaki çocuklardan hangisi **kişisel** bakımını yapmaktadır?

- A) B) C)

3)

Aşağıdaki **davranışlardan** hangisini yapmak **yanlış** değildir?

- A) Geç yatmamak.  
B) Geç kalkmak.  
C) Odayı dağıtmak.

4)



İstiklal Marşı

Türk Bayrağı

Kitap Logosu

Yukarıdakilerden hangileri **bağımsızlık** sembolüdür?

- A)   
B)   
C)

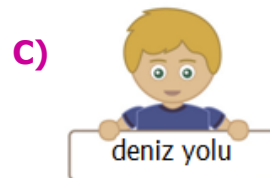
5)



Otobüs, taksi, bisiklet ..... taşıtlardır.

Uçak, zeplin, balon ..... taşıtlardır.

Yukarıdaki cümleleri seçeneklerdeki **kelimelerle** tamamlarsak hangi seçenek dışarıda kalır?



6)	Karşıdan karşıya geçerken <b>yaya geçitini</b> kullanmalıyız.
	Çocuklar arabanın <b>ön koltuğa</b> oturabilir.
	Yolda yürürken <b>yaya kaldırımını</b> kullanırım.

Yukarıdaki cümlelerden **doğru** olanların başına **tik** işareti koyarsak hangi seçenekteki gibi olur?

A)	<input checked="" type="checkbox"/>	B)	<input type="checkbox"/>	C)	<input checked="" type="checkbox"/>
	<input type="checkbox"/>		<input checked="" type="checkbox"/>		<input checked="" type="checkbox"/>
	<input checked="" type="checkbox"/>		<input checked="" type="checkbox"/>		<input type="checkbox"/>

7)



Çocuklar okulda **bayram** hazırlıkları yapıyorlar.

Buna göre **okulda** hangi bayram için hazırlık yapılıyor?

- A) Ramazan Bayramı
- B) Kurban Bayramı
- C) Cumhuriyet Bayramı

8)



Ahmet'in arkadaşı **merdivenlerden** inerken **düşüp ağır** yaralandı. Buna göre Ahmet **ilk** olarak **kime** haber vermelidir?

- A) Anne
- B) Öğretmen
- C) Temizlik görevlisi

9)




Yukarıdaki taşın **altında** yuvası olan **hayvan** hangisidir?

- A) Kuş
- B) Kurbağa
- C) Yılan

10)

Aşağıdaki seçeneklerden hangisi **sağlığımız** için yapmamamız gereken bir şeydir?





## TÜRKÇE CEVAP ANAHTARI

## CEVAPLAR

1	A	B	C	11	A	B	C
2	A	B	C	12	A	B	C
3	A	B	C	13	A	B	C
4	A	B	C	14	A	B	C
5	A	B	C	15	A	B	C
6	A	B	C	16	A	B	C
7	A	B	C	17	A	B	C
8	A	B	C	18	A	B	C
9	A	B	C	19	A	B	C
10	A	B	C	20	A	B	C

## MATEMATİK CEVAP ANAHTARI

## CEVAPLAR

1	A	B	C	11	A	B	C
2	A	B	C	12	A	B	C
3	A	B	C	13	A	B	C
4	A	B	C	14	A	B	C
5	A	B	C	15	A	B	C
6	A	B	C	16	A	B	C
7	A	B	C	17	A	B	C
8	A	B	C	18	A	B	C
9	A	B	C	19	A	B	C
10	A	B	C	20	A	B	C

## HAYAT BİLGİSİ CEVAP ANAHTARI

## CEVAPLAR

1	A	B	C	11	A	B	C
2	A	B	C	12	A	B	C
3	A	B	C	13	A	B	C
4	A	B	C	14	A	B	C
5	A	B	C	15	A	B	C
6	A	B	C	16	A	B	C
7	A	B	C	17	A	B	C
8	A	B	C	18	A	B	C
9	A	B	C	19	A	B	C
10	A	B	C	20	A	B	C

TÜRKÇE

- 1) C
- 2) B
- 3) A
- 4) B
- 5) C
- 6) C
- 7) B
- 8) A
- 9) C
- 10) B
- 11) A
- 12) A

MATEMATİK

- 1) C
- 2) A
- 3) B
- 4) A
- 5) C
- 6) C
- 7) B
- 8) B
- 9) A
- 10) B
- 11) C
- 12) A
- 13) B
- 14) B

HAYAT BİLGİSİ

- 1) C
- 2) C
- 3) A
- 4) A
- 5) C
- 6) A
- 7) C
- 8) B
- 9) C
- 10) B