









**Görev 1 :** Sevgili öğrencim aşağıda verilen doğa olaylarını okuyun ve çalışın.

- Yağmur :** Bulutlarda oluşan su buharının yeryüzüne su damlacıkları şeklinde düşmesine yağmur denir.
- Kar :** Su damlalarının havanın soğuk tabakasında kristalleşerek, yeryüzüne beyaz bir örtü biçimde düşmesine kar denir.
- Dolu :** Yağmur damlalarının aniden donup buz topu gibi yere düşmesine dolu denir.
- Sis :** Küçük su taneleri ve buhardan oluşan, bulutların alçalmasıyla oluşan doğa olayına sis denir.
- Rüzgâr :** Sıcak hava ile soğuk havanın yer değiştirmesi sonucu oluşan esintidir.
- Fırtına :** Rüzgârın daha hızlı bir şekilde esmesine fırtına denir.
- Hortum :** Hava ve suyun kendi etrafında dönerek oluşturduğu sütuna benzeyen doğa olayına hortum denir.
- Kasırga :** Daha geniş alanlara yayılan ve uzun süren çok şiddetli rüzgara kasırga denir.

❖ Aşağıda resimleri verilen doğa olaylarının isimlerini sırasıyla defterinize yazın.

Kar	<del>Fırtına</del>	Rüzgar	Kasırga	Hortum	Dolu	Sis	Yağmur
							
1	2	3	4	5	6	7	8

- |            |         |
|------------|---------|
| 1. Fırtına | 5. .... |
| 2. ....    | 6. .... |
| 3. ....    | 7. .... |
| 4. ....    | 8. .... |

**Görev 2:** Aşağıda verilen problemleri cevaplarıyla birlikte Matematik defterinize yazın.

- Arzu evinden bakkala 18 metre yürümüştür. Bakkaldan ise okula 16 metre yürümüştür. Arzu toplam kaç metre yürümüştür ?
- Benim 14 metre ipim var. Bu ipin önce 3 metresini sonra 2 metresini kesersem geriye kaç metre ipim kalır ?
- 20 metre yolun yarısının 2 metre fazlası kaç metre yoldur ?
- Günde 12 metre duvar ören bir işçi, 2 günde kaç metre duvar örer ?
- 75 santimetreye kaç santimetre daha eklersek 1 metre olur ?