


BÖLME İŞLEMİNİ KAVRAYALIM


1. Etkinlik : Aşağıdaki soruları cevaplayalım. Noktalı yerleri dolduralım.

a.) 6 elmayı 3 çocuğa eşit sayıda paylaşalım. Her çocuğun kaç elması olur?




Her çocuğun elması oldu.

b.) 4 kalemi 2 çocuğa eşit sayıda paylaşalım. Her çocuğun kaç kalemi olur?




Her çocuğun kalemi oldu.

c.) 12 cevizi 4 çocuğa eşit sayıda paylaşalım. Her çocuğun kaç cevizi olur?




Her çocuğun cevizi oldu.

d.) 30 bilyeyi 5 çocuğa eşit sayıda paylaşalım. Her çocuğun kaç bilyesi olur?



Her çocuğun bilyesi oldu.

e.) 8 kalemi 2 çocuğa eşit sayıda paylaşalım. Her çocuğun kaç kalemi olur?



Her çocuğun kalemi oldu.