


MEB KAZANIM DEĞERLENDİRME SINAVI

1. Aşağıdaki yüz ifadelerinin hangisinden kişinin "mutlu" olduğu anlaşılır?



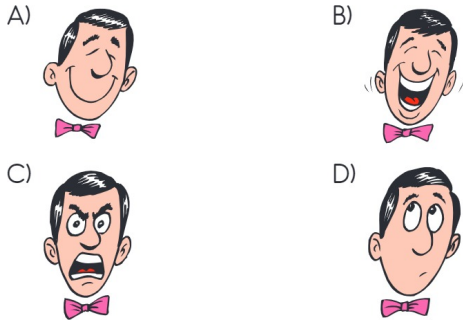
2.



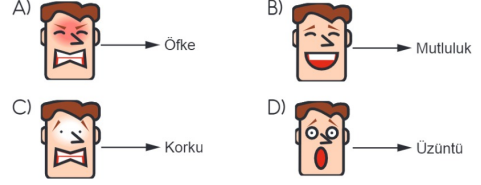
Bu afişte verilen mesaj aşağıdakilerden hangisidir?

- A) Emniyet kemeri, arka koltukta da takılmaldır.
 B) Emniyet kemeri, sizin en yakın arkadaşınızdır.
 C) Emniyet kemerinizi takın, hayatınızı koruyun.
 D) Emniyet kemeri takmadan yolculuk yapmak, trafik kurallarına aykırıdır.

3. Aşağıdakilerden hangisi "düşünceli" bir yüz ifadesidir?



4. Aşağıdaki yüz ifadelerinden hangisi, eşleştirildiği duyguyu yansıtmaktadır?



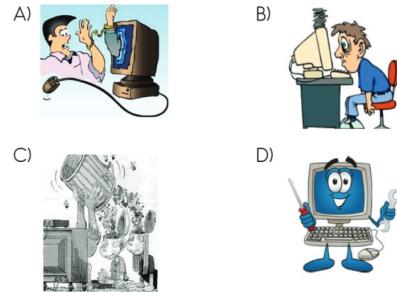
5.




Bu afişte verilen mesaj, aşağıdakilerden hangisidir?

- A) Ormanları, fidanlar dikerek koruyabiliriz.
 B) Orman yangınları, insanların daha dikkatli olmasıyla önlenir.
 C) Orman ürünlerinden, ısınmak için de faydalanabiliriz.
 D) Orman yangınları, canlıların hayatını olumsuz etkiler.

6. Aşağıdakilerden hangisi teknolojinin olumsuz etkileri ile ilgili bir görsel değildir?



7.



1



2



3



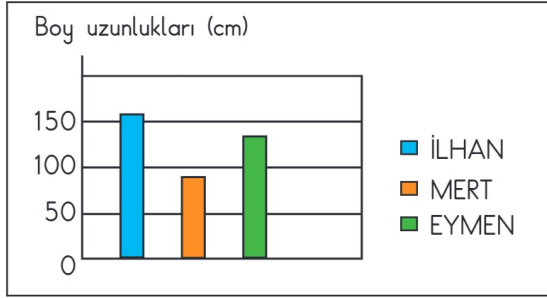
4

Olayların oluş sırasına göre, bu görsellerin dizilişi aşağıdakilerden hangisidir?

- A) 2-1-4-3
C) 4-2-3-1

- B) 2-4-3-1
D) 4-1-3-2

8.




Bu grafiğe göre aşağıdakilerden hangisi doğrudur?

- A) Mert'in boyu İlhan'dan kısa, Eymen'den uzundur.
B) Boyu en kısa olan Eymen'dir.
C) Eymen'in boyu Mert'ten uzun, İlhan'dan kısadır.
D) Boyu en uzun olan Mert'tir.

9.


Yeni demirleyen "Koleksiyoncu" adlı gemi yazlıktaki çocukların dikkatini çeker. Geminin sahibi de onlara çok gizemli gelir. Çocuklar, gemiye gizlice girmenin yolunu ararken güverteye çıkan kaptan onlara bekledikleri bir davette bulunur.

Bu metni en iyi ifade eden görsel aşağıdakilerden hangisidir?



10.


Küçük sevimli balık tatile gelenlerle tanışıp kaynaşmış. Tatil bitip tatilcilerin dönüş zamanı geldiğinde onlardan ayrılmak istememiş. Aşağıdaki karikatürlerden hangisi bu durumu anlatır?



11.

Bu tür palyaçolar abartılı hareketleri ile halk arasında en sevilen palyaçolardır. Makyajları da beyaz yüzlü palyaçolardan farklıdır. Onlar, yüzlerine beyaz boya sürmek yerine ten rengi boyalar sürerler. Makyajlarında gösterişli renkler tercih ederler. Makyajla ağızlarını kocaman, gözlerini büyük gösterirler. Burunlarını ise kırmızıya boyarlar.

Bu metinde sözü edilen palyaço görseli aşağıdakilerden hangisidir?



12.

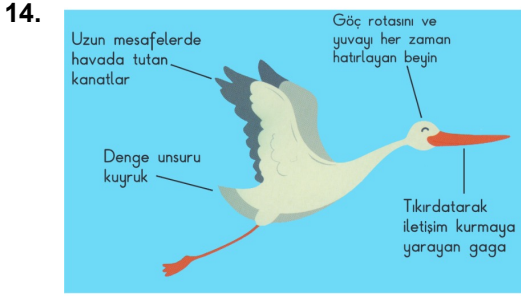
Oyunu oynamak isteyen kişiler arasında önce bir ebe seçilir. Diğerleri ebeye belli bir uzaklıkta belirlenen çizgide bekler. Ebe duvara dönüp "Davul zurna 1, 2, 3" derken arkadaşları da bu arada ebeye yaklaşıp başlar. Ebe, yüzünü döndüğünde herkes olduğu yerde hiç kıpırdamadan durmalıdır. Hareket eden kişi oyundan çıkar. Bu böylece devam eder. Ebe herkesi oyundan çıkarırsa oyunu kazanır. Eğer arkası dönmekken biri ebeye dokunursa ebe, oyunu kaybeder.

Bu oyunla ilgili görsel aşağıdakilerden hangisidir?




13. Kırgızlar, geçmişte belirli bir yurttan yaşamadan, sürekli yer değiştirerek göçebe bir hayat sürmüşlerdir. Kültürleri de bu hayat tarzıyla şekillenmiştir. Kırgız erkekleri, çadır kurup at yetiştirir ve dericilik işleriyle uğraşır. Kadınları ise kilim dokuyup el işi yaparak geçimlerini sağlarlar. Geçim kaynaklarından biri de küçükbaş hayvancılıktır.

Aşağıdaki görsellerden hangisi bu metinde anlatılanlarla ilgili değildir?



Bu görselle göre, leyleklerle ilgili aşağıdakilerden hangisi söylenemez?

- A) Kanatları, uzun uçuşlar yapmalarını sağlar.
 B) Gagaları sayesinde kendi aralarında habertişirler.
 C) Beyinleri sayesinde göç edecekleri yolu unutmazlar.
 D) Kuyrukları, rüzgârın hızını anlamalarını sağlar.
15. Bu hafta sonu Trakya'da bulunan Kırklareli'ni gezdim. İsmi sıklıkla Kırık-kale ile karıştırılan bu şehirde birçok tarihî yapı bizleri bekliyor. Ayrıca Kırklareli'nin ormanları ve doğal yolla oluşmuş mağaraları da gezilecek yerler arasında. Aşağıdakilerden hangisi Kırklareli'nin bu metinde sözü edilen özelliklerine ait bir görsel değildir?



16. Maske suyun altında çevreyi net olarak görebilmeyi sağlar.

Dalış yaparken vücut sıcaklığının düşmesini önleyen özel bir giysi giyilir.



Bu görselle göre, "dalğışlar" ile ilgili aşağıdakilerden hangisi söylenemez?

- A) Paletler sayesinde su altında daha çabuk hareket ederler.
 B) Maske sayesinde su altında çevreyi rahat bir şekilde görürler.
 C) İhtiyaç duydukları havayı sırtlarındaki tüpten sağlarlar.
 D) Ağır kimeri su altında dengede kalmalarını sağlar.


17. Güzel kokulu çiçeklerin içinde Bir o yana bir bu yana Koşmak isterim

Renk renk çiçeklerin üzerinden, Kelebeklere, kuşlara, güneşe Bakmak isterim

Bu şiirde anlatılanları en iyi karşılayan resim aşağıdakilerden hangisidir?



- 18.




Numaralandırılmış görsellerin, oluş sırasına göre sıralanışı aşağıdakilerden hangisidir?

- A) 1-5-2-3-4
 B) 2-1-5-4-3
 C) 4-2-5-1-3
 D) 4-2-5-3-1

AYLIK YOLCU SAYISI			
500 Bin	250 Bin	100 Bin	200 Bin
			

Bu tabloya göre aşağıda verilen bilgilerden hangisi yanlıştır?

- A) İnsanlar en az deniz ulaşımını kullanmıştır.
 B) Ulaşımında en büyük payı kara taşımacılığı almıştır.
 C) Raylı sistemler hava ulaşımından daha çok tercih edilmiştir.
 D) Hava taşıtları kara taşıtlarından göre daha az tercih edilmiştir.




Oluş sırasına göre, bu görsellerin dizilişi aşağıdakilerden hangisidir?

- A) 1-3-4-2 B) 1-4-2-3 C) 3-1-2-4 D) 3-4-2-1



Bu görseller aşağıdaki sorunlardan hangisi ile ilgilidir?

- A) Şişmanlık B) Televizyon bağımlılığı
 C) Oyuncağa düşkünlük D) Uykusuzluk



Görsellerde verilen olayların oluş sırası aşağıdakilerden hangisidir?

- A) 1-2-4-3 B) 2-4-3-1
 C) 3-1-4-2 D) 4-3-2-1




Bu görseldeki bilgilere göre "kangurular" ile ilgili aşağıdakilerden hangisi söylenemez?

- A) Kuyruğuyla dengesini sağlar.
 B) Geriye doğru zıplayamaz.
 C) Yavrularını kesesinde gezdirebilir.
 D) Ön bacakları gelişmemiştir.

24. Fırat, denizi çok sevdi. Boğaz'da manzarayı izlemek ve Boğaz'ın serin sularına dalmaktan çok keyif alırdı. Bilmeyenlerin korkulu rüyası olan denizdeki akıntı Fırat için dosttu. Çünkü akıntının onu nereye sürükleyeceğini bilirdi. Boğazın dibindeki akıntıya kapılmış neler vardı, neler! Balık sürüleri, kitaplar, kıyafetler, şapkalar, sahibini bir türlü bulamamış mektuplar...

Bu metni en iyi ifade eden görsel aşağıdakilerden hangisidir?

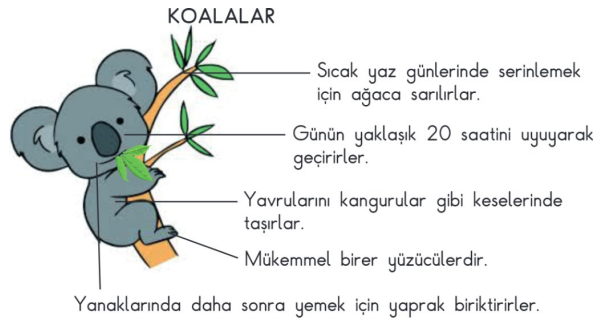


25. Ali — Ben olsam hafıza algılayıcı makine icat ederdim. Akıldan geçirdiğim şeyleri yerimden kalkmadan yapmak isterdim. Bu sayede arkadaşlarımı yanıma getirir, onlarla oynardım.
- Mehmet — Söylediğim sözleri müziğe çeviren bir müzik aleti icat etmek isterdim. Kafamda bir şarkı uydurduğumda bunu hemen kayda alıp notalara döksün. Ben de o müzik eşliğinde şarkımı söyleyeyim.
- Hasan — İcat edeceğim dolap bütün hava durumlarını incelemeli ve o gün hangi kıyafeti giyeceğimizi hatırlatmalı. Ayrıca odanızı toplamalı. Dolabı açtığınızda oyuncak, kıyafet bölümleri olmalı.

Aşağıdaki görsellerden hangisi bu diyalogda sözü edilen buluşlardan birine ait **olamaz**?



26.



Bu görseldeki bilgilere göre "koalalar" ile ilgili aşağıdakilerden hangisi **söylenemez**?

- A) Günün büyük çoğunluğunu beslenerek geçirirler.
 B) Derin sulara yüzmeyi tercih ederler.
 C) Yavrularını kollarında taşırlar.
 D) Vücut ısılarını düşürmek için ağaçlara tutunurlar.


27.



Bu görsel ile ilgili aşağıdakilerden hangisi **söylenemez**?

- A) Doğada en uzun sürede yok olan ürün pet şişedir.
 B) Teneke kutular plastik poşetlerden daha uzun sürede doğada olurlar.
 C) Sakızlar pillerden daha uzun sürede yok olur.
 D) Kâğıtlar doğada en kısa sürede yok olan üründür.

28.



Yukarıda numaralandırılmış görsellerin, oluş sırasına göre sıralanışı aşağıdakilerden hangisidir?

- A) 1-6-3-4-2-5
 B) 5-6-4-3-2-1
 C) 1-5-4-2-6-3
 D) 2-4-3-5-1-6