

# 2. SINIF

# MATEMATİK

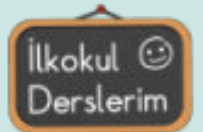
## 5. ÜNİTE

## GENEL DEĞERLENDİRME

## SINAVI-1



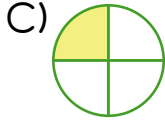
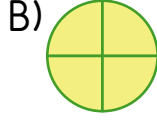
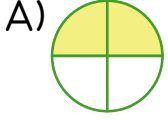
 ABONE OL



## 2. SINIF 5. ÜNİTE DEĞERLENDİRME SINAVI


### Soru-1

Aşağıdaki modellerden hangisinin boyalı kısmı **çeyreği** ifade eder?



### Soru-2

Aşağıdaki portakallardan hangisi **yarımı** ifade eder?



### Soru-3

Yukarıdaki elmaların içinde kaç tane **çeyrek elma** vardır?

A) 6

B) 10

C) 12

### Soru-4

Aşağıdaki eşleştirmelerden hangisi **yanlıştır**?

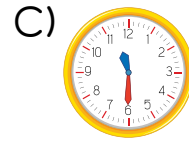
A) 4 yarım armut = 2 bütün armut

B) 2 bütün kavun = 8 çeyrek kavun

C) 4 bütün elma = 6 yarım elma

### Soru-5

Aşağıdaki saatlerden hangisi **10:30'u** göstermektedir?



### Soru-6

Aşağıdaki aylardan hangisi Kış mevsiminde **değildir**?

A) Ocak

B) Mayıs

C) Aralık

## 2. SINIF 5. ÜNİTE DEĞERLENDİRME SINAVI

### Soru-7

Aşağıdakilerden hangisi 1 TL'ye eşittir?



### Soru-8

En büyük kağıt paramız aşağıkilerden hangisidir?



### Soru-9



Yandaki saat kaç göstermektedir?

A) 08:00

B) 08:15

C) 08:30

### Soru-10



Yandaki görseldeki para kaç kuruşa eşittir?

A) 100 kr

B) 150 kr

C) 200 kr

### Soru-11

Aşağıdaki eşleştirmelerden hangisi yanlıştır?

A) 1 hafta 5 gün eder.

B) 1 yılda 4 mevsim vardır.

C) Nisan ayı 30 gün çeker.

### Soru-12

Aşağıdaki paralardan hangisinin değeri diğerlerinden küçüktür?

A) Ocak

B) Mayıs

C) Aralık