

1.

Reyhan çok akıllı bir kızdı. Arkadaşları ile iyi geçinirdi. En çok Neslihan ile Gülnur'u severdi. Ödevlerini her zaman birlikte yaparlardı. Neslihan Türkçe dersinde iyiydi. Reyhan ise matematikte iyiydi. Gülnur resim yapmayı çok severdi. Reyhan çok şanslı olduğunu düşünüyordu. Çünkü arkadaşları onu hiç yalnız bırakmıyordu. Ayrıca hepsi kitap okumayı çok seviyordu.

İlk üç soruyu yukarıdaki parçaya göre cevaplayınız.

1. Reyhan için aşağıdakilerden hangisi **söylenemez**?

- A) Gülnur'u çok sever.
B) Türkçe dersinde çok iyidir.
C) Akıllı bir kızdır.

2.

2. Reyhan, Gülnur ve Neslihan'ın **ortak özelliği** hangisidir?

- A) Kitap okumayı severler.
B) Resim yapmayı severler.
C) Ödevlerini birlikte yapmazlar.

3.

3. Reyhan niçin şanslı olduğunu düşünüyor?

- A) Akıllı bir kız olduğu için.
B) Arkadaşları onu yalnız bırakmadığı için.
C) Hepsini birlikte ödev yaptıkları için.

4.

4.

uslu

yalan

yüksek

gerçek

alçak

yaramaz

yeni

Yukarıda zıt anlamlı kelimeler bir arada verilmiştir. Hangisinin eşi yoktur?

- A) yeni B) yaramaz C) gerçek

5.

5. Aşağıdaki cümlelerin hangisinde yazım yanlışı yapılmıştır?

- A) Eda'nın başı çok ağrıdığı.
B) Baba'mın bisikleti bozulmuş.
C) Otobüs, Ankara'ya gidecektmiş.

6.

6. Hangi cümlede sebep – sonuç ilişkisi belirtilmiştir?

- A) Üşüdüğüm için kazağımı giydim.
B) Annem pazardan muz almamış.
C) Eve gelince hemen üstünü değiştirdi.

7.

7. "Ablam, dün sabah bahçede oyun oynamış." Cümlesinde hangi sorunun cevabı yoktur?

- A) Nasıl B) Nerede C) Kim

8.

8. Hangi cümlenin sonunda **soru işareti** olmalıdır?

- A)  Ne zaman geleceğini bilmiyorum
- B)  Kaç, arkandan köpek geliyor
- C)  Helikopter nereye düşmüş


9.

9.




Resimdeki yıldızların sayısı hangi seçenekte, onluk ve birliklerine ayrılarak gösterilmiştir?

- A) 9 onluk, 8 birlik
B) 1 onluk, 7 birlik
C) 1 onluk, 9 birlik

10. **10.** 

Yukarıdaki sayı örüntüsünde, verilmeyen sayıların **toplamı** kaç eder?


- A) 17 B) 29 C) 46

11. **11.** 

“Ercan’ın tane fıncığı vardı. Bu fıncıkların tanesini kardeşine verdi. Ercan’ın geriye fıncığı kaldı.”


Bu anlatımda **ilk boşluğa**, yukarıdaki sayılardan hangisi yazılmalıdır?

- A) 69 B) 44 C) 25

12. **12.**  Sınıfımızda 33 öğrenci vardır. Zil çalınca 15 erkek, 9 kız öğrenci bahçeye çıktı.


Öğrencimizin söylediklerine göre sınıfta kaç öğrenci kalmıştır?

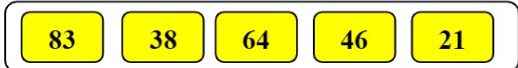
- A) 24 B) 18 C) 9

13.  Benim adım Cemil. 8 yaşındayım. Babamın yaşı benim yaşımın 4 katından 3 fazladır.
- 13.** Cemil’in verdiği bilgiye göre babasının yaşı kaçtır?

- A) 28 B) 35 C) 29

14. **14.** Hangi otomobilin üzerindeki çarpma işleminin sonucu **yanlıştır**?



15. **15.** 

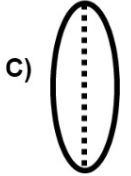
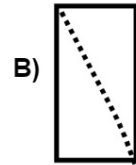
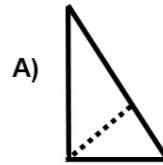
Yukarıdaki sayıları **büyükten küçüğe doğru** sıralarsak **baştan ikinci** sayı hangisi olur?

- A) 64 B) 46 C) 38

16. **16.** Her gün 3 ekmek tüketen bir aile, 2 haftada toplam kaç tane ekmek tüketir?

- A) 10 B) 21 C) 42

17. **17.** Hangi şekil yarımı ifade **etmez**?



18. **18.** “Özlemler, akşam yemeği yiyorlardı. Esmâ, çatal, bıçak kullanarak yemek yiyordu. Özlem, kendi bardağından su içerek peçete ile ağzını siliyordu. Zafer ise ağzına büyük bir lokma almış, onu güçlükle çiğniyordu. Bir yandan da fıkra anlatıyordu.”

Yukarıdaki kişilerden hangisinin yemek yerken kurallara uyduğu **söylenemez**?

- A) Özlem B) Zafer C) Esmâ

19. **19.** “Ferhat ile Şirin okuldan eve dönerlerken tanımadıkları biri, onları arabasıyla evlerine götürmeyi teklif etti.”
Bu durumda Ferhat ile Şirin’in yapması gereken doğru davranış hangisidir?
A) “Tamam.” diyerek arabaya binmeliler.
B) Sevinerek evin yolunu tarif etmeliler.
C) “Hayır.” diyerek arabaya binmemeliler.

20. **20.** Aşağıdakilerden hangisi tatilde yapacağımız bir etkinlik **değildir**?
A) Ders çalışmak.
B) Denizde yüzmek.
C) Kumsalda kumdan kale yapmak.

21. **21.** Resimdeki çocuk ıslak elleriyle prize dokunuyor. Bu durumda çocuğun başına hangisi gelir?
A) Elektrikli eşya bozulabilir.
B) Çocuğu elektrik çarpabilir.
C) Elektrik kesilebilir



22. **22.** Aşağıdaki bilgilerden hangisi **yanlıştır**?
A) Pamukkale, Denizli şehrinde dir.
B) Ağrı Dağı, yurdumuzun en yüksek dağıdır.
C) Anıtkabir, İstanbul’dadır.

23. **23.** Aşağıdakilerden hangisi evde alınması gereken güvenlik önlemlerinden **değildir**?
A) Bayat ve bozuk yiyecekleri yemek.
B) Yanıcı ve yakıcı maddelerle oynamamak.
C) Başkalarının ilaçlarını içmemek.

24. **24.** Hangi teknolojik alet diğer ikisinden farklıdır?
A) televizyon B) radyo C) ütü

25. **25.**



Sağlığım için, dengeli ve düzenli beslenmenin yanı sıra spor yapmanın da önemini biliyorum. Bu yüzden her gün spor yapıyorum.

- Buna göre bu çocukta hangisi **görülmez**?
A) Sık sık hasta olur.
B) Kemik ve kasları gelişir.
C) Sağlıklı bir vücuda sahip olur.