




2/A Sınıfı En Sevilen Çizgi Film Kahramanları Tablosu

Çizgi Film Kahramanları	Öğrenci Sayısı
Kukuli	
Heidi	
Akıllı Tavşan Momo	
Süpermen	

NOT: Her şekil 4 öğrenciyi göstermektedir.

SORULAR

- 1-) En çok sevilen çizgi film kahramanı ile en az sevilen çizgi film kahramanının toplamı kaçtır?
- 2-) Heidi sevenlerin sayısı Akıllı Tavşan Momo'yu sevenlerden kaç fazladır?
- 3-) Süpermen seven öğrencilerin sayısını 1 düzine yapmak için kaç öğrenci gerekir?
- 4-) Akıllı Tavşan Momo'yu seven öğrencilerin sayısı 1 desteden kaç eksiktir?
- 5-) Süpermen sevenlerin sayısı Kukuli'yi sevenlerin sayısından kaç eksiktir?
- 6-) Bu sınıftaki toplam öğrenci sayısı kaç onluktur?

Facebook grup = İskender07 (ilkokul etkinlik)

Otoparktaki Taşıtların Tablosu

Taşıt Çeşiti	Taşıt Sayısı
Kamyon	
Otomobil	
Jip	
Otobüs	

NOT: Her şekil 5 öğrenciyi göstermektedir.

SORULAR

- 1-) Otoparktaki otomobil sayısı jip sayısından kaç fazladır?
- 2-) Otoparkta sayıları eşit olan taşıt türleri nelerdir?
- 3-) Otoparka kaç otomobil daha gelirse 2 düzine otomobil olur?
- 4-) Bu otoparka kaç taşıt daha gelirse toplam 5 deste taşıt olur?
- 5-) Çetele tablosunu oluşturunuz.

Taşıt türü	Taşıt sayısı