

2/A

1. 1.



YAVRU KEDİ
Kim bırakmış yavru kediyi
Sokağın kenarına
Nasıl geçirsin tek başına
Kocaman geceyi?

Kedi acı acı ağlıyor.
Belli ki annesini arıyor.
Acaba güneş nerede?
Adnan ÇAKMAKÇIOĞLU

(1., 2. ve 3. soruları şiire göre cevaplayınız.)

Yavru kedi nereye bırakılmış?

- A) Çöplüğe
- B) Bahçeye
- C) Sokağın kenarına

2. 2. **Kedi, neden acı acı ağlıyormuş?**

- A) Yalnız kaldığı için
- B) Hava soğuk olduğu için
- C) Çok acıktığı için

3. 3.

Şiire göre, yavru kedi ne arıyor olabilir?

- A) Babasını
- B) Annesini
- C) Diğer yavru kedileri

4. 4.

Aşağıdaki cümlelerin hangisinde "çay" sözcüğü farklı bir anlamda kullanılmıştır?

- A) Her sabah bir bardak çay içerim.
- B) En çok sevdiğim içecek çaydır.
- C) Eskiden çamaşırları çayda yıkar-larmış.

5. 5.

Aşağıdaki cümlelerin hangisinde "yüz" sözcüğü farklı bir anlamda kullanılmıştır?

- A) Anıtkabir'e yapılan geziye okulumuzdan yüz öğrenci katıldı.
- B) Doktor, yüzüme sürmem için krem verdi.
- C) Yüzümdeki benleri görünce çok şaşırdım.

6. 6.

"Çay toplarken çay içiyordu." tümcesinde yazılışları aynı, anlamları farklı olan sözcük hangisidir?

- A) toplarken
- B) içiyordu
- C) çay

7. 7. "Kaptan karaya çıkarken kara kara düşünüyordu." tümcesinde geçen "kara" sözcükleri için hangi öğrencinin söylediği doğrudur?

A) Eş anlamlı sözcüklerdir.

B) Eş sesli sözcüklerdir.

C) Zıt anlamlı sözcüklerdir.

8. 8.



"Bir kimseyi yetiştirip topluma yararlı olacak duruma getirmek."

Uğur Bey'in anlatımına uygun olan söz grubu aşağıdakilerden hangisidir?

- A) Adam etmek
B) Kafa tutmak
C) Gölge etmek

- 9.

9. Aşağıdaki cümlelerin hangisinde altı çizilen sözcük "eş sesli" dir?

- A) Ayşe çok iyi bir arkadaşımıdır.
B) Bir yaş daha büyüdüm.
C) Yolda büyük bir kedi gördüm.

10. 10.



Su dolu bardağı yere düşürdü.

Murat

Antalya'ya iri iri dolu yağmış.



Metin



Süt şişesi dolu mu boş mu belli olmuyor.

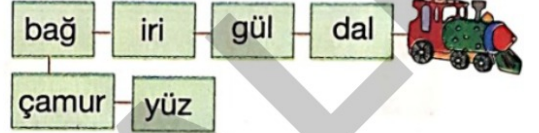
Gökhan

Yukarıdaki öğrencilerden hangisi cümlesinde "dolu" sözcüğünü farklı bir anlamda kullanmıştır?

- A) Metin
B) Murat
C) Gökhan

- 11.

11.



Yukarıdaki sözcüklerden kaç tanesi eş sesli sözcüktür?

- A) 2 B) 3 C) 4

12. 12.

Yandaki baloncunun balonlarına yazılı olan sözcüklerden birinin eş seslisi yoktur.

Bu sözcük, hangi renkteki balona yazılmıştır?

- A) pembe
B) mavi
C) sarı



13. 13. "Bin" sözcüğünü aşağıdaki öğrencilerden hangisi, farklı bir anlamda kullanmıştır?


A)  Bu çiftlikte bin tavuk varmış.

B)  Sabah erkenden arabaya bindi.


C)  Gemiye bin ve karşıya geç.

14. 14. Aşağıdaki cümlelerin hangisinde altı çizili sözcük eş sesli **değildir**?


- A) Köye gittiğimde ata bindim.
 B) Babam bana hediye verdi.
 C) Nasrettin Hoca, bastığı dalı kesiyormuş.

15. 15.  Çocuklar, evden çıktıktan sonra hemen dolu yağmaya başladı.

Aslı

-  Dolaptaki boş şişelerin yerine dolu şişeleri yerleştirdik.

Hatice

-  Şeker dolu kavanoza elimi daldırdım, ancak elimi geri çıkaramadım.

Özlem


Yukarıdaki öğrencilerden hangisi cümlesinde "dolu" sözcüğünü **farklı** bir anlamda kullanmıştır?


- A) Aslı B) Hatice C) Özlem


16. 16. "Gül dikensiz olmaz." atasözünde hangi sözcük eş sesli bir sözcüktür?

- A) olmaz
 B) dikensiz
 C) gül

17. 17. Aşağıdaki öğrencilerden hangisi "kaz" sözcüğünü, bir hayvan adı olarak kullanmıştır?

- A)  Köylüler kanal kazarak su getirdiler.

- B)  Kaz da bir kümes hayvanıdır.

- C)  Bahçemizdeki ağacın altını kazmışlar.

18. 18. Aşağıdaki cümlelerin hangisinde altı çizili sözcüğün birden fazla anlamı vardır?

- A) Kız kardeşim Ankara'ya gitti.
 B) İlbaharda her taraf yemyeşil olur.
 C) Çocuklar, bahçede top oynuyorlar.

19. 19.

"Karnı zil çalmak" söz grubunun anlamını hangi öğrenci doğru açıklamıştır?



Çok gülmek

Ayhan



Karnı ağrımak

Canan



Çok acıkmak

Ömer

A) Ayhan B) Canan C) Ömer

20.

20.

"Bezlerin üstünde vatanımız ve milletimiz için övücü sözler yazıyordu." cümlesinde altı çizili sözcüklerin yerine aşağıdaki sözcük çiftlerinden hangileri yazılırsa cümlenin anlamı **değişmez**?

- A) yurdumuz - ulusumuz
B) ülkemiz - insanlarımız
C) memleketimiz - çocuklarımız

21.

21. Karabaş, ağzındaki kemiği kulübesine taşıyıp yiyecektir. Karabaş, eş anlamlı kelimelerin bulunduğu kulübede yaşamaktadır.



Buna göre, Karabaş kemiği nerede yer?

A)



B)



C)



22. 22.

Aşağıdaki kelime çiftlerinden hangisi, birbiriyle eş anlamlı **değildir**?

- A) Matem – yas
B) Sürat – hız
C) Sözlük – kelime

23. 23.

"Acımak" sözcüğü hangi cümlede "üzülmek" anlamında kullanılmıştır?

A)

Yaralı kuşun hâline çok acıdım.



B)

Elimdeki yara çok acıyor.

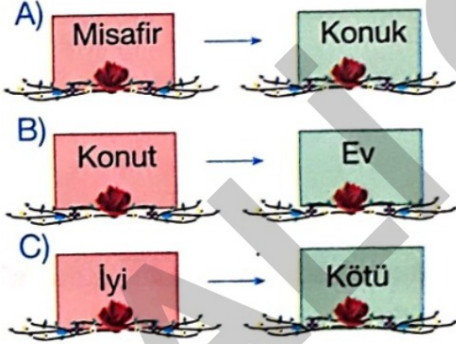


C)

Yemeklere tat veren acıdır.



24. 24. Aşağıdaki kelime çiftlerinden hangisi anlam ilişkisi bakımından diğerlerinden farklıdır?



25. 25. Hangi öğrenci cümlesinde geçen "güven" kelimesini "cesaret" anlamında kullanmıştır?



26. 1.



Yukarıdaki hayvanların verdiği bilgiye göre bu çiftlikte toplam kaç tane hayvan vardır?

- A) 31 B) 38 C) 40

27. 2.



Birgül yukarıdaki ürünlerin her birinden 2'şer tane almıştır.

Birgül'ün cebinde 20 lira olduğuna göre kaç liraya daha ihtiyacı vardır?

- A) 6 B) 7 C) 8

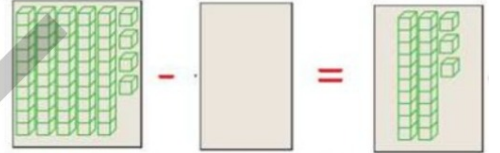
28. 3.



Yukarıdaki sayıdan başlayarak ileriye doğru 5'er ritmik sayma yaparsam 3. söylediğim sayı kaç olur?

- A) 39 B) 34 C) 29

29. 4.



Yukarıdaki çıkarma işlemine göre verilmeyen sayı kaçtır?

- A) 31 B) 41 C) 21

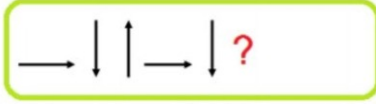
30. 5.

$$\begin{aligned} 12 - 4 &= 8 \\ 8 - 4 &= 4 \\ 4 - 4 &= 0 \end{aligned}$$

Yukarıdaki ardışık çıkarma işlemiyle ilgili verilen bilgilerden hangisi yanlıştır?

- A) Bölen , bölümden fazladır.
B) Bölen sayı 3 'tür.
C) Bölünen ile bölümün toplamı 15'tir.

31. 6.



Yukarıda verilen örüntüde soru işareti olan aşağıdakilerden hangisi gelmelidir?

- A) → B) ↑ C) ↓

32. 7.



Yukarıdaki şekillerle ilgili hangi seçenekteki bilgi **yanlıştır**?

- A) 1. şeklin köşe sayısı 2. şeklin köşe sayısından fazladır.
B) İki şeklide kullanarak dikdörtgen çizebiliriz.
C) 1.şeklin adı dikdörtgenler prizmasıdır.

33. 8.



- Küvet 5 damacana su ile doluyor.
→ Damacana 4 tencere su ile doluyor.

Yukarıdaki bilgilere göre **küvetin yarısı** kaç tencere su alır?

- A) 20 B) 10 C) 9

34. 9.



Dede torun konuşmasına göre okulların açılmasına **kaç gün** kalmıştır?

- A) 47 B) 77 C) 40

35.

10. Hangi seçenekte "**Güz**" mevsimine ait aylar verilmiştir?

A)	B)	C)
Mart Nisan Mayıs	Eylül Ekim Kasım	Haziran Temmuz Ağustos

36. 11.



Otobüse binen kişilerle ilgili verilen bilgilerden hangisi **yanlıştır**?

- A) Otobüse binen sondan 4. kişi Fatih'tir.
B) Berna, sondan 5. kişinin önündedir.
C) Yeliz, Şeyda'nın arkasındadır.

37. 12.

$$\begin{array}{r} \dots\dots \\ - \dots\dots \\ \hline 26 \end{array}$$

Yandaki çıkarma işleminde çıkan sayı ,farktan 11 eksiktir. Buna göre , bu çıkarma işleminde **eksilen sayı** kaçtır?

- A) 15 B) 41 C) 63

38. 13.



Leyla 2 saat ders çalışmıştır. Leyla ders çalışmayı yukarıdaki saatte bitirdiğine göre Leyla ders çalışmaya saat kaçta başlamıştır?

- A) 4 : 30 B) 4 : 00 C) 5 : 30

39. 14.



Yukarıdaki ekmeklerden 2 çeyrek ekmek yersem ,geriye kaç yarım ekmek kalır?

- A) 14 B) 8 C) 7

40. 15. *Aşağıdaki toplama tablosunda , tablonun bir kısmına boya dökülmüştür.*
Soru işareti olan yere hangi sayı yazılmalıdır?

+	11	7	2
6	17	13	8
		?	10

- A) 13 B) 14 C) 15

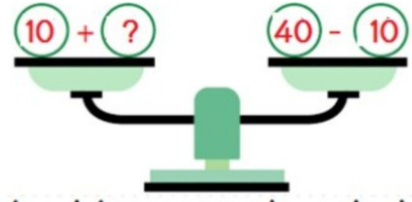
41. 16.

Ahmet 7 yaşındadır. Kız kardeşi ondan 1 yaş küçük , erkek kardeşi ise 1 yaş büyüktür.

Üç kardeşin yaşları toplamı kaçtır?

- A) 21 B) 18 C) 15

42. 17.



Yukarıdaki terazinin dengede durabilmesi için ? olan yere hangi sayı yazılmalıdır?

- A) 30 B) 10 C) 20

43. 18.

"On bire çeyrek var."

Mustafa'nın söylediği saat aşağıdakilerden hangisidir?



A)



B)



C)



44. 19.

Nüpel manavdan kilogramı 4 TL olan domateslerden 3 kilogram almış ve manava 20 TL ödeme yapmıştır.

Yukarıda verilen durum ile ilgili aşağıdaki bilgilerden hangisi yanlıştır?

- A) Domatesler 12TL tutmuştur.
B) Nüpel 8 TL para üstü almıştır.
C) Domatesler 7TL tutmuştur.


45. 20. Meyvelerle bir örüntü oluşturduk.



Aşağıdaki örüntülerin hangisi meyvelerle oluşturulan örüntünün kuralına uygundur?

- A) ▲ ▣ ▢ ▣ ▢ ▣ ▢
 B) ● × × × ● ▲ × × × ●
 C) B B ■ ▲ B B ■ ▲

46. 1.



Yukarıdaki görsele göre, aşağıdakilerden hangisi **söylenemez**?

- A) Ağaçlar, evin batısındadır.
 B) Çocuklar, evin doğusundadır.
 C) Kuşlar, evin güneyindedir.

- 47.

2. Bir bitkinin büyümesini incelemek amacıyla fasulye tohumu çimlendirilmek isteniyor.

Fasulye tohumunun çimlenebilmesi için aşağıdakilerden hangisine ihtiyaç **yoktur**?

- A) Işığa
 B) Havaya
 C) Suyu

48. 3.

Plâstik iki saksıya toprak doldurulup, saksılara fasulye taneleri eki- liyor. Saksılar güneş gören bir ortama konulup her gün sulanıyor. Fasulye fideleri biraz büyüyünce, birinin üzerine karton kutu kapatılıyor. İki fideye de su verilme- ye devam ediliyor. Belli bir süre sonra karton kutuyla kapatılan saksıdaki fasulyenin gelişmediği, diğer fasulyenin gelişip büyüdüğü görülüyor.

Yapılan bu deneyle anlatılmak istenen aşağıdakilerden hangisidir?

- A) Bitkiler için güneş ışığının önemi
 B) Bitkiler için suyun önemi
 C) Bitkiler için toprağın önemi

49. 4.

Aşağıdaki bitkilerden hangisini evimizde saksılarda yetiştiririz?

- A) Ağaç
 B) Üzüm
 C) Menekşe

50. 5.

Ülkemizde ve dünyada bazı hayvanlar koruma altına alınmıştır.

Bu hayvanların koruma altına alınmasının **sebebini** hangi öğrenci doğru açıklamıştır?

- A) Bu hayvanların türlerinin giderek azalması
 B) Bu hayvanların diğer hayvanlardan fazla olması
 C) Bu hayvanların hasta olması

51. 6.



Ahmet, Güneşin doğduğu yöne yüzünü dönerek yönleri tarif ediyor. Buna göre, Ahmet 'in sağ kolu hangi yönü gösterir?

- A) Batıyı
- B) Güneyi
- C) Kuzeyi

52. 7.

Güneşin battığı yön, aşağıdakilerden hangisidir?

- A) Doğu
- B) Batı
- C) Güney

53. 8.



Yukarıdaki görsele göre aşağıdakilerden hangisi doğrudur?

- A) Kuşlar, evin güneyinde uçmaktadır.
- B) Evin doğusunda, civcivler ve kedi vardır.
- C) Ağaçlar, evin batısında yer almaktadır.

54. 9.

Güneşin doğduğu yere sağ kolumuzu uzattığımızda sol tarafımız hangi yönümüzü gösterir?

- A) Batı
- B) Kuzey
- C) Güney

55. 10.

Aşağıdakilerden hangisi deprem sırasında yapılması gereken bir davranıştır?

- A) Devrilebilecek eşyaları sabitlemek
- B) Asansörleri kullanmamak
- C) Deprem çantası hazırlamak

56. 11.

Yeşil alanlar havayı temizler. Havadaki miktarını artırır. Bu cümleyi aşağıdaki seçeneklerden hangisi ile tamamlayabiliriz?

- A) su
- B) karbondioksit
- C) oksijen

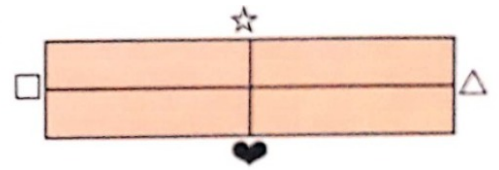
57. 12.

Yer kabuğunun kırılmasıyla meydana gelen yer sarsıntısına denir.

Yukarıdaki ifadeyi, aşağıdakilerden hangisiyle tamamlamalıyız?

- A) deprem
- B) sel
- C) yangın

58. 13.



Yukarıda verilen şekle göre Güneş, sabahları Δ ile belirtilen yönden doğuyor.

Buna göre, batı ve güney yönleri hangi seçenekte doğru olarak verilmiştir?

- A) \square ve \heartsuit
- B) \star ve \heartsuit
- C) Δ ve \square

59. 14.



Sağ kolumuzu Güneş'in doğduğu yöne uzatırsak yüzümüz gösterir.

Yukarıdaki ifadeyi, hangisi ile tamamlamamız doğru olur?

- A) batıyı
- B) güneyi
- C) kuzeyi

60. 15.



Yukarıdaki şemada boş bırakılan yere aşağıdakilerden hangisi yazılmalıdır?

- A) Orman yangınların çıkış sebepleri
- B) Sel olayının oluşmasının sebepleri
- C) Deprem meydana geliş sebepleri

61.

16.



Yukarıdaki görselle anlatılan doğal afet aşağıdakilerden hangisidir?

- A) Sel
- B) Çığ
- C) Hortum

62. 17.

1. Piller
2. Cam şişeler
3. Plastik eşyalar
4. Kağıt

Yukarıdakilerden kaç tanesini geri dönüşüm kutularında biriktirip, tekrar kullanılmasını sağlayabiliriz?

- A) 2
- B) 3
- C) 4

63.

18.

Yandaki görselle hangi mevsim anlatılmaktadır?

- A) Yaz
- B) Sonbahar
- C) Kış



64. 19. Toprağın çeşitli nedenlerle bulunduğu yerden aşağı doğru sürüklenmesi sonucu hangi görseldeki doğal afet oluşur?



65. 20. Aşağıdaki çevrelerden hangisi canlıların yaşamını olumsuz olarak etkilemez?



66. 1.

$$4 - 1 = ?$$

Yukarıda verilen işlemin sonucu hangi seçenekte verilmiştir?

- A) two
B) three
C) nine


67. 2. Yanda verilen rakamın karşılığı hangi seçenekte verilmiştir?

- A) tree
B) there
C) three

3

- 68.

3. Aşağıda yazıyla verilmiş sayının rakamla yazılışı hangi seçenekte doğru verilmiştir?

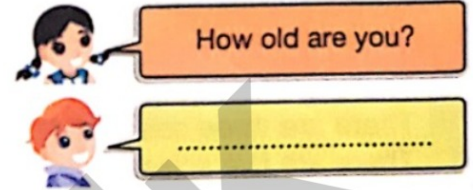


A) 9

B) 4

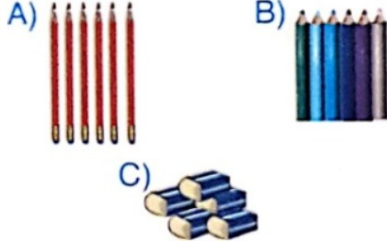
C) 5

69. 4. Aşağıdaki diyalogda, boş bırakılan yere hangi seçenek gelmelidir?




- A) I am seven.
B) Thank you.
C) I am fine.

70. 5. Aşağıda anlatılan durum, hangi seçenekte verilmiştir?
- There are six pencils-



71. 6. Aşağıdaki cümlede bırakılan boşluğa resme göre, hangi seçenek gelmelidir?



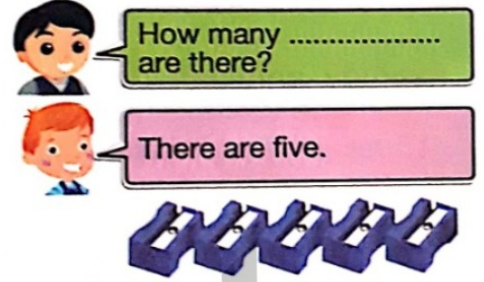
- A) four pens
B) three desks
C) four erasers

72. 7. Aşağıdaki sorunun cevabı hangi seçenekte doğru verilmiştir?
- How many scissors are there?




- A) There are four scissors.
B) There are three scissors.
C) There are five scissors.

73. 8. Aşağıdaki diyalogda bırakılan boşluğa hangi seçenek gelmelidir?



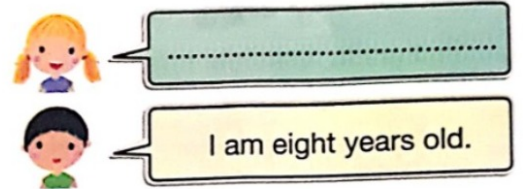
- A) erasers
B) glues
C) sharpeners

74. 9. Aşağıdaki cümlede bırakılan boşluğa hangi seçenek gelmelidir?



- A) There is four
B) There are three
C) There are four

75. 10. Aşağıdaki diyalogda bırakılan boşluğa hangi seçenek gelmelidir?



- A) What's your name?
B) How old are you?
C) How many students are there?

76. 11.



Yukarıda verilen işlemde soru işareti yerine hangi seçenek gelmelidir?

- A) four pencilcases
- B) five pencilcases
- C) five scissors

77. 12.



Kutuda hangi sayı eksiktir?

- A) seven
- B) six
- C) eight