

TOPLAMA VE ÇIKARMA İŞLEMİ PROBLEMLER

1. 3 düzine yumurtanın 18 tanesi kullanılmış.
Geriye kaç tane yumurta kalmıştır ?

Çözüm:




2. Koray'ın 62 lirası vardı. 27 lirasını
harcadı. Sonra babası 15 lira daha verdi.
Koray'ın kaç lirası olmuştur ?

Çözüm:



3. Gaye 61 tane boncuğun , 24 tanesini
arkadaşına vermiş. Boncukların 17 tanesini
ise kaybetmiş. Gayenin kaç tane boncuğu
kalmıştır ?

Çözüm:



4. Efe 13 , Oya ise 14 yaşındadır. 4 sene
sonra Efe ve Oya'nın yaşları toplamı
kaçtır ?

Çözüm:




5. Annemle babamın yaşları toplamı
63'tür. Annemle babamın 6 yıl önceki
yaşları toplamı kaçtır ?

Çözüm:



6. Kutuda 46 tane sarı boncuk var. Sarı
boncuklar kırmızı boncuklardan 19 tane faz-
la olduğuna göre, kutuda toplam kaç tane
boncuk vardır ?

Çözüm:




7. Salih 13, dedesi 71 yaşındadır. Salih
doğduğunda dedesi kaç yaşındaydı?

Çözüm:



8. Tabakta 50 tane fındık vardı. Fındıkların
34 tanesini yedik. Annem tabağa 17 tane
fındık koydu. Tabakta kaç tane fındık oldu ?

Çözüm:



Doğru

cevap

bulunan

çemberleri

boyayalım.

33

49

73

19

18

72

50

20

34

58

69

51

40

35