

Adı : .....

Soyadı: .....

## MATEMATİK


Doğru Sayısı : .....



Yanlış sayısı: .....

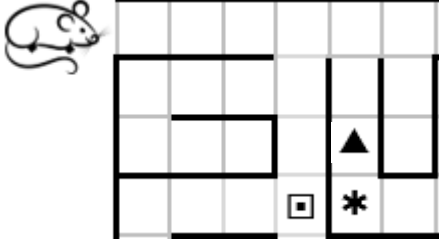


1. Yandaki arabanın hareketi aşağıdakilerden hangisidir?



- A) Soldan sağa B) Yukarıdan aşağıya  
C) Sağdan sola

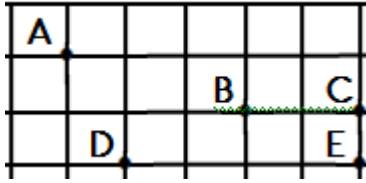
2.



Yukarıdaki fare 5 kare ilerleyip 3 kare aşağı inince han şekle ulaşır ?

- A) ▲ B) \* C) ◻

3. 3. ve 4. soruları aşağıdaki şekle bakarak cevaplayınız.



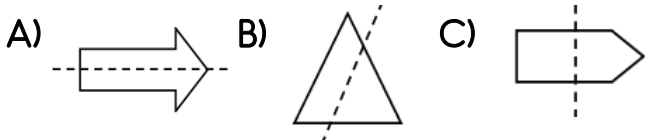
E noktası , D noktasının neresindedir ?

- A) 3 birim solunda B) 4 birim sağında  
C) 3 birim sağında

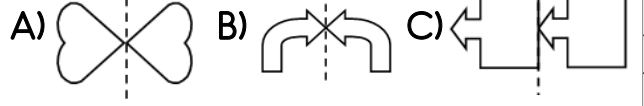
4. B noktası , A noktasının neresindedir ?

- A) 2 birim sağında, 1 birim aşağısında  
B) 2 birim solunda, 1 birim yukarısında  
C) 3 birim solunda, 1 birim yukarısında

5. Aşağıdaki şekillerden hangisi 2 eş parçaya ayrılmıştır?




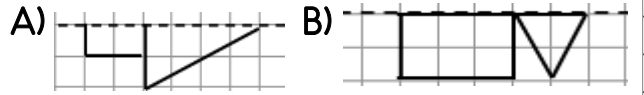
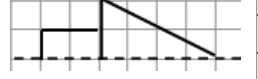
6. Aşağıdakilerden şekillerden hangisi simetrik değildir ?



7. Aşağıdaki harflerden hangisi 2 eş parçaya ayrılmaz ?



8. Yandaki şeklin simetrisi aşağıdakilerden hangisidir?



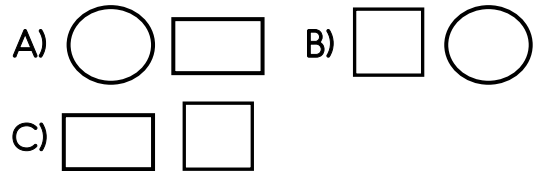
- 9.

Yukarıdaki örüntüde noktalı yere hangi şekil gelmelidir ?



- 10.

Yukarıdaki örüntüde noktalı yerlere hangi Şekiller gelmelidir?



- 11.

Yukarıdaki örüntüde noktalı yere hangi şekil gelmelidir?

