



2. SINIFLAR MATEMATİK PROBLEMLERİ (Giray KARAGÜN)


1) Çiftliğimizde 34 tane tavşan vardır. Bu yıl 57 tane daha tavşan doğduğuna göre kaç tavşanımız olmuştur?




2) Bahçemizdeki nar ağaçlarından birinden 29 tane diğerinden 46 tane nar topladım. Kaç tane narımız oldu?




3) Alı'nın 28, Metin'in 25 ve Feyyaz'ın 40 tane misketi vardı. Üç arkadaş misketlerini birleştirdiler. Kaç misketleri oldu?



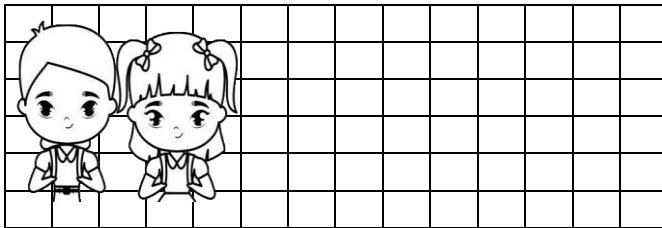
4) Cuma günü 25 sayfa, Cumartesi günü 36 sayfa ve Pazar günü 31 sayfa kitap okuyarak kitabımı bitirdim. Kitabım kaç sayfadır?




5) Jerry (Jeri) 9 yaşındadır. Tom, Jerry'den 5 yaş büyüktür. Tom ve Jerry'nin yaşlarının toplamı kaçtır?




6) Sınıfımızda 13 kız vardır. Kızlardan 9 fazla erkek öğrenci vardır. Sınıfımızın mevcudu kaçtır?




7) Hayri dün 23 tane köfte, bugün isrdünkinden 14 tane fazla köfte yedi. Hayri iki günde toplam kaç köfte yedi?




8) Asteriks 59 kg ağırlığındadır. Oburiks, Asteriks'ten 39 kg daha ağırdır. Oburiks kaç kg ağırlığındadır?




9) Arı Maya bal toplamaya çıktığında 38 çiçeği doladı. Arkadaşı Willy (Vili) ise Arı Maya'dan 13 fazla çiçeği doladı. İki birlikte kaç çiçeği doladı?




10) Kitaplığımızda 56 kitabımız var. Kitaplığa 27 kitap daha alırsak kaç kitabımız olur?




11) Evimizle kırtasiyenin arası 39 metre, kırtasiye ile okulun arası 52 metredir. Evden çıkıp kırtasiyeye uğrar kalem alır ve oradan okula yürürsem kaç metre yürümüş olurum?




12) Okullar açıldığında 3 deste boya kalem ile 2 deste kurşun kalem aldım. Babam sonradan 6 tane kırmızı kalem aldı. Kaç kalemim oldu?



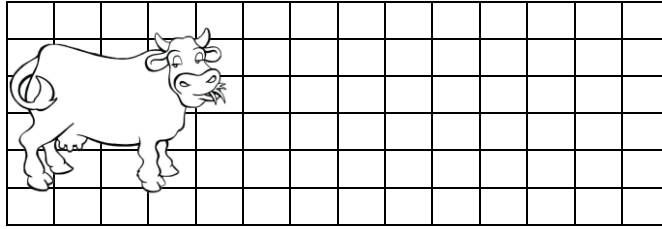
13) Bir kamyonla 62 kg ağırlığında çamaşır makinesi, 18 kg ağırlığında televizyon ve 5 kg ağırlığında ütü yüklendi. Kamyon ne kadar ağırlık taşır?



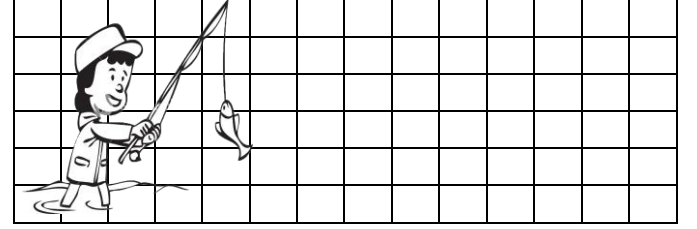
14) Levent Çarşamba 26 test sorusu, Perşembe 24 ve Cuma günü 39 test sorusu çözdü. Toplam kaç soru çözdü?




15) Sarıkız dün 36 kg süt verdi. Bugün dünden 7 kg fazla süt verdi. Sarıkız iki günde kaç kg süt verdi?



16) Babamla balık tutmaya gittik. Babam 26 tane balık tuttu. Ben ondan 13 fazla, annem de benim tuttuğumdan 12 fazla balık tuttu. Annem kaç balık tutmuş?



17) Çarşıdan 36 liraya kazak, 15 liraya atkı ve 43 liraya pantolon aldık. Kaç lira harcadık?



18) Kenan Usta duvar örerken birinci gün 26, ikinci gün birinci günden 16 fazla tuğla ve son gün 24 tuğla kullanmıştır. Toplam kaç tuğla kullanmıştır?

