






VERİ TOPLAMA VE DEĞERLENDİRME

1. Etkinlik: Aşağıdaki şekil grafiğine bakarak soruları cevaplayalım.

Tablo: Çiçekçide Satılan Çiçekler

Çiçekler	Sayısı
Karanfil	
Papatya	
Gül	
Menekşe	

Grafikte her  7 çiçeği göstermektedir.

1. En çok hangi çiçek satılmış ? Kaç tane satılmıştır?

.....

2. En az hangi çiçek satılmış ? Kaç tane satılmıştır?

.....

3. Menekşeler güllerden kaç tane fazla satılmıştır?

.....

4. 16 tane daha satılmış olsaydı kaç tane karanfil satılmış olurdu?

.....

5. Papatya ve gül toplam kaç tane satılmıştır ?

.....

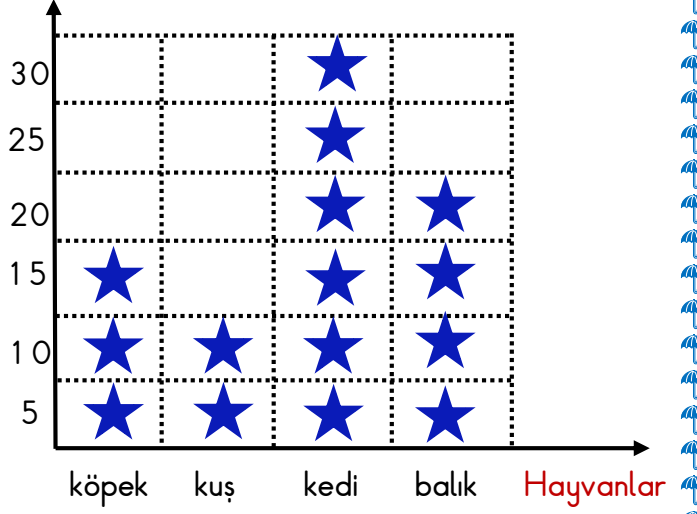
6. Menekşeler 15 tane eksik satılsaydı kaç tane satılmış olurdu ?

.....

2. Aşağıdaki şekil grafiğine bakarak soruları cevaplayalım.

Grafik: 3. Sınıflarda En Çok Sevilen Hayvanlar

Kişi Sayısı



Grafikte her  5 hayvanı göstermektedir.

1. En fazla hangi hayvan sevilmiştir ? Kaç kişi sevmektedir?

.....

2. En az hangi hayvan sevilmiştir ? Kaç kişi sevmektedir?

.....

3. Kedileri sevenler , köpekleri sevenlerden kaç kişi fazladır ?

.....

4. Balık ve kuşları sevenler toplam kaç kişidir ?

.....

5. 17 kişi daha sevmiş olsaydı köpekleri kaç kişi sevmiş olurdu ?

.....

6. Balıkları sevenler 8 kişi eksik olsaydı kaç kişi olurdu?

.....