

Dolu Dolu

64 SAYFA

METİN İLE İLGİLİ
SANKİ
DOĞRU YANLIŞ
TEST
SORULARI

TOPLAM

345 soru

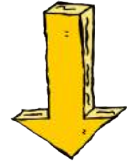

EĞLENCİLİ
OKUMA ANLAMA
ETKİNLİKLERİ



SİPARİŞ

0 552 252 83 85

KARGO ÜCRETSİZ



Fiyat : 10 TL

Sipariş Whatsapp :

0 552 252 83 85



SORU

1

Ali, sabah 24 tane simit, akşam 35 tane simit sattı. Buna göre Ali bugün toplam kaç simit sattı?

Cevap :

SORU

5

Okulda öğretmen sayısı öğrenci sayısından 32 daha azdır. Okulda 4 öğretmen olduğuna göre öğrenci sayısı kaçtır?

Cevap :

SORU

2

Bir sınıfta 36 öğrenci vardır. Bunlardan 23 tanesi kız ise erkek öğrenci sayısı kaçtır?

Cevap :

SORU

6

Kümeşte 17 tavuğum var. Babam kaç tavuk daha alırsa kümeşte 45 tavuğum olur?

Cevap :

SORU

3

İki basamaklı en büyük doğal sayıdan iki basamaklı en küçük doğal sayıyı çıkarırsak kalan kaç olur?

Cevap :

SORU

7

40 onluğuna yuvarlanan en büyük doğal sayı ile 30 onluğuna yuvarlanan en küçük doğal sayının farkı kaçtır?

Cevap :

SORU

4

Aslı kardeşinden 5 yaş büyüktür. Aslı 23 yaşında olduğuna göre kardeşi kaç yaşındadır?

Cevap :

SORU

8

Çıkan sayı 32, kalan sayı ise çıkan sayıdan 15 fazla ise eksilen sayı kaçtır?

Cevap :

1 Annem, babamdan 5 yaş küçüktür. Annem 27 yaşında olduğuna göre babam kaç yaşındadır?

- A 22 B 32 C 35

2 Cevabı 34 olan soruyu arıyorum.



Buna göre Fufuk'un aradığı soru aşağıdakilerden hangisi olabilir?


- A 25 sayısının 34 fazlası kaçtır?
B 18'e kaç eklersem 34 olur?
C 15 ile 19'u toplarsam kaç olur?

3 Bir sınıfta kız öğrenci sayısı erkek öğrenci sayısından 6 fazladır. Sınıfta 25 kız öğrenci olduğuna göre bu sınıfta toplam kaç öğrenci vardır?

- A 31 B 44 C 54

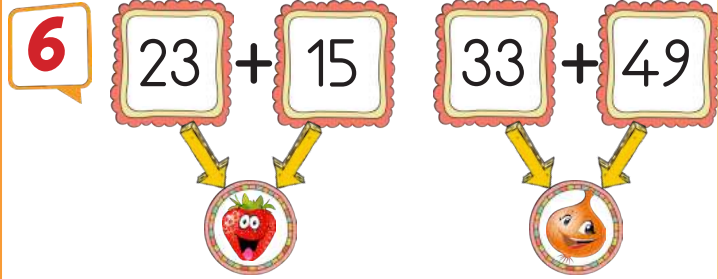
4 Aşağıda verilen işlemlerden hangisinin sonucunu 60'tan büyüktür?

- A $43 + 16 =$
B $79 - 21 =$
C $32 + 29 =$



5 Fufuk'un balonlarında yazan sayılardan en büyüğü ile en küçüğünün farkı kaçtır?

- A 45 B 42 C 39



Yukarıda verilen toplama işlemlerine göre aşağıdakilerden hangisi doğrudur?

- A + 19 = 47
B - 19 = 63
C - = 54


Adı :
Soyadı :
Sınıfı : / No :

CEVAPLAR

1	A	B	C	6	A	B	C
2	A	B	C	7	A	B	C
3	A	B	C	8	A	B	C
4	A	B	C				
5	A	B	C				

İZLE

Telefondan QR kodunu okutarak cevap anahtarına ulaşabilirsiniz.



➔ **10 TL** ➜

Whatsapp Sipariş

0 552 252 83 85

Kargo Ücretsiz

48 DEYİM - 110 SAYFA

14 SAYFA ETKİNLİK SORULARI