

Kitap içeriklerini Youtube ya da sitemizde inceleyebilirsiniz.

 Youtube İzlemek için **TIKLA**  Sitede görmek için **TIKLA**

**FUFUK İLE TÜRKİYE MACERASI**



**7 KİTAP**

**22TL**

WhatsApp Sipariş  
**0 552 252 83 85**

1.Sınıf ✓ 2.Sınıf ✓  
3.Sınıf ✓ 4.Sınıf ✗

Bulmacalı Türkiye Haritası Hediye

Hediye

KARGO BEDAVA

Fiyatlar toplu alım için geçerlidir.

# FufukYayinlari.Com

Kitap içeriklerini Youtube ya da sitemizde inceleyebilirsiniz.

 Youtube İzlemek için **TIKLA**  Sitede görmek için **TIKLA**

**FUFUK İLE DEYİM VE ATASÖZÜ BOYUYORUM**



**5 KİTAP**

**18TL**

WhatsApp Sipariş  
**0 552 252 83 85**

1.Sınıf ✓ 2.Sınıf ✓  
3.Sınıf ✓ 4.Sınıf ✓

Her kitaba özel Değerlendirme Kitapçığı

KARGO BEDAVA

Fiyatlar Toplu Alım İçin Geçerlidir.



MART

Bugün dünya kadınlar günü  
Aklıma geldi anamın yüzü  
Mavi mavi iki gözü  
Ve hep gülen yüzü

Bugün dünya kadınlar günü  
Kadınlara bir gün yetmez  
Kadınların çilesi hiç bitmez  
Kadınların çektiğini kimse çekmez

Bugün dünya kadınlar günü  
Anam, bacım, teyzem  
Size yetmez 8 Mart günü  
Her gün sizlere kadınlar günü

1 Aşağıda verilen soruları yukarıdaki şiire göre cevaplayınız.



1. Şairin aklına ne geldi?

2. Kimlerin çilesi hiç bitmez?

3. Kimlere yetmez 8 Mart günü?

4. Şiire uygun bir başlık yazınız.



Milli Eğitim Bakanı Hamdullah Suphi milli bir marşa ihtiyaç olduğu için yarışma düzenledi. Kazanana ödül olarak 500 lira verilecekti. Yarışmaya 724 şiir katıldı. Fakat hiç bir şiir beğenilmedi. Mehmet Akif Ersoy para ödülünü almamak şartıyla yarışmaya katıldı. Tekrar seçimler yapıldı ve oy çoğunluğu ile Mehmet Akif Ersoy'un yazdığı şiir yarışmayı kazandı. 12 Mart bin dokuz yüz yirmi birde İstiklal Marşı olarak kabul edildi. Kazandığı beş yüz liralık ödülü yoksul kadın ve çocuklarına iş öğreterek yoksulluklarına son vermek için kurulan Darülmesai'ye bağışladı.



1 Aşağıda verilen soruları yukarıdaki metne göre cevaplayınız.

1. Yarışmayı kim düzenledi?

2. Yarışmanın ödülü nedir?

3. Mehmet Akif Ersoy, yarışmaya hangi şartla katıldı?

4. Mehmet Akif Ersoy, kazandığı ödülü nereye bağışladı?

1 Yarışmaya kaç şiir katılmıştır?

2 İstiklal Marşı hangi tarihte kabul edildi?

**A 714**

**B 720**

**C 724**

**A 10 Mart**

**B 12 Mart**

**C 21 Mart**

1 Aşağıda verilen cümlelerde büyük harfin kullanımı ile ilgili yanlışlıklar yapılmıştır. Düzeltip tekrar yazalım.



1. bugün ailece pikniğe gittik.



2. Elif izmir'e uçakla gittik.



3. Tepe mahallesi Kara sokak benim adresimdir.



4. bana ne zaman geleceğini söylemedi.



5. Evde oya ile kardeşini kitap okurken gördüm.

2 Aşağıda verilen cümlelerde "mi" soru ekinin yazımı ile ilgili yanlışlıklar yapılmıştır. Düzeltip tekrar yazalım.



1. Aslı ile evde ders çalıştınız mı?



2. Bugün bize gelir mi sin?



3. İstanbul'a arabayla mı gittiler?



4. Kalemimi bümü aldı?



5. İstanbul'a gidecek miyiz?



6. Bu oyuncakları bana mı aldın?



3 Aşağıda verilen cümlelerde sayıların yazımı ile ilgili yanlışlıklar yapılmıştır. Düzeltip tekrar yazalım.



1. Bizim sınıfta otuziki öğrenci vardır.



2. Bugün ikiyüz yirmi beş ekmek sattı.



3. Ellidört liranın yarısını harcadım.



4. 20 oyuncuğun her birini onbir liradan sattım.



4 Aşağıda verilen cümlelerde kısaltmaların yazımı ile ilgili yanlışlıklar yapılmıştır. Düzeltip tekrar yazalım.



1. Bugün T.B.M.M'yi ziyaret ettik.



2. Sabah Meb açıklama yaptı ve okullar açıldı.



3. Aldığım kumaş 3 M'yi geçiyordu.



4. Sınıfta yirmi iki öğrenci T.C vatandaşıdır.



5 Aşağıda verilen cümlelerde tarihlerin yazımı ile ilgili yanlışlıklar yapılmıştır. Düzeltip tekrar yazalım.



1. Ablam 8 mart 2003 günü doğdu.



2. 19 mayıs bizim için çok önemli bir gün.



3. 21-05-2021 doğum günümdür.



4. 23. Nisan çocukların bayramıdır.

6 Aşağıda verilen cümlelerde bazı yazım yanlışları yapılmıştır.  
Düzeltilip tekrar yazalım.



1. Neden ankara'ya otobüsle gittin?



2. Silgimi geri verirmi siniz?



3. sabah erkenden uyanıp kahvaltı hazırladım.



4. Ürünleri alırken Tse damgası varmı diye bakarım.



5. 30 aralıkta pikniğe gideceğiz.



6. Bisiklet sürmeyi öğretir mi sin?



7. Bugün 50 Gr. et yedim.



8. senin aldıkları mı güzel benim aldıklarımı?



9. Nesrin dokuz yüz ellibire kadar saymayı öğrendi.



10. 29 Mart pazartesi günü deneme var.



11. Arkadaşımın ablası Odtü'yü kazanmış.



12. bana yardım edebilirmi siniz?








13. Bumu benimle bursa'ya gelecek?



14. Lale Mahallesi kapı sokak benim adresimdir.

7 Aşağıda yazımı karıştırılan bazı sözcüklerin görselleri verilmiştir. Bu görsellerin isimlerini doğru bir şekilde yazalım.



## Örnek

36'nın  $\frac{3}{4}$  'ü kaçtır?

Çözüm:  $36 \div 4 = 9$   $9 \times 3 = 27$

## 1 Soru

30'un  $\frac{2}{6}$  'si kaçtır?

Çözüm:.....  $\div$  ..... = .....  $\times$  ..... = .....

## 2 Soru

72'nin  $\frac{4}{9}$  'ü kaçtır?

Çözüm:.....  $\div$  ..... = .....  $\times$  ..... = .....

## 3 Soru

40'ın  $\frac{3}{5}$  'ü kaçtır?

Çözüm:.....  $\div$  ..... = .....  $\times$  ..... = .....

## 4 Soru

70'in  $\frac{4}{5}$  'ü kaçtır?

Çözüm:.....  $\div$  ..... = .....  $\times$  ..... = .....

## 5 Soru

56'nın  $\frac{2}{8}$  'si kaçtır?

Çözüm:.....  $\div$  ..... = .....  $\times$  ..... = .....

## 6 Soru

48'in  $\frac{2}{4}$  'si kaçtır?

Çözüm:.....  $\div$  ..... = .....  $\times$  ..... = .....

## 7 Soru

63'ün  $\frac{7}{9}$  'si kaçtır?

Çözüm:.....  $\div$  ..... = .....  $\times$  ..... = .....

## 8 Soru

35'in  $\frac{5}{7}$  'i kaçtır?

Çözüm:.....  $\div$  ..... = .....  $\times$  ..... = .....

## 9 Soru

64'ün  $\frac{3}{8}$  'ü kaçtır?

Çözüm:.....  $\div$  ..... = .....  $\times$  ..... = .....

## 10 Soru

42'in  $\frac{6}{7}$  'si kaçtır?

Çözüm:.....  $\div$  ..... = .....  $\times$  ..... = .....

## 11 Soru

60'ın  $\frac{4}{6}$  'ü kaçtır?

Çözüm:.....  $\div$  ..... = .....  $\times$  ..... = .....

## 12 Soru

54'ün  $\frac{3}{9}$  'ü kaçtır?

Çözüm:.....  $\div$  ..... = .....  $\times$  ..... = .....

## 13 Soru

39'un  $\frac{2}{3}$  'si kaçtır?

Çözüm:.....  $\div$  ..... = .....  $\times$  ..... = .....

www.ufukkoca.com

Bir Çokluğun Kesir Kadarını Bulma

FUFUK Yayınları



## Örnek

Elif 32 şekerin  $\frac{2}{8}$ 'sini sattı. Buna göre Elif kaç şeker sattı?

**Çözüm:**  $32 \div 8 = 4$      $4 \times 2 = 8$

## 1 Soru

$\frac{3}{5}$  'ü 30 olan sayının tamamı kaçtır? (Model çizerek çözünüz.)

**Çözüm:**

## 2 Soru

84 litre sütün  $\frac{4}{6}$  'ünü sattı. Geriye kaç litre süt kaldı?

**Çözüm:**

## 3 Soru

Sınıfın  $\frac{4}{7}$  'ü erkektir. Sınıfta 28 öğrenci olduğuna göre kaç kız öğrenci vardır?

**Çözüm:**

## 4 Soru

36 kekin  $\frac{3}{6}$  'ünü 2 kardeşime eşit dağıttım. Buna göre bir kardeşime kaç kek verdim?

**Çözüm:**

## 5 Soru

Aldığım yumurtaların  $\frac{3}{4}$  'ü kırıldı. 24 sağlam yumurtam kaldığına göre kaç yumurtam kırıldı?

**Çözüm:**

## 6 Soru

48 liranın  $\frac{4}{6}$  'ünü kardeşime,  $\frac{2}{8}$  'sini ablama verdim. Bana kaç lira kaldı?

**Çözüm:**

## 7 Soru

64 simidin  $\frac{3}{8}$  'ünü sabah,  $\frac{2}{4}$  'sini akşam sattım. Geriye kaç simit kaldı?

**Çözüm:**

1 Aşağıda verilen problemleri çözelim.



**Soru 1 :** Fufuk 36 sayfalık kitap aldı. Sabah  $\frac{1}{4}$ 'ini akşam ise 12 sayfa okudu. Buna göre toplam kaç sayfa kitap okudu?

Cevap :

**Soru 2 :** Elif 42 simidin  $\frac{1}{6}$ 'ini kardeşine, 20 tanesini de ablasına verdi. Buna göre Elif'in kaç simidi kaldı?

Cevap :

**Soru 3 :** Ela, sabah 24 öğleden sonra ise 26 kek yaptı. Toplam kek'in  $\frac{1}{5}$ 'i kadar da kurabiye yaptı. Buna göre kaç kurabiye yaptı?

Cevap :

**Soru 4 :** Fufuk günde 12 pasta yapıyor. Bir haftada yaptığı pasta sayısının  $\frac{1}{4}$ 'i kadar da tatlı yapıyor. Buna göre Fufuk kaç tatlı yapıyor?

Cevap :



## FUFUK YENİ NESİL SORU



32 sayfa



48 sayfa



16 sayfa

Fufuk günde 8 sayfa kitap okuyarak yukarıdaki 3 kitabı bitirmek istiyor. İlk okuduğu kitabını 2 günde bitiriyor. En son 32 sayfalık kitabı okuyor.

Yukarıda verilen resim ve metne göre aşağıdaki bilgiler verilmiştir.

➔  $\frac{2}{4}$  'si 16 sayfa olan masal kitabıdır.

➔  $\frac{4}{8}$  'ü 24 sayfa olan şiir kitabıdır.

➔ Resimdeki kitapların türleri şiir, masal ve hikâyedir.

Fufuk, ilk kitabını 8 Mart Pazartesi okumaya başladığına göre 10 Mart Çarşamba günü okuduğu kitabın türü nedir?

**A** Masal

**B** Şiir

**C** Hikâye

**Soru 1 :** Kümesteki 48 tavuğun  $\frac{1}{8}$ 'i yumurtladı. Her yumurtayı 2 kişi yediğinde göre toplam kaç kişi yumurta yemiştir?

**Cevap :**

**Soru 2 :** Kırtasiyeci 56 kalemin çeyreğini sabah sattı. Öğleden sonra da 27 kalem sattı. Buna göre Kırtasiyeci toplam kaç kalem sattı?

**Cevap :**

**Soru 3 :** Elif 72 tokanın  $\frac{1}{9}$ 'ini kardeşine verdi. Kalan tokaların  $\frac{1}{8}$ 'ini ablasına verdi. Buna göre Elif'in kaç tokası kaldı?

**Cevap :**

**Soru 4 :** Fufuk'un sınıfta 30 öğrenci vardır. Öğrencilerin  $\frac{1}{6}$ 'i kızdır. Buna göre Fufukların sınıfta erkek öğrenci sayısı kız öğrenci sayısından kaç fazladır?

**Cevap :**

**Soru 5 :** Fufuk, tanesi 6 TL olan oyuncaklardan 5 tane aldı. Geriye 24 TL kaldığına göre Fufuk'un oyuncak almadan önceki parasının  $\frac{1}{6}$  'i kaçtır?

**Cevap :**

**Soru 6 :** 63 yolcunun  $\frac{1}{7}$  'i ilk durakta indi. Kalan yolcuların  $\frac{1}{9}$  'i ikinci durakta indi. Buna göre otobüste kaç yolcu kaldı?

**Cevap :**

**Soru 7 :** Ağaçtaki 80 elmanın  $\frac{1}{4}$  'ini sepete koydum. Sepetteki elmaların  $\frac{1}{5}$  'ini de yedim. Buna göre sepette kaç elma kaldı?

**Cevap :**

**Soru 8 :** 3-A sınıfında 42 öğrenci vardır. 3-A sınıfındaki öğrenci sayısının  $\frac{1}{6}$  'i 3-B sınıfına giderse öğrenci sayıları eşit oluyor. Buna göre 3-B sınıfında kaç öğrenci vardır?

**Cevap :**

1 Aşağıda verilen resimlerden ses şiddeti fazla olanı işaretleyelim.



2 Aşağıda verilen ifadelerden doğru olanların başına "D" harfi, yanlış olanların başına "Y" harfi yazınız.



Gürültülü ortamda ses şiddeti fazladır.

Ses şiddeti işitmede etkilidir.

Her canlının işitebileceği en düşük ses şiddeti aynıdır.

Yüksek ses kulağımıza zarar vermez.

Uçak bizden uzaklaştıkça sesin şiddeti artar.

Ambulansın sesini her uzaklıkta aynı işitiriz.

Bazı hayvanlar insanların duyamayacağı sesleri işitebilir.

Yapay ses kaynaklarının hepsi aynı şiddette ses çıkarır.

Tahtada ders anlatan öğretmeni, sınıftakiler aynı şiddette duyar.

1 Çok şiddetli sesler .....  
kaybına yol açabilir.

Yukarıdaki boşluğa aşağıdakilerden  
hangisi gelmelidir?

A kulak B işitme

C mikrofon

2 Hangisi diğerlerinden daha  
fazla şiddette ses çıkarır?



3



Yukarıdaki aracının çıkardığı sesin  
şiddeti hangi seçenekte verilmiştir?

A düşük B orta C yüksek

4

steteskop

megafon

mikrofon

hoparlör

Yukarıdakilerden kaç tanesi sesin  
şiddetini artırır?

A 2 B 3 C 4

5



Hangi çocuk kuşun sesini daha iyi  
duyar?

A Ali B Aslı C Oya

6

Aşağıdaki ortamların hangisinin  
de daha fazla gürültü olur?

A



B



C



7

Konseri en önde izleyen Fufuk,  
babasıyla en arkaya gitti.

Buna göre hangi ifade doğrudur?

A Şarkıyı daha iyi duyar.

B Babası, Fufuk'tan daha iyi duyar.

C Şarkıyı daha düşük seste duyar.

FUFUK Yayınları

## CEVAPLAR

1 (A) (B) (C)

2 (A) (B) (C)

3 (A) (B) (C)

4 (A) (B) (C)

5 (A) (B) (C)

6 (A) (B) (C)

7 (A) (B) (C)

8 ~~(A) (B) (C)~~

1 Aşağıda verilen telefon numaralarını acil durumlar ile eşleştiririm.



1 155

2 122

3 110

4 112

5 156

6 177

Jandarma imdat

Acil servis

İtfaiye

Alo orman yangını

Polis imdat

Alo AFAD

2 Aşağıda verilen durumlar karşısında hangi numarayı aramalıyız?

 Şehirdeki evimize hırsız girdiğinde ararım. Araba kaza yaptığında ararım. Ormanda yangın çıktığında ararım. Köyümüzü tehdit eden bir durum olduğunda ararım. Sokakta yanan arabayı gördüğümde ararım. Depremde yıkılan bina olduğunda ararım.

3 Aşağıda verilen ifadelerden doğru olanların başına "D" harfi, yanlış olanların başına "Y" harfi yazınız.



Dumandan zehirlenmemek için emekleyerek dışarıya çıkmalıyız.

Yanan odanın kapısını kapatıp altını ıslak havlu ile kapatmalıyız.

Burkulan yerimize beze sarılı buz koymalıyız.

Bir yerimiz kanarsa temiz bezle yaranın üstüne bastırmalıyız.

Bir yerimiz yanarsa hemen sıcak su ile temizlemeliyiz.

Yangında oluşan zehirli duman yukarı çıkar.