


1. Sınıf Matematik Değerlendirme



Yukarıdaki resme göre boşlukları dolduralım.


1.evin solundadır.
.....evin sağındadır.
.....evin önündedir.

2. Aşağıda verilen eşyaların en ağırdan en hafife doğru sıralanışı hangi seçenekte verilmiştir.



- A. 2 3 1
B. 1 3 2
C. 3 2 1

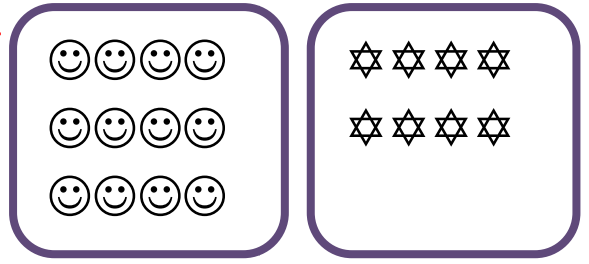
3. İkışer ritmik sayma yapalım.
Boş bırakılan yerlere uygun sayıları yazalım. →



4. Aşağıda verilen ritmik saymalarda boş bırakılan yere farklı bir sayı yazılır?

- A. 5, 10, 15,, 25, 30, 35
B. 14, 16, 18,, 22, 24, 26
C. 22, 21, 20,, 18, 17, 16

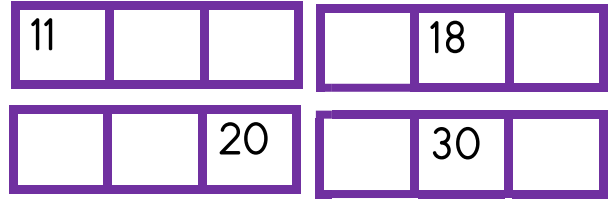
5.



Yukarıdaki gülen yüz ve yıldız eşleştğinde kaç tane gülen yüz artar?

- A. 4 B. 6 C. 8

6. Aşağıda verilen sayılardan önce ve sonra gelen sayıları yerleştiriniz.



7.

Yukarıda dizilen meyvelerden 5. sırada olan hangisidir?


- A.
B.
C.

8. Aşağıdaki toplama işlemlerini yapınız.


$$\begin{array}{r} 8 \\ + 7 \\ \hline \end{array} \quad \begin{array}{r} 9 \\ + 6 \\ \hline \end{array} \quad \begin{array}{r} 15 \\ + 8 \\ \hline \end{array}$$

9. Hangisinin toplamı 10' dur?


A.



B.



C.



10. 14 artı 9 eşittireder. boş bırakılan yere hangi sayı gelmelidir?

A. 23 B. 24 C. 20

11. 8 tane cevizim vardı. 7 ceviz de annem verdi. Kaç tane cevizim oldu?

A. 14 B. 16 C. 15

12. $6 + 7 = 13$

$7 + \text{☆} = 13$

Yukarıda eşitliğin sağlanması için ☆ yerine hangi rakam gelmeli?

A. 13 B. 6 C. 7

13. On beş eksi altı eşittir dokuz eder, ifadesi hangi seçenekte verilmiştir?

A. $15 - 6 = 9$


B. $15 - 7 = 8$

C. $14 - 8 = 6$

14. $\begin{array}{r} 12 \\ - 9 \\ \hline \end{array} \quad \begin{array}{r} 9 \\ - 5 \\ \hline \end{array} \quad \begin{array}{r} 18 \\ - 7 \\ \hline \end{array}$

Yukarıdaki işlemleri yapınız.

15.



Yukarıdaki görselin işlemi hangisidir?

A. $7 - 5 = 4$

B. $12 - 5 = 7$

C. $12 - 7 = 5$