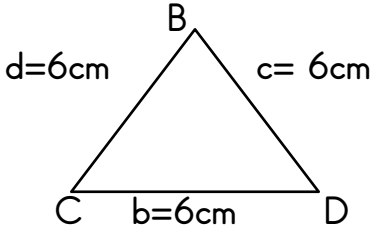


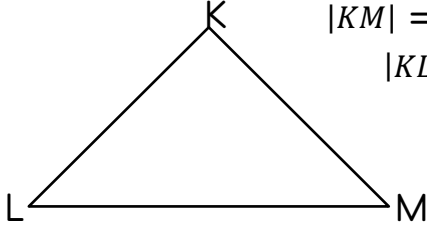
Adı soyadı:

4. Sınıf Günlük Çalışmalar

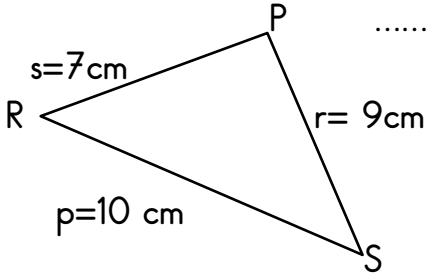
Verilen kenar uzunluklarına göre sembol kullanarak üçgen çeşitlerini yazalım.



..... üçgeni



..... üçgeni



.....üçgeni

1 Bir tren 30 dakikada 20 km yol gidiyor. Aynı hızla 2 saatte kaç km yol gider?

2 $\frac{7}{3}$ i kesrini sayı doğrusunda gösterelim.

3 14 Mayıs 2019 tarihinde üretilen bir ürünü 11 ay 3 hafta 7 gün içinde tüketilmelidir. Buna göre bu ürünün son kullanma tarihi kaçtır? (Bir ay= 4 haftadır)

4 Saat 12.40'ta başlayan bir film , saat 14.10 'da bitti. Film kaç dakika sürmüştür?

1. Aşağıdakilerin hangisinde pekiştirmeli sözlerin yazımıyla ilgili yanlışlık yapılmıştır?

- A) Kardeşim upuslu bir çocuktur.
- B) Bem beyaz ellerini bana uzattı.
- C) Yusuvarlak bir karpuzu kesip yedik.
- D) Pespembe bir toka takmıştı saçlarına.

2. Aşağıdakilerin hangisinde yazım yanlışı vardır?

- A) İpince bir yolda ilerliyorduk.
- B) Basbayağı her şeyi sen yapmışsın.
- C) Olay güpegündüz yaşanmış.
- D) Çamaşırlar kup kuru olmuş.

3 Aşağıdaki cümlelerin hangisinde "el" kelimesi bir atasözünün içinde geçmiştir?

- A) El elin eşeğini türkü söyleyerek arar.
- B) Onu görünce eli ayağı dolaştı.
- C) Elimizden bir şey gelmiyor.
- D) El ele verip bu işi başaracağız.

4. Aşağıdaki cümlelerin hangisinde bir deyim açıklamasıyla birlikte verilmiştir?

- A) Çocuğun hâlini görünce içi sızladı.
- B) Öyle sevinçliydi ki etekleri zil çalıyordu.
- C) Bu sözler kulağına küpe olsun.
- D) Anne ve babasının sözünden çıkmazdı.

5. Saçlarını kuaförde kesti.

"Kesmek" sözcüğü aşağıdakilerin hangisinde bu cümledeki anlamıyla kullanılmıştır?

- A) Bu ilaç baş ağrımı keser.
- B) Harçlığından on lira kestiler.
- C) Her hafta tırnaklarını keser.
- D) Kâğıdı kesip güzel bir şekil çıkardı.

6. Aşağıdaki cümlelerin hangisinde yazım yanlışı yoktur?

- A) O sözü benmi söylemişim?
- B) O da mı bilmiyormuş?
- C) Siz demi benimle geleceksiniz?
- D) Sular evde demi akıyor?

7. Aşağıdaki cümlelerin hangisinde "ki" kelimesinden ayrı yazılmalıdır?

- A) Evdeki hesap çarşıya uymuyor.
- B) Denizdeki kirlilik beni çok üzdü.
- C) Yarınki sınava çok iyi hazırlandım.
- D) Bana öyle baktiki gitmekten vazgeçtim.

1. I. Gereksiz yanan ışıkları söndürürüm.
II. Televizyonu izlemiyorsam kapatırım.
III. Paramı harcarken ihtiyaçlarıma öncelik veririm.
Yukarıda üç öğrencinin konuşmaları verilmiştir.
Hangi öğrenciler için kaynakları israf etmeden kullanır denilebilir?

A) I ve II B) I ve III C) II ve III D) I, II ve III

2. Yapılan araştırmalar, çocuğun çevresinde ulaşamayacağı görüntüleri getiren televizyonun;

I. Çocuğun çevresini zenginleştirdiği
II. Çocuğun hayal alanını genişlettiği
III. Çocuğun bilgisini arttırdığı
IV. Çocuğun; aile ve arkadaşlık ilişkilerini zayıflattığı tespit edilmiştir.

Bu sonuçlardan hangisinde televizyon izlemenin olumsuz sonucu vurgulanmıştır?

A) I B) II C) III D) IV

3. Aşağıdakilerden hangisi teknolojik ürünlerin bize, çevremizdekilere ve doğaya zarar vermeden kullanımı ile ilgili bir ifade değildir?

A) Cep telefonu kullanılması sakıncalı olan araçlarda cep telefonlarını kapalı tutmak
B) Elektrikli aletleri ıslak elle tutmamak
C) Ev telefonunu günde bir kereden fazla kullanmamak
D) Radyo, el feneri gibi araçları pille kullanmak

4. Her geçen gün tüketimi hızla artan piller, atık hâline gelince içerdikleri kurşun, cıva, kadmiyum ve berilyum gibi zararlı maddeler yüzünden tehlikeli özellikler taşımaktadır.

Atık pillerle ilgili olarak aşağıdaki ifadelerden hangisi doğrudur?

A) Denize, akarsulara veya göllere atılmalıdır.
B) Atık pil kutularına atılmalıdır.
C) Toprağa gömülmelidir.
D) Plastik torbalar içinde evsel çöplerle atılmalıdır.

5. Kentte akşam olmak üzereydi. (I) Kömür ocağının çalışanları evlerine dönüyorlardı. (II) Bunun tersine gece vardiyasına kalacak işçiler de fabrikaya gidiyorlardı. (III) Şehrin dışındaki tarlalardan ise toplanan sebzeler, sebze haline gönderilmek üzere kamyonlara yükleniyordu. (IV) Diğer yandan kıyıda tekneler, yüklendikleri balıklarla limana yaklaşıyordu.

Anlatımda kaç numaralı cümlede dağıtım faaliyetinden söz edilmektedir?

A) I B) II C) III D) IV

I. boşlukta yer kaplar II. kütlesi vardır.
III. Akma özelliği vardır.

1. Verilenlere göre hangileri maddelerin ortak özelliği değildir?

A) I B) III C) II D) hiçbiri

2. I. Buldukları kabın şeklini alır.
II. Belirli bir hacmi yoktur.

Aşağıdaki maddelerden hangisi numaralanmış özelliklerin ikisini de taşır ?

A.) kum B) kolonya
C) un D) su buharı

4. Bir basketbol topunun içerisinde hava yokken kütlesi 400gramdır. Basketbol topu hava ile şişirilince kütlesi 765 gram olmuştur. Buna göre topun içerisindeki havanın kütlesi kaç gramdır?

A) 1165 B) 365
C) 1000 D) 355

5. Karışımlarla ilgili olarak verilen bilgilerden hangisi yanlıştır?

A) karışımındaki maddeler özelliklerini kaybeder.
B) Deniz suyu karşımdır.
C) Karışımlar ayrıştırılabilirler.
D) Karışımlar birden fazla maddeden oluşur.

6. Su ile ilgili olarak aşağıda verilen bilgilerden hangisi yanlıştır?

A) Vücutta yapıcı, onarıcı olarak görev yapar.
B) Yaşamsal faaliyetlerimizi sürdürebilmemiz için büyük önem taşır
C) Bütün besin maddelerinde bulunur.
D) Vücut ısısının ayarlanmasında etkin rol oynar.

I. Altının yüksek sıcaklıklarda sıvı hale geçmesi
II. Yazın su yüzeyinde buhar görünmesi
III. Kışın çatılarda buz oluşması

IV. Dışarda bekleyen buz parçasının suya dönüşmesi

7. Hangileri erime örnektir?

A) II -III B) I -IV C) II-IV D) I -III -IV