



İkişerli gruplara ayıralım.



Toplam kaç kiraz var?

Kaç grup oluştu?


İkişerli gruplara ayıralım.



Toplam kaç karpuz var?

Kaç grup oluştu?


Üçerli gruplara ayıralım.



Toplam kaç çilek var?

Kaç grup oluştu?


Üçerli gruplara ayıralım.



Toplam kaç armut var?

Kaç grup oluştu?


Dörderli gruplara ayıralım.



Toplam kaç elma var?

Kaç grup oluştu?


Beşerli gruplara ayıralım.



Toplam kaç portakal var?

Kaç grup oluştu?

- Aşağıdaki varlıkları istenilen sayıda gruplayalım. Sonra grup sayılarını yandaki kutucuklara yazalım.



İkişerli grup sayısı

.....

Dörderli grup sayısı

.....



İkişerli grup sayısı

.....

Üçerli grup sayısı

.....




İkişerli grup sayısı

.....

Beşerli grup sayısı

.....



Dörderli grup sayısı

.....

Beşerli grup sayısı

.....



Üçerli grup sayısı

.....

Dörderli grup sayısı

.....