



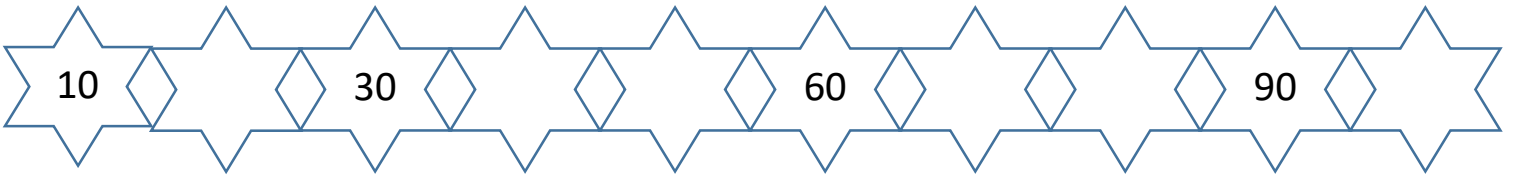
RİTMİK SAYMALAR

BİRER BEŞER VE ONAR RİTMİK SAYALIM.

1. Resimdeki nesneleri birer birer sayınız. Kaç tane nesne olduğunu söyleyiniz.



2. Aşağıdaki ileriye doğru yapılan onar ritmik sayma örüntülerinde boş bırakılan yerleri tamamlayınız.



4. 1'DEN 100'E KADAR SAYALIM.

1	2	3	4	5	6	7	8	9	10
11	12	13	14	15	16	17	18	19	20
21	22	23	24	25	26	27	28	29	30
31	32	33	34	35	36	37	38	39	40
41	42	43	44	45	46	47	48	49	50
51	52	53	54	55	56	57	58	59	60
61	62	63	64	65	66	67	68	69	70
71	72	73	74	75	76	77	78	79	80
81	82	83	84	85	86	87	88	89	90
91	92	93	94	95	96	97	98	99	100

5. Aşağıda verilen doğal sayılardan **bir önce** ve **bir sonra** gelen doğal sayıyı yazınız.

	15	
	32	
	45	
	57	
	78	

	40	
	67	
	90	
	26	
	89	

	63	
	18	
	79	
	31	
	99	

6.

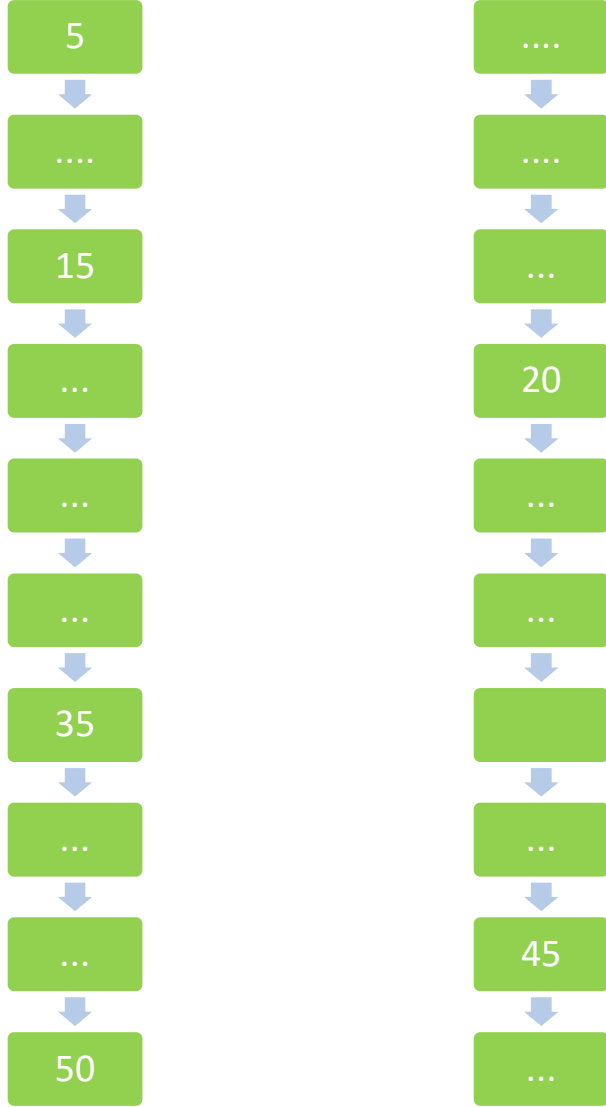
Beni 5'er 5'er tamamlar mısın?



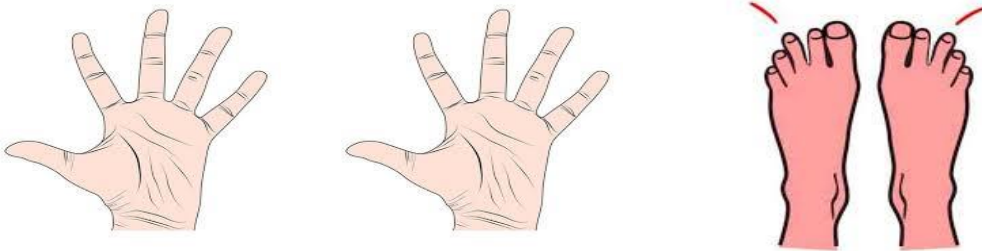
NESRİN ÖĞRT.
İyi çalışmalar



7.Aşağıdaki boş bırakılan kutuları ok yönünde takip ederek beşer beşer dolduralım.




7.Görselde verilen el ve ayak parmaklarını önce birer birer sonra beşer beşer sayalım. Kaç tane parmağımız olduğunu söyleyelim.



8.Yıldızları beşer beşer sayınız ve sayarken kutu içine alınız.



9.Aşağıda verilen misketleri sayınız.Kaç tane olduğunu yazınız.



Kaç tane?

.....

