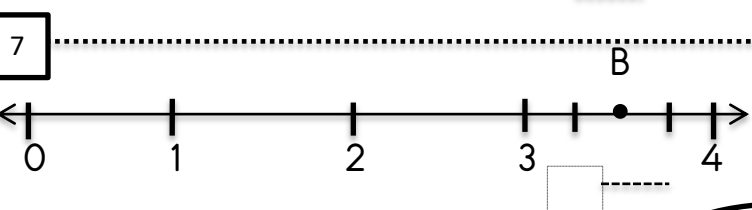
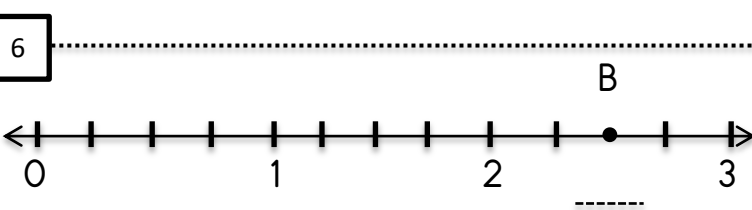
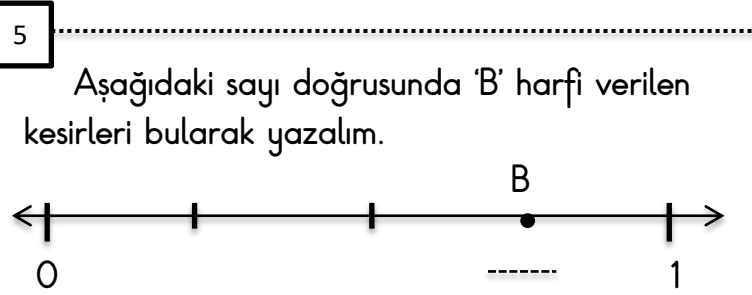
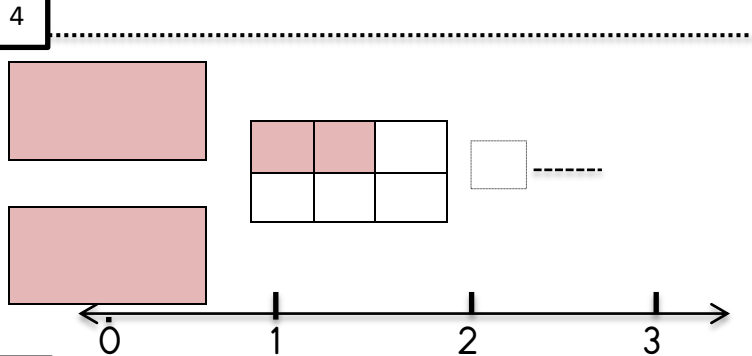
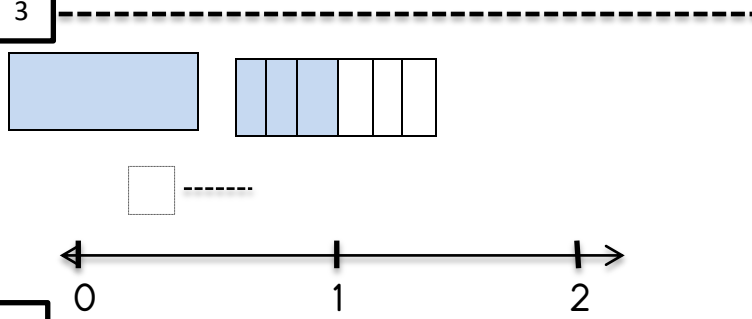
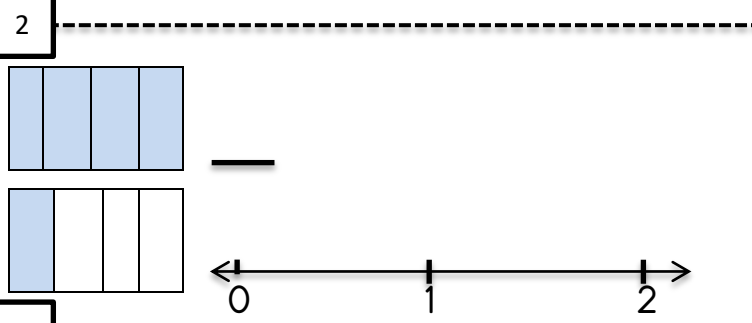
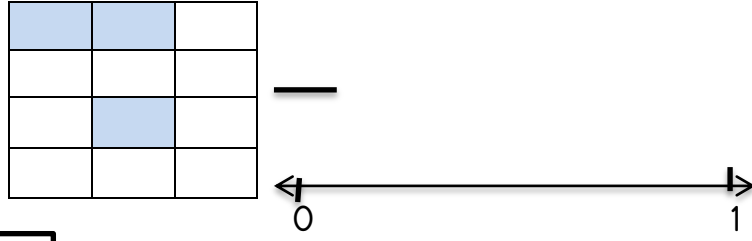


Aşağıda verilen modellere göre kesirleri yazalım ve sayı doğrusunda gösterelim.

1



1. İki noktanın doğru kullanıldığı cümlelere D yanlış kullanıldığı cümlelere Y yazalım.

- Karınca sürüsü yerde duran : ekmek kırıntılarını yuvalarına taşımakla uğraşıyordu.
- Pazarda her meyveyi bulabilirsin : elma ,muz ,ananas...
- Birlikte gidelim diye sözleştik ama : gidemedik.
- Ona soru sormaya : cesaret edemedim.
- Bunu alma nedenimiz : Sana yakışacağını düşünmemizdi.
- Çocuklara poşet abur cubur almış : Gofret , şeker ...
- Maçta : 'gol' diye bağırdı ama (?) gol yoktu.
- [http :///www.etkinlikburada.com](http://www.etkinlikburada.com) adresine baktım.
- $27 : 9 = 3$ işleminde kalan sıfırdır.
- Annem bahçede her türlü çiçek yetiştirir : gül ,kasımpatı , lale...

Aşağıdaki paragraflarda ile belirtilen yerlere uygun noktalama işaretlerini koyalım.

Köşe başındaki dükkanın kiralık ilanı

kaldırılmıştı Bir çok değişik dükkan açılmıştı

manav kırtasiye bakkal Hepsi

sonradan kapanmıştı Bu sefer ne açılacaktı

acaba Tüm sokak merakla bekliyordu

1.Eskiden günler süren yolculuklarımız , günümüzde havadan motorlu ulaşım araçları ile daha kısa sürmektedir.

Yukardaki ifadede hangi ulaşım aracından bahsedilmektedir.

A) araba B) tren C) Uçak D) Gemi

2. Aşağıdakilerden hangisi evimizdeki yaşamımızı kolaylaştıran teknolojik ürünlerden biridir?

A) helikopter B) stetoskop
C) Fotokopi makinesi D) bulaşık makinesi

3. I.atıl pil II. yiyecek artıkları
III. cam şişeler IV. Metal kutular

Yukarıda verilerden hangileri geri dönüşümle yeniden kullanılabilir hale getirilebilir?

A) I ,II ,III B) I ,II ,IV C) I ,II , IV D) II ,III , IV

4. Bir tasarım oluşturulurken bazı basamakları takip etmek gerekir.

Aşağıdakilerden hangisi bu basamaklardan biri olamaz?

A) Bir ihtiyaç veya sorun belirlemek
B) Başka tasarımları taklit etmek
C) Tasarımın kullanım amacını belirlemek
D) Tasarımın özelliklerini belirlemek

5. Aşağıdakilerden hangisi teknolojinin zararlarından korunmak için yapılması gerekenlerden biri değildir?

A) Teknolojik ürünlerin kullanım kılavuzlarını okuyup bilgi sahibi olmak ve buna uygun kullanmak

B)Plastik ,metal , cam gibi teknolojik atıkları geri dönüşüme kazandırmak

C)Arkadaşlarımızla ve ailemizle birlikte vakit geçirmek yerine bilgisayar başında oturmak,

D) Televizyon , bilgisayar , tablet gibi teknolojik ürünleri amacına uygun ve belirli sürelerde kullanmak

Aşağıda verilen maddelerin özelliklerini tabloda işaretleyelim.

maddeler	Suda yüzer	Suda batır	Suyu çeker	Suyu çekmez	Mıknatis çeker	Mıknatis çekmez
Çelik kaşık						
Plastik top						
Kuru yaprak						
Kurşun kalem						
kağıt						
Bulaşık süngeri						
Mantar tıpa						
Bakır tel						
silgi						

Doğru olanlara D yanlış olanlara Y yazınız.

Plastik bardak ve kuru yaprak suya bırakıldığında yüzer.

Her madde suyu çeker.

Mıknatis tarafından çekilme özelliği gösteren demir ,suya bırakıldığında batır.

1. Aşağıdaki cisimlerden hangisi madde değildir?

A) Gölge B) şeker
C) Kum D) hava

2. Aşağıdakilerden hangisi suyu çekmez ?

A) Bez gömlek B) yün atkı
C) kot pantolon D) deri mont