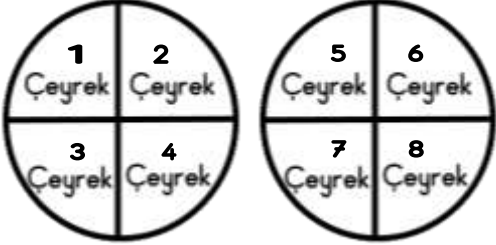


NOT: Sevgili öğrencim aşağıdaki örnekleri incele. Soruları matematik defterine yaz ve örneklerdeki gibi şekil çizerek çöz.

SORULAR

Örnek: 2 bütün kaç çeyrektir?

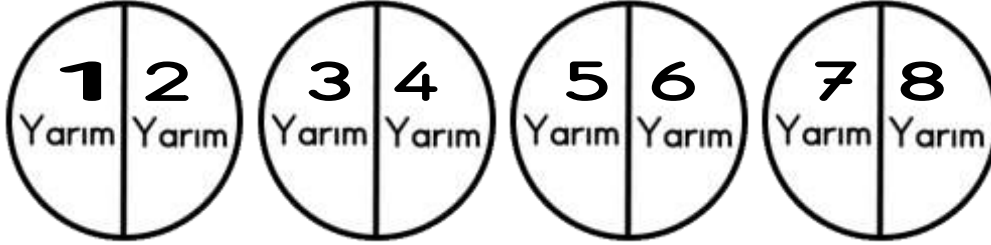


1 bütün

2 bütün

2 bütün = 8 çeyrektir.

Örnek: 8 yarım kaç bütündür?



1 bütün

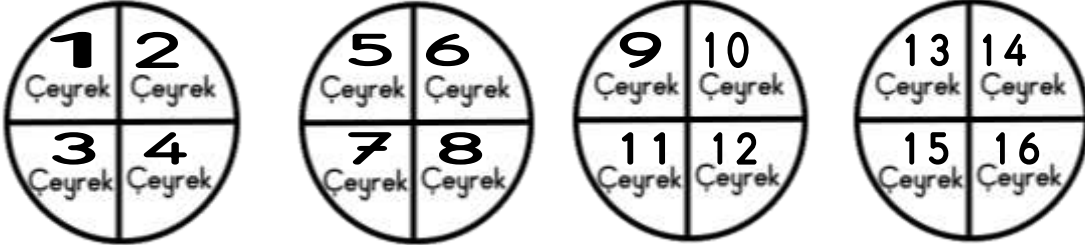
2 bütün

3 bütün

4 bütün

8 yarım = 4 bütündür.

Örnek: 16 çeyrek kaç yarımdır?



1 yarım 2 yarım

3 yarım 4 yarım

5 yarım 6 yarım

7 yarım 8 yarım

16 çeyrek = 8 yarımdır.

Alıştırmalar

- 1) 4 bütün kaç çeyrektir?
- 2) 20 çeyrek kaç bütündür?
- 3) 8 yarım kaç bütündür?
- 4) 12 çeyrek kaç yarımdır?
- 5) 7 bütün kaç yarımdır?
- 6) 10 yarım kaç çeyrektir?