

ADI SOYADI:

İşlemlerle sonuçları eşleştirelim

27

26

101

18

65

53

22

25

19

36

$56 - 29$

$37 + 28$

$26 + 57$

$74 - 35$

$29 + 56$

$81 - 63$

$54 + 26$

$58 + 19$

$62 - 48$

$73 - 37$

$90 - 65$

$80 - 61$

$60 - 34$

$50 - 28$

$70 - 46$

$64 + 37$

$65 - 28$

$82 - 64$

$91 - 38$

$28 + 37$

22

18

85

37

24

39

83

80

14

77

MINI TEST



Saat öğleden sonra kaç gösterir?

- A) 10.30 B) 23.30 C) 22.30

12.15

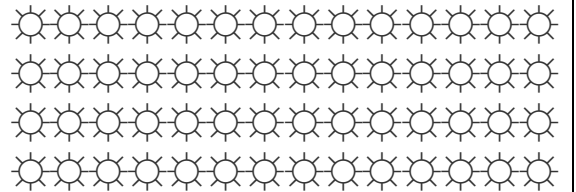
Yukarıdaki dijital saatte gösterilen zamanda analog saatte akrep hangi rakamı gösterir?

- A) dokuz
B) üç
C) altı

$3 + 3 + 3 + 3 + 3 + 3 + 3 + 3$

Toplama şeklinde verilen işlemin çarpma ile gösterimi hangi seçenektir?

- A) 6×3 B) 7×3 C) 8×3



Yukarıdaki nesne sayısının onluk ve birliği kaç tanedir?

- A) 4 onluk + 7 birlik
B) 5 onluk + 6 birlik
C) 6 onluk + 8 birlik

47 sayısının en yakın onluğunun, 13 eksiği kaçtır?

- A) 37 B) 38 C) 39

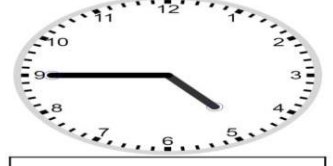
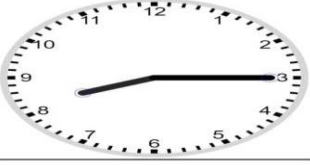
AYLAR

ocak

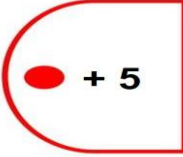
GÜNLER


pazartesi

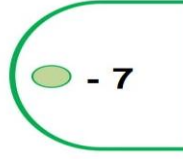
Saatlerin kaçı gösterdiklerini yazalım



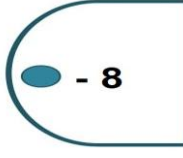
Verilen sayı kadar arttıralım veya azaltalım

 + 5



 - 7



 - 8



İşlem sonuçlarını verilen renklere göre boyayalım

44 ÷ 4 = 36 ÷ 4 = 44 ÷ 4 = 36 ÷ 4 =

48 ÷ 4 = 24 ÷ 4 = 8 ÷ 4 = 48 ÷ 4 =

40 ÷ 4 = 12 ÷ 4 = 32 ÷ 4 = 40 ÷ 4 =

24 ÷ 4 = 20 ÷ 4 = 4 ÷ 4 =

28 ÷ 4 = 8 ÷ 4 = 12 ÷ 4 =

32 ÷ 4 = 48 ÷ 4 = 36 ÷ 4 = 16 ÷ 4 = 44 ÷ 4 =

28 ÷ 4 = 36 ÷ 4 = 40 ÷ 4 = 28 ÷ 4 =

24 ÷ 4 = 36 ÷ 4 = 32 ÷ 4 =

1 ile 6 arası yeşil



7 ile 12 arası kahverengi

