

ESRA'NIN DIŞLERİ

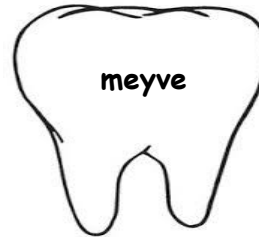

Esra okuldan koşarak eve geldi. Annesi onu beklemiyordu şaşırıldı.
-Ne oldu kızım? Diye heyecanla sordu. Esra ağlayarak cevap verdi.
-Anneciğim dişlerim kanıyor. Arkadaşlarım bana güldü, dedi.

Annesi Esra'yı diş doktoruna götürdü. Doktor Esra'nın dişlerini kontrol etti. Annesine " Kızınızın dişleri çürümüş ve diş etleri gelişmemiş." dedi. Doktor bir reçete yazdı. Reçete de "Her çeşit meyve ve sebze yiyecek, dişlerini günde üç defa fırçalayacak, dişleri ile sert kabuklu yiyeceklerin kabuklarını kırmayacak." diye yazıyordu.

Esra doktorun reçeteye yazdıklarını yaptı ve kısa zamanda iyileşti. Artık Esra'nın çok sağlıklı dişleri var.

**Aşağıdaki soruları Türkçe defterine yazıp cevapla..
Defterin fotoğrafını öğretmenine atmayı unutma :)**

- 1- Esra eve gelmeden önce neredeymiş?
- 2- Esra'yı doktora götüren kimdir?
- 3- Esra'nın dişleri neden çürümüş?
- 4- Metinde altı çizili olan kelimelerin eş anlamını bulup cümle içerisinde kullanır mısın?



Yukarıda Esra'nın dişlerinin üzerinde yediği bazı besinlerin adları yazıyor.

Sağlıklı beslenen dişler bembeyaz kalsın.
Sağlıksız beslenen dişleri sarıya boya..



ahmetinceogretmen

MİLLİ GÜN VE BAYRAMLARIMIZ

1 - Aşağıdakilerden hangisi millî bayramlarda okulda yaptığımız hazırlıklardandır?

- A) En yeni giysilerimizi giymek
- B) Sınıfımızı süslemek
- C) Evlere bayraklar asmak



- Törenler düzenlenir.
- Şiirler okunur.
- Okullar bayraklarla süslenir.




2- Mehmet'in söyledikleri aşağıdaki bayramların hangisinde yapılır?

- A) Kurban Bayramı
- B) Ulusal Egemenlik ve Çocuk Bayramı
- C) Ramazan Bayramı

3- Aşağıdaki seçeneklerde verilen millî bayramlar - kutlanan tarih eşleştirmelerinden hangisi **yanlıştır**?

- A) Cumhuriyet Bayramı - 29 Ekim
- B) Zafer Bayramı - 19 Mayıs
- C) Ulusal Egemenlik ve Çocuk Bayramı - 23 Nisan

4- Aşağıdaki öğrencilerden hangisinin söylediğini dini bayramlarda yaparız?

- A)  Saygı duruşunda bulunuruz.
- B)  Bando çalışmalarına katılırız.
- C)  Büyüklerimizin ellerini öperiz.

5 - Aşağıdaki tabloda verilen bilgiler doğruysa "D" yanlışsa "Y" yazınız.

	29 Ekim'de Cumhuriyet ilan edildi.
	Cumhuriyetin ilanıyla padişahlık yönetimine geçilmiştir.
	19 Mayıs çocuklara armağan edilmiştir.
	Atatürk 19 Mayıs'da Ankara'ya çıkarak Kurtuluş Savaşı'nı başlatmıştır.
	23 Nisan'da Ulusal Egemenlik ve Çocuk Bayramı'nı kutlarız.
	15 Temmuz'u Demokrasi ve Milli Birlik Günü olarak kutlarız.
	30 Ağustos, Cumhuriyet Bayramı olarak kutlanır.




6- Yukarıdaki televizyonda boş bırakılan yere aşağıdakilerden hangisi gelebilir?

- A) ikramlarda
- B) saygısızlıklarda
- C) karşılmalarda

7- Yandaki görsel hangi bayramla ilgili olabilir?

- A) Ramazan Bayramı
- B) Kurban Bayramı
- C) Zafer Bayramı

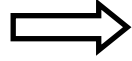


KESİRLER

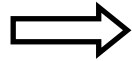
Matematik defterimize aşağıdaki açıklamaları yazalım.



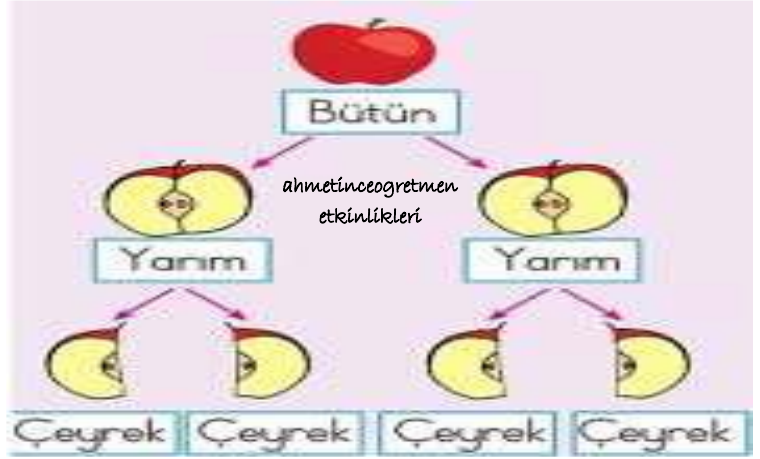
Bir varlığın bölünmemiş tam haline **bütün** denir.



Bir bütünü iki eşit parçaya böldüğümüzde elde edilen her bir parçaya **yarım** denir.



Bir bütünü dört eşit parçaya böldüğümüzde elde edilen her bir parçaya **çeyrek** denir.



3 bütün yarım eder.

1 bütün 2 yarımından oluştuğuna göre

3 bütün $\rightarrow 2 + 2 + 2 = 6$ yarım yapar.

2 bütün çeyrek eder.

1 bütün 4 çeyrekteen oluştuğuna göre

2 bütün $\rightarrow 4 + 4 = 8$ çeyrek yapar.

ALİŞTIRMALAR

1 bütün çeyrek eder.	8 çeyrek bütün eder.
1 bütün yarım eder.	4 çeyrek yarım eder.
4 bütün çeyrek eder.	5 bütün çeyrek eder.
1 yarım çeyrek eder.	8 çeyrek yarım eder.
6 yarım bütün eder.	7 bütün yarım eder.

