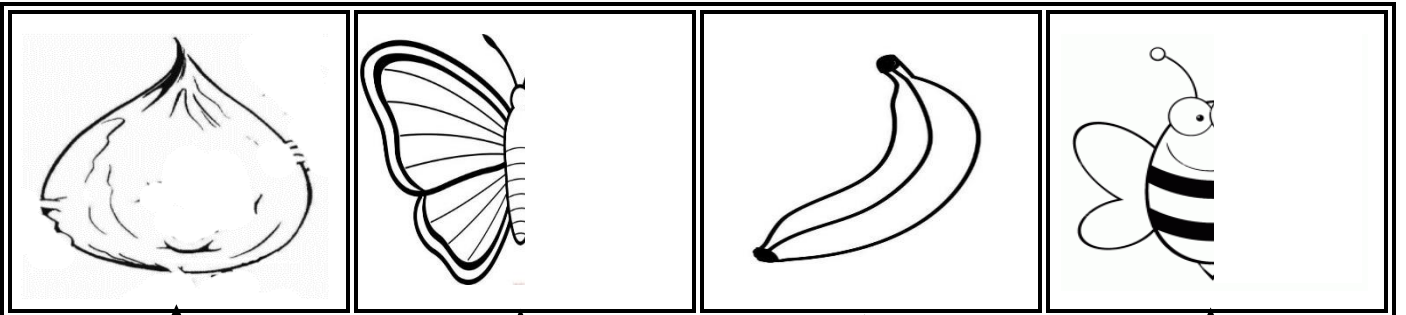


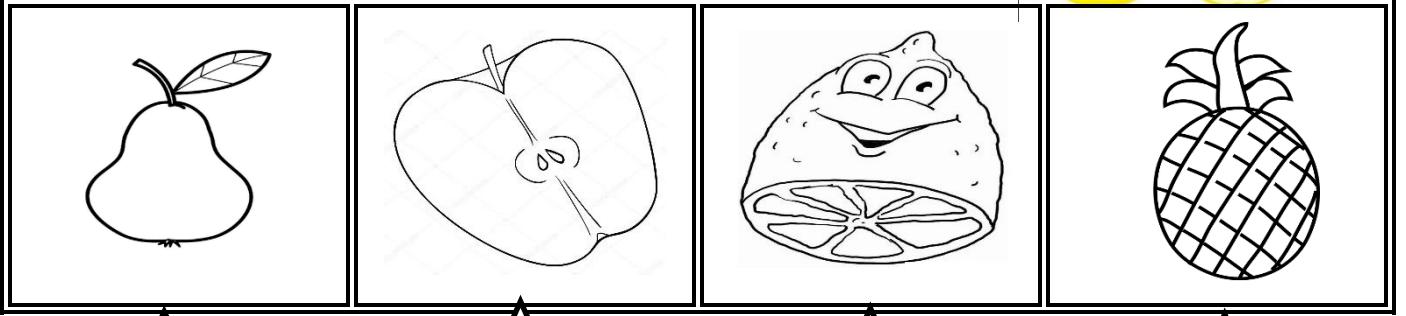


Bütün olan varlıkların altlarındaki yıldızı sarıya , yarım olan varlıkların altlarındaki yıldızı kırmızıya boyayalım.

Bütün

Yarım

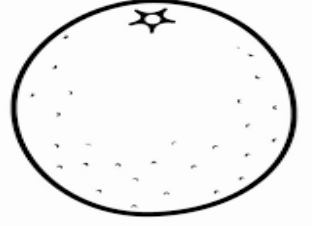
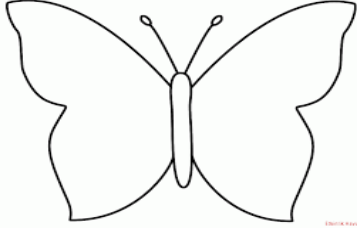


Bütün



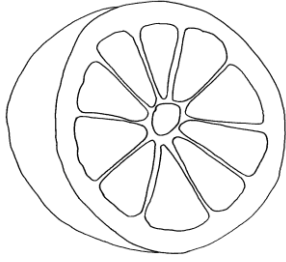
Yarım



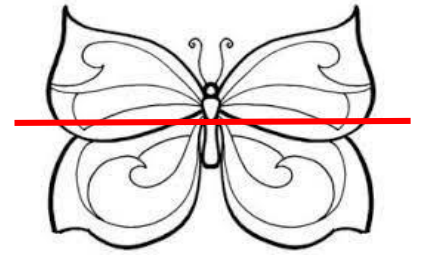
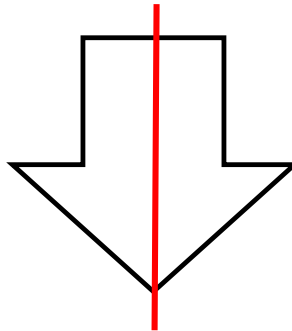
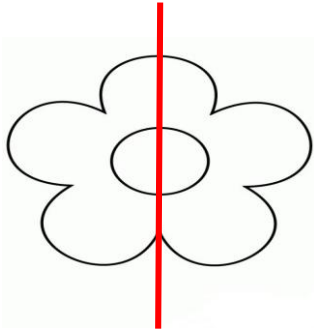
Aşağıdaki şekillerin yarısını boyayınız.




Aşağıdaki nesnelere bütün olanı boyayınız.



Yarısından bölünen şekillerden hangisi yanlış bölünmüştür. Yanlış bölünen şeklin altındaki gülen bebeği boyayalım.



Aşağıdaki harflerin yarısını boyayınız.



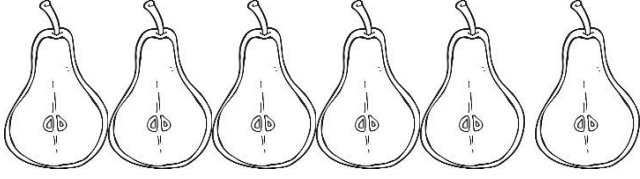
Yarımları verilen şekilleri bütün yapalım.

Bütün

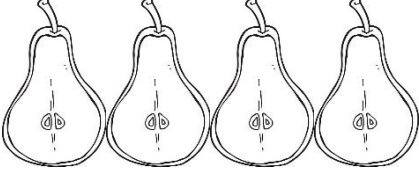
Yarım



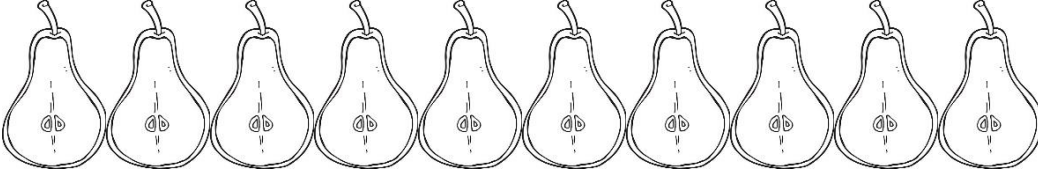
6 yarım armutta kaç bütün vardır?



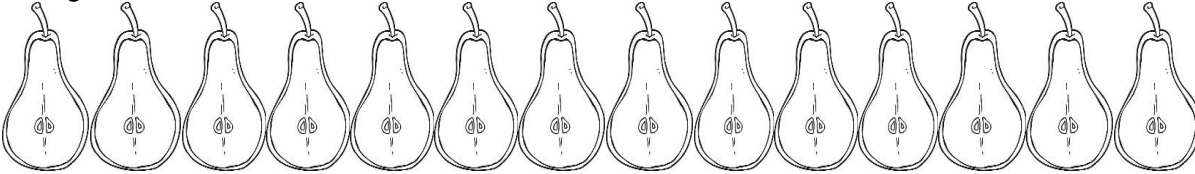
4 yarım armutta kaç bütün vardır?



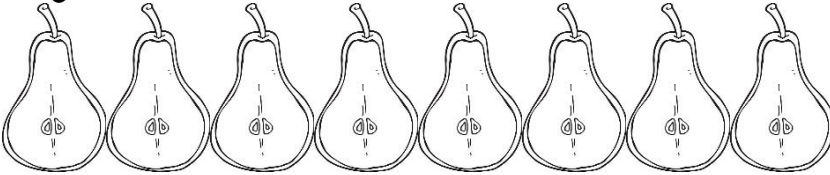
10 yarım armutta kaç bütün vardır?



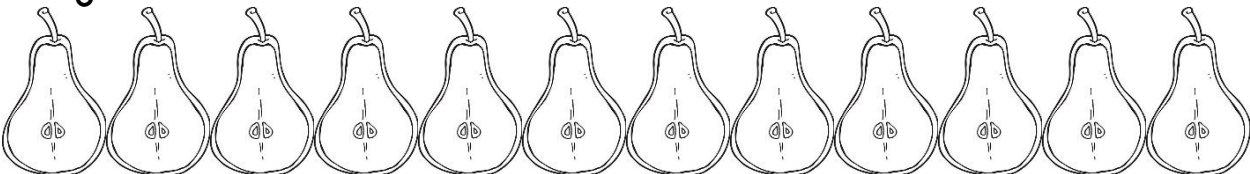
14 yarım armutta kaç bütün vardır?



8 yarım armutta kaç bütün vardır?





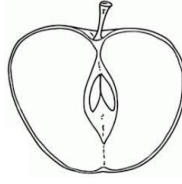

12 yarım armutta kaç bütün vardır?



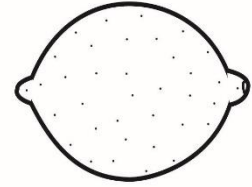
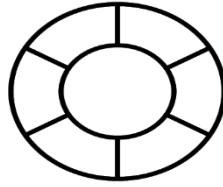
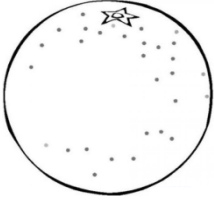


KESİRLERDE BÜTÜN YARIM KAVRAMI

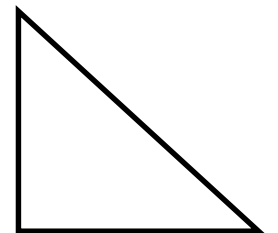

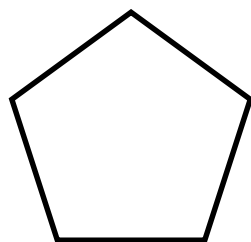

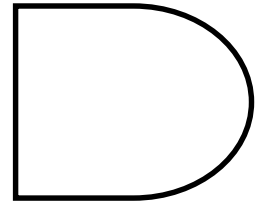


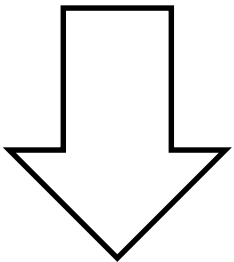
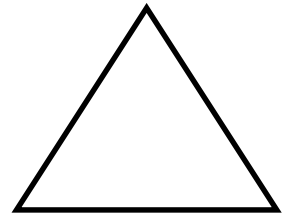
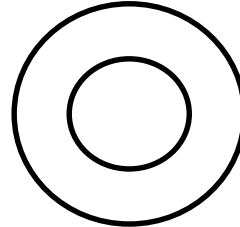

Bütün olan şekillerin altına B harfi , yarım olan şekillerin altına Y harfini yazalım.



Aşağıdaki meyveleri ikiye bölüp yarılarını boyayınız.



Aşağıdaki şekilleri ortadan ikiye bölünüz. Bir yarısını sarıya boyayınız.



KESİRLER YARIM BÜTÜN



Aşağıdaki varlıkları sayalım. Baştan bir sarı sondan bir mavi boyayarak şekilleri örnekte olduğu gibi hepsini boyayıp yarımalarını bulalım.



Sayının tamamı :14..... Sayının yarısı :7.....



Sayının tamamı : Sayının yarısı :



Sayının tamamı : Sayının yarısı :



Sayının tamamı : Sayının yarısı :



Sayının tamamı : Sayının yarısı :



Sayının tamamı : Sayının yarısı :



Sayının tamamı : Sayının yarısı :

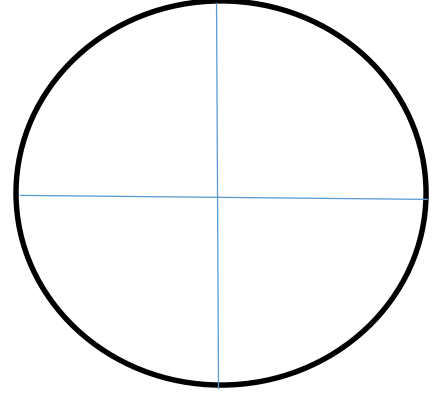
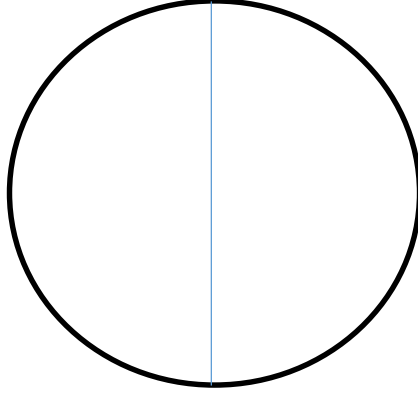



Aşağıdaki şekillerden bütün olan dairenin içine 3 tane şehir ismi yaz.


Yarım olan dairenin tek parçasına 3 tane meyve ismi yaz.

4 parçaya bölünmüş dairenin bir parçasına 3 tane eşya ismi yaz.

Yazma işi bitti mi? Şimdi yazdığın bölümleri sarı renge boy.



Aşağıda yarısı verilen şekillerin diğer yarılarını da siz çizin.
İpuçları noktalarda.



Bütünleri yarıma ayırdığımızda oluşacak yarımaları ile eşleştirin.

