












## DOĞAL SAYILARI KARŞILAŞTIRALIM

\* Aşağıdaki noktalı yerlere "büyüktür", "küçüktür" kelimelerinden uygun olanını yazınız.

325 , 299'dan	büyüktür		651 , 653'ten	.....
248 , 251'den	.....		802 , 785'ten	.....
926 , 930'dan	.....		763 , 783'ten	.....
180 , 176'dan	.....		513 , 508'den	.....
452 , 395'ten	.....		251 , 264'ten	.....
348 , 350'den	.....		520 , 518'den	.....
834 , 844'ten	.....		948 , 946'dan	.....

\* Aşağıdaki sayıların aralarına "> , < , =" sembollerinden uygun olanları koyalım.

87 > 79		521 < 534		254 = 254
92 ... 104		125 ... 125		408 ... 405
256 ... 267		874 ... 900		299 ... 300
74 ... 74		481 ... 469		570 ... 572
815 ... 809		356 ... 352		628 ... 624
107 ... 86		214 ... 217		773 ... 771
92 ... 104		941 ... 941		815 ... 815
412 ... 384		704 ... 706		351 ... 360
725 ... 671		680 ... 599		182 ... 184