

ÜNİTE TAKİPLİ GENEL TEKRAR

1. Aşağıdaki cümlelerin hangisinde büyük harflerin kullanımında yanlışlık yapılmıştır?
- A) Kütüphaneden aldığım kitabı daha bitiremedim.
 B) Daha önce hiç beyşehir gölünü görmemiştim.
 C) Cumhuriyet İlkokulu'nu bitirdim.
 D) Dayım Osman ile birlikte geleceğiz.
2. Ablam köpeğimizin adını "lokum" koymak istiyor.
- Yukarıdaki cümlede hangi sözcükte yazım yanlışı yapılmıştır?
- A) Ablam B) Köpeğimiz
 C) adını D) lokum
3. Aşağıdakilerden hangisi büyük harflerin kullanımı ile ilgili doğru bir bilgi değildir?
- A) Mahalle, cadde gibi isimler büyük harfle başlar.
 B) Gazete, dergi gibi isimler büyük harfle başlar.
 C) Cümlenin bütün sözcükleri büyük harfle başlar.
 D) "Dünya, güneş ve ay" gibi sözcükler terim anlamında kullanılınca büyük harfle başlar.
4. Aşağıdaki kısaltmalardan hangisi yanlıştır?
- A) Santimetre=cm B) Desimetre=dm
 C) Metre=mt D) Kilometre=km
5. Aşağıdaki cümlelerin hangisinin sonuna farklı bir noktalama işareti konur?
- A) Babam telefonunu açmadı
 B) Bunu nereden aldın
 C) Seni görmedi mi
 D) Bahçeyi ne zaman düzenleyeceğiz

6. Yağmur sana mı söyledi

Yukarıdaki cümlelerin sonuna hangi noktalama işareti konmalıdır?

- A) virgül B) nokta
C) soru işareti D) ünlem

7. Sevinç, şaşma, acı, korku gibi duyguları anlatan cümlelerin sonuna konan noktalama işareti aşağıdakilerden hangisidir?

- A)  B) 
C)  D) 

8. Aşağıdaki cümlelerin hangisinde kesme işaretinin kullanımı ile ilgili bir hata yapılmıştır?

- A) Teyzem'i ziyaret edeceğim.
B) THY'nın pilotları çok başarılıdır.
C) Ayça'nın öğlen yemeği oldukça lezzetli görünüyordu.
D) Cumhuriyet 29 Ekim 1920'de kuruldu.

9. Karşılıklı konuşmalarda konuşmanın başına konan noktalama işareti dir.

Yukarıdaki ifadenin noktalı yerine hangisi yazılmalıdır?

- A) kısa çizgi B) uzun çizgi
C) tırnak işareti D) kesme işareti

10. Aşağıdaki cümlelerden hangisinde "de" bağlacı vardır?

- A) Sinemada film seyretmeyi seviyorum.
B) Onur pencerede kuşu gördü.
C) Evde olmak çok güzeldi.
D) İkisi de bize doğru koştu.

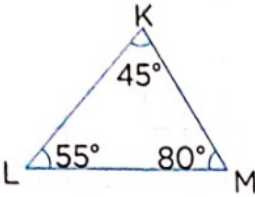
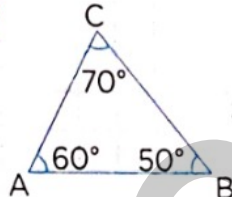
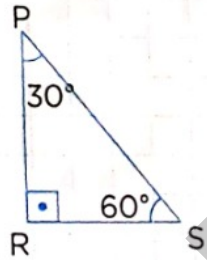
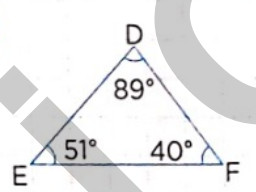
11. Aşağıdaki cümlelerden hangisinde "-ki" eki vardır?

- A) O kadar çok güldü ki gözleri yaşardı.
B) Evdeki huzur hiçbir yerde yok.
C) Duydum ki ders çalışmıyormuşsun!
D) Henüz aramadı ki!

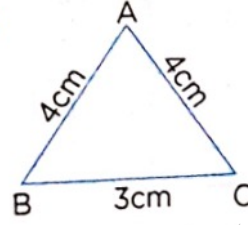
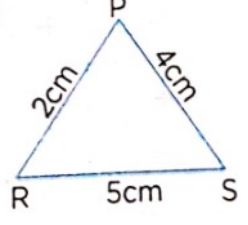
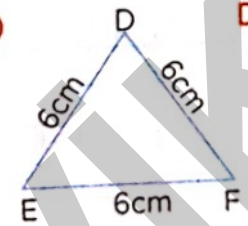
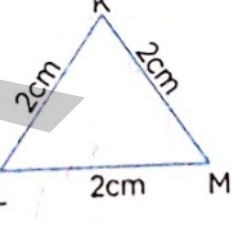
12. Aşağıdaki cümlelerden hangisinde "mi" soru eki doğru yazılmıştır?

- A) Terlikmi giyeyim?
 B) Tahtadakileri yazdınmi?
 C) Sana mı anlattı?
 D) Gömleğini mi giydi?

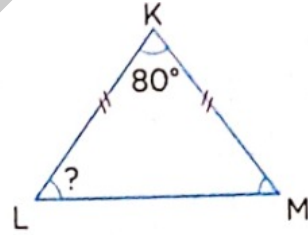
13. Aşağıdaki üçgenlerden hangisi açılarına göre diğerlerinden farklıdır?

- A)  B) 
 C)  D) 

14. Aşağıdakilerden hangisi çeşitkenar üçgendir?

- A)  B) 
 C)  D) 

15.



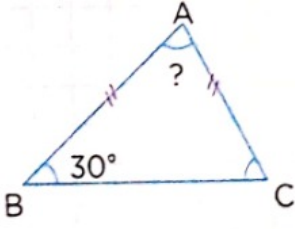
Yukarıdaki üçgende;

$|KL|$ ve $|KM|$ birbirine eşittir.

Buna göre "?" ile gösterilen yere hangi seçenek yazılmalıdır?

- A) 50° B) 45°
 C) 40° D) 35°


16.



Yukarıdaki üçgende "?" ile gösterilen yere hangi seçenek yazılmalıdır?

- A) 100° B) 110°
C) 120° D) 130°


17.



Yukarıdaki kareyi aşağıdakilerden hangisi ile isimlendiremeyiz?

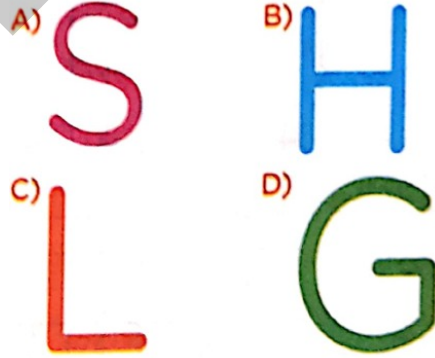
- A) ABCD B) DCBA
C) BCDA D) DBAC

18. Aşağıdaki geometrik şekillerden hangisi en fazla simetri doğrusuna sahiptir?

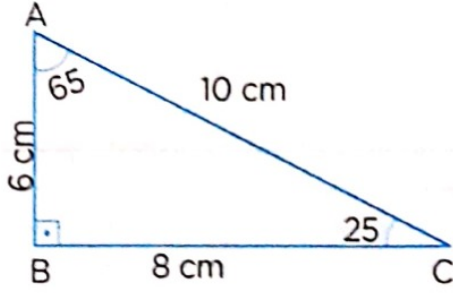


19.

Aşağıdaki harflerden hangisinin simetri doğrusu vardır?



20.



ABC üçgeni için;

■ Dik açılı üçgendir.

▲: Çeşit kenar üçgendir.

●: 90° 'lik açısının karşısındaki kenar 8 cm'dir.

Hangi sembol ya da sembollerle belirtilenler doğrudur?

- A) ■ ve ▲ B) ▲ ve ●
C) Yalnız ● D) ■, ▲ ve ●

21.

2 litrenin içinde kaç tane yarım litre vardır?

- A) 4 B) 6 C) 8 D) 2

22. $2500 \text{ mL} + 3500 \text{ mL} \dots\dots\dots \text{L}$

işlemindeki noktalı yere aşağıdakilerden hangisi yazılmalıdır?

- A) 5 B) 6 C) 7 D) 8

23.

72 sayısının $\frac{2}{6}$ 'sı kaç eder?

- A) 20 B) 22 C) 24 D) 26

24.

Bir otobüste 45 yolcu vardır. Yolcuların $\frac{2}{3}$ 'ü bayan, geriye kalanı ise erkektir.

Otobüste kaç tane erkek yolcu vardır?

- A) 5 B) 10 C) 15 D) 20

25.


Aşağıdakilerden hangisi artık yıldır?

- A) 1987 B) 1988
C) 2001 D) 2013

26. Her gün 2 saat 10 dakika ders çalışan Aylin, bir haftada kaç dakika ders çalışır?
- A) 910 B) 900
C) 890 D) 920

27. A doğal sayıdır.
 $\frac{16}{A}$ basit kesirdir.
Buna göre bu kesrin payı ve paydasının toplamı aşağıdakilerden hangisi olabilir?
- A) 30 B) 31 C) 32 D) 33

28.



Yukarıdaki gibi kareli kağıt üzerindeki renkli bölgelerin alanı kaç birim karedir?

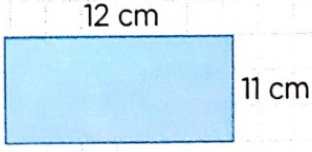
- A) 3 B) 4 C) 5 D) 6

29.

Aşağıdaki kesirlerden hangisi bileşik kesir **değildir**?

- A) $\frac{9}{8}$ B) $\frac{7}{7}$ C) $\frac{6}{4}$ D) $\frac{3}{4}$

30.



Yukarıdaki dikdörtgenin alanı kaç cm^2 'dir?

- A) 128 B) 130
C) 132 D) 134

31.

Aşağıdakilerden hangisi basit bir elektrik devresi elemanı **değildir**?

- A) Ampul B) Pil
C) Anahtar D) İp

32.

..... üzerinden geçen elektrik enerjisini ısı ve ışık enerjisine çevirir.

Yukarıdaki cümlede noktalı yere aşağıdakilerden hangisi yazılmalıdır?

- A) Duy B) Ampul
C) Pil D) Anahtar

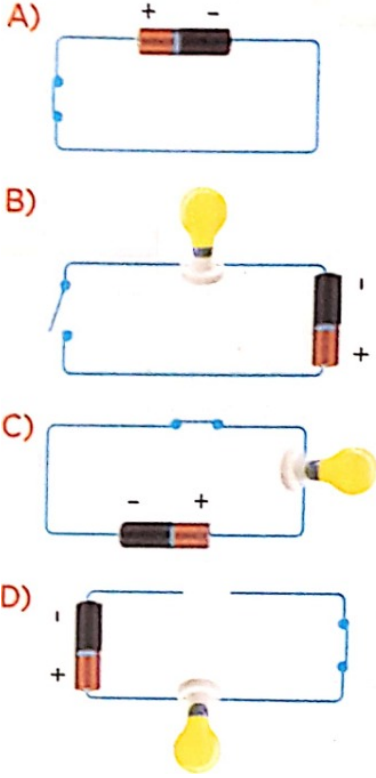
33. Aşağıdakilerden hangisi **yanlıştır**?

- A) Bir elektrik devresinde anahtar, devrenin elektriğini kontrol etmeyi sağlar.
B) Anahtar açıkken ampul ışık verir.
C) Pil yatağı, pillerin devreye bağlanmasını sağlar.
D) Devrede elektriğin akışını bağlantı kablosu sağlar.

34. Aşağıdaki durumlardan hangisinde ampul ışık **vermez**?

- A) Pil yanlış bağlanmış
B) Anahtar kapalı
C) Pil tamamen dolu
D) Kablo kopuk değil

35. Aşağıdaki basit elektrik devrelerinden hangisinin ampulü ışık verir?



36. Aşağıdaki eşleştirmelerden hangisi yanlıştır?


- A) Devreyi açar/kapar → Anahtar
 B) Pilleri devreye bağlar → Duy
 C) Elektrik akışı sağlar → Kablo
 D) Elektrik enerjisi sağlar → Pil

37.

Aşağıdaki ifadelerden hangisi doğrudur?

- A) Ampulün takıldığı devre elemanına duy denir.
 B) Anahtar devrede enerji kaynağı olarak kullanılır.
 C) Anahtar açık olursa ampul ışık verir.
 D) Bir devre anahtar olmadan çalışmaz.


38.



Yukarıda numaralandırılmış devre elemanlarından hangilerinin basit elektrik devrelerinde bulunmaması devre için sorun yaratır?

- A) 1 ve 4
 B) 2 ve 3
 C) 2, 3 ve 4
 D) 1, 2 ve 3

39.)



Yukarıdaki basit elektrik devresinde ampuller ışık vermemektedir.

Bu devrede aşağıdakilerden hangisi yapılırsa ampuller ışık verir?


- A) Devreden bir pil çıkarılmalıdır.
- B) Devredeki anahtar kapatılmalıdır.
- C) Ampullerden biri devreden çıkarılmalıdır.
- D) Pil sayısı üçe çıkarılmalıdır.

40.

Aşağıdakilerden hangisi elektrik devresinin çalışmasına engel olan nedenlerden biri **değildir**?

- A) Ampul telinin kopuk olması
- B) İletken kablonun hasarlı olması
- C) Ampulün duya doğru yerleştirilmesi
- D) Pilin enerjisinin tükenmiş olması

41.)



Yukarıdaki basit elektrik devresinde bulunan elemanlar ve sayıları aşağıdakilerden hangisinde doğru verilmiştir?

- A) 1 anahtar, 1 ampul, 1 pil
- B) 2 anahtar, 1 ampul, 2 pil
- C) 1 anahtar, 2 ampul, 1 pil
- D) 1 anahtar, 1 ampul, 2 pil

42.)

- ✓ Elektrik enerjisini kullanarak ortama ışık verir.
- ✓ Devreye elektrik enerjisi sağlar.
- ✓ Devreden elektriğin geçip geçmemesini sağlar.

Yukarıdaki ifadelere göre görevi verilmeyen devre elemanı aşağıdakilerden hangisidir?

- A) Bağlantı kablosu
- B) Pil
- C) Ampul
- D) Anahtar

43. Devlet tarafından açılan kurumlara kurumlar denir.

Yukarıdaki ifadede noktalı yere hangisi yazılmalıdır?

- A) sosyal B) resmi
C) sivil D) toplum

44. Aşağıda verilen bilgilerden hangisi yanlıştır?

- A) Hastaneler sağlık hizmeti veren kurumlardır.
B) Okullar, eğitim hizmeti veren kurumlardır.
C) Karakollar, güvenlik hizmeti veren kurumlardır.
D) Aile, barınma hizmeti veren kurumdur.

45. Gönüllülük esastır.

Ücret alınmaz.

Belli bir yaş ve meslek kısıtlaması yoktur.

Yukarıdaki ifadeler hangi kalıcı gruba aittir?

- A) Hastane B) Okul
C) TEMA D) Belediye

46. Aşağıdaki sivil toplum örgütlerinden hangisi çevre için çalışır?

- A) TEV B) Yeşilay
C) LÖSEV D) ÇEKÜL

47. Aşağıda verilen bilgilerden hangisi doğrudur?

- A) Yeşilay, devlet tarafından kurulmuştur.
B) Okullarda çalışanlar gönüllülük esaslı çalışır.
C) TEMA Vakfı, eğitim alanı için çalışır.
D) Türk Kalp Vakfı, resmi kurumdur.

48. Aşağıdakilerden hangisi sosyal faaliyetlerin bize kazandırdıklarından biri **değildir**?

- A) sorumluluk
- B) üreticilik
- C) bencillik
- D) dayanışma

49. **AKUT** hangi alanda faaliyet gösterir?

- A) arama-kurtarma
- B) sağlık
- C) çevre sorunu
- D) eğitim

50. Aşağıdakilerden hangisi resmi kurum **değildir**?

- A) Milli Eğitim Bakanlığı
- B) Maliye Bakanlığı
- C) Türk Kalp Vakfı
- D) Adalet Bakanlığı

51.

Aşağıdaki sivil toplum örgütlerinden hangisinin faaliyet alanı farklıdır?

- A) LÖSEV
- B) Türk Böbrek Vakfı
- C) Türk Kalp Vakfı
- D) ÇEVKOR

52. Sokakta kurduğumuz oyun grubu bir gruptur.

Yukarıdaki ifadede noktalı yere hangisi yazılmalıdır?

- A) kalıcı
- B) geçici
- C) gidici
- D) sürekli

53. Aşağıdakilerden hangisi sosyal faaliyetlerden biri **değildir**?

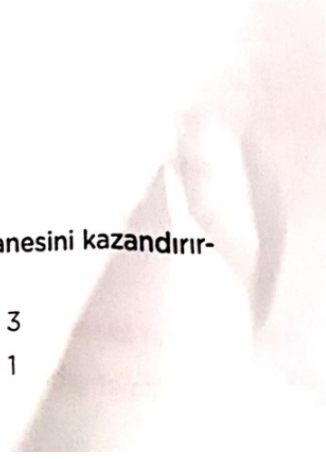
- A) Okuldaki kulüp çalışmaları
- B) Belediyenin açtığı dikiş nakış kursu
- C) Valiliğin açtığı resim kursu
- D) Evde televizyon izleme

54. Sosyal faaliyetler;

- ✓ güven
- ✓ sorumluluk
- ✓ plânlı olma
- ✓ hoşgörü

duygularından kaç tanesini kazandırır-
lar?

- A) 4 B) 3
C) 2 D) 1



ALİ ÇEVİK