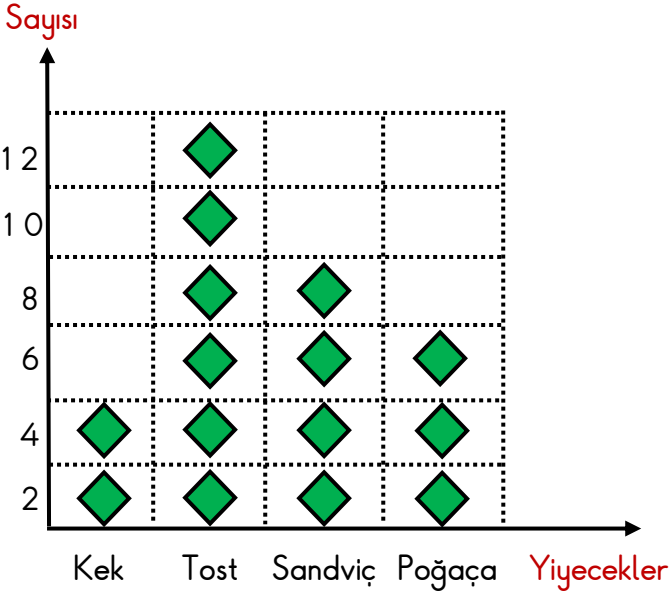



## VERİ TOPLAMA VE DEĞERLENDİRME

1. Etkinlik: Aşağıdaki grafikteki bilgilere bakarak çetele ve sıklık tablosu oluşturalım.

### GRAFİK

Grafik: Öğrencilerin Getirdikleri Yiyecekler



Grafikte her  2 öğrenciyi göstermektedir.

### ÇETELE TABLOSU

Tablo: .....

Yiyecekler	Sayı
Kek	4
Tost	12
Sandviç	8
Poğaç	6

### SIKLIK TABLOSU


Tablo: .....


Yiyecekler	Sayı
Kek	4
Tost	12
Sandviç	8
Poğaç	6

2. Aşağıdaki grafikteki bilgilere bakarak çetele ve sıklık tablosu oluşturalım.

### GRAFİK

Grafik: Yüzme Kursuna Giden Çocukların Yaşları



Grafikte her  3 çocuğu göstermektedir.

### ÇETELE TABLOSU

Tablo: .....

Yaşlar	Sayı
Yedi	9
Sekiz	15
Dokuz	9
On	18

### SIKLIK TABLOSU

Tablo: .....

Yaşlar	Sayı
Yedi	9
Sekiz	15
Dokuz	9
On	18