

TÜRKÇE

Eskiden çeşit çeşit balıkların yaşadığı, koskocaman bir deniz varmış. Bu denizde birçok balıkla birlikte alımlı, öylesine güzel, herkesin ona hayran olduğu küçük kırmızı bir balık yaşarmış. Bu balık, çok alımlı olduğundan kimseyi beğenmezmiş. Herkese tepeden bakarmış. Bir gün böyle yalnız yüzerken ona koskocaman bir balık saldırmış. Kırmızı balığı, o beğenmediği arkadaşları kocaman balığın elinden kurtarmışlar. Küçük Kırmızı Balık, ölümden kurtulduğuna çok sevinmiş.

NOT: 1. 2. ve 3. soruyu yukarıdaki metne göre cevaplayınız.

1. Küçük Kırmızı Balık, kendini diğer balıklardan neden üstün görmektedir?

- A) Daha güzel ve alımlı olduğu için.
- B) Diğer balıklardan daha büyük olduğu.
- C) Diğer balıklardan daha akıllı olduğu için.
- D) Denizde yaşamaktan hoşlandığı için.

2. Hangisi Küçük Kırmızı Balık'ın özelliklerinden değildir?

- A) Kendini beğenmiş olması.
- B) Alımlı ve güzel olması.
- C) Herkesin ona hayran olması.
- D) Diğer balıklardan büyük olması.

3. Küçük Kırmızı Balık uğradığı saldırıdan nasıl kurtulmuştur?

- A) Zekâsını kullanarak oradan kaçmıştır.
- B) Büyük balığa yalvarmıştır.
- C) Beğenmediği arkadaşları kurtarmıştır.
- D) Büyük balığı ısırıştır.

4. Aşağıdaki kelimelerden hangisinde hecelerine ayırırken hata yapılmıştır?

Kolonya, kereviz, hanımeli, ilköğretim

- A) ko-lon-ya
- B) ke-re-viz
- C) ha-nım-e-li
- D) il-köğ-re-tim

5. Aşağıda bazı kısaltmalar verilmiştir. Verilen kısaltmalardan hangisinin yazılışı doğrudur?

- A) c.m
- B) T.B.M.M
- C) Dr.
- D) TC

6. Aşağıdaki cümlelerin hangisinde sebep-sonuç ilişkisi yoktur?

- A) Sınavı kazanmak için çok çalıştı.
- B) Ödevlerini yapmadığı için babası ona kızdı.
- C) Öfkeyle kalkan, zararlar oturur.
- D) Gürültüden uyuyamadım.

7. Aşağıdakilerden hangisinde varlığın renğini bildiren bir kelime vardır?

- A) Sonbahar gelince, yeşil yapraklar sarardı.
- B) Bulutlar gri, gökyüzü ise maviydi.
- C) Kazaklardan sarıyı mı, maviyi mi giysem?
- D) Kuğular, tüylerinin beyazlığıyla, göz kamaştırıyordu.

8. Aşağıdaki cümlelerin hangisinde hayal ürünü bir anlatım yoktur?

- A) Parkta arkadaşlarıyla oynuyordu.
- B) Dünya, Güneş'e seslendi.
- C) Kedi pırr diye uçuverdi
- D) Meyveler ağaçtan koparıldığı için ağlıyordu.

9. Güneşin ışıkları insanları ısıtırken, kurnaz bir bulut gülümsedi yeryüzüne.

Yukarıdaki cümlede hangi varlığa insana ait bir özellik verilmiştir?

- A) Güneş
- B) Işık
- C) Yeryüzü
- D) Bulut

10. Aşağıdaki verilen kelimelerden hangisi pekiştirmeden oluşan bir kelime değildir?

- A) sapsarı
- B) sımsıcak
- C) uzun uzun
- D) upuzun

11. Dilimize yabancı kelimelerden girmiş birçok kelime vardır.

Aşağıdaki kelimelerden hangisinin Türkçe karşılığı yanlış verilmiştir?

- A) maus → fare
- B) spiker → konuşmacı
- C) internet → bağlantı
- D) selfie → özçekim

12. Aşağıdaki cümlelerin hangisinde abartılı bir anlatım bulunmaktadır?

- A) Yazılıdan pekiyi alınca mutlu oldum.
- B) Taşınan arkadaşını çok özliyordu.
- C) Dedesi ölünce çok üzülmüştü.
- D) Salon kapısından dev gibi bir adam girdi.

MATEMATİK

1. Yandaki işleme göre $A \times B \times C$ işleminin sonucu kaçtır?

$$\begin{array}{r} A \quad B \quad C \\ A \quad B \quad C \\ A \quad B \quad C \\ + \quad A \quad B \quad C \\ \hline 6 \quad 1 \quad 6 \end{array}$$

- A) 10 B) 15 C) 20 D) 25

2. 2000TL değerindeki televizyonun, 250tl peşin ödenmiş ve geri kalan miktarı 5 eşit taksite böldürmüştür?

Buna göre 2.taksidini ödendiğinde ödemesi gereken kaç lira borcu kalır?

- A) 350 B) 950
C) 1050 D) 1750

528848

3. Yukarıda verilen sayının rakamları aynı olan basamaklarındaki sayıların **basamak değerleri toplamı** kaçtır?

- A) 8000 B) 8008
C) 8800 D) 8808

?

4. Kartta yazan sayı 10'a bölündüğünde bölüm 55' tir. **Bu sayının 100 ile çarpımı** kaçtır?

- A) 550 B) 5500
C) 50500 D) 55000

5. Üç basamaklı en küçük tek sayı ile iki basamaklı en büyük çift sayının çarpımı kaçtır?

- A) 9900 B) 9098
C) 9898 D) 9899

$$(10 \times 5) \times 100 = \dots\dots\dots$$

6. Yukarıdaki işlemin sonucu, aşağıda verilen işlemlerden hangisinin sonucuna **eşit değildir**?

- A) $(5 \times 10) \times 100$ B) $(5 \times 100) \times 10$
C) $(5 \times 100) \times 100$ D) $(10 \times 100) \times 5$

7. $A < 248 + 306$ ifadesinde sağlayan en büyük A doğal sayısı ile $B > 8700 - 4582$ ifadesini sağlayan en küçük B doğal sayısının **toplamı** kaçtır?

- A) 4672 B) 4671 C) 4670 D) 4680

8. Bir çıkarma işleminde çıkan sayı **2111**, fark ise **2889**'dur. Bu çıkarma işleminde **eksilen sayı ile farkın toplamı** kaç olur?

- A) 5000 B) 6111 C) 7111 D) 7889

9. Yanda verilen çıkarma işlemine göre **çıkan sayı** kaçtır?

$$\begin{array}{r} 9 \quad 8 \quad 6 \\ - \quad \bullet \quad \bullet \quad \bullet \\ \hline 1 \quad 2 \quad 9 \end{array}$$

- A) 1115 B) 867 C) 863 D) 857



10. Yukarıdaki sayı doğrusunda A ve B noktalarına karşılık gelen kesir sayıları sırasıyla hangi seçenekte verilmiştir?

- A) $\frac{2}{5}, 1\frac{3}{5}$ B) $\frac{3}{5}, 1\frac{3}{5}$
C) $\frac{4}{5}, 1\frac{4}{5}$ D) $\frac{4}{5}, 1\frac{3}{5}$



11. Yukarıdaki modellenen **kesir sayısı** aşağıdakilerden hangisidir?

- A) $2\frac{2}{2}$ B) $2\frac{2}{4}$ C) $\frac{4}{10}$ D) $2\frac{2}{10}$

$$\begin{array}{r} 3 \\ - \quad \bullet \quad \bullet \quad \bullet \\ \hline 1 \quad 2 \\ 2 \end{array}$$

12. Yanda verilen bölme işleminde **bölünen sayı** kaçtır?

- A) 36 B) 37 C) 38 D) 39

FEN BİLİMLERİ

1. Aşağıda verilen besinlerden hangisi kahvaltı masamızdaki **protein** kaynaklarından biridir?

- A) Süt B) Reçel C) Bal D) Ekmek

2. Sigaradan **en fazla** zarar gören organımız aşağıdakilerden hangisidir?

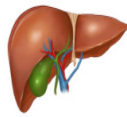
- A) B) C) D)



mide



akciğer



karaciğer



beyin

3. Gece ve gündüz aşağıdaki olayların hangisinin sonucunda oluşur?

- A) Dünya'nın Ay'ın etrafında dolanmasıyla.
B) Dünya'nın Güneş etrafında dolanmasıyla.
C) Dünya'nın kendi etrafında dönmesiyle.
D) Dünya ve Ay'ın Güneş etrafında dolanmasıyla.

4. Aşağıdakilerden hangisi kuvvet ile ilgili **yanlış** bir bilgidir?

- A) Cisme hareket yönünde uygulanan kuvvet cismin hızını artırır.
B) Bardağı rafa koyduğumuzda şekil değiştirme kuvveti uygulamış oluruz.
C) Süngeri sıktığımızda şekil değiştirme kuvveti uygulamış oluruz.
D) Raket ile topa vurduğumuzda yön değiştirme kuvveti uygulamış oluruz.

- I. Pencereyi açmak.
II. Arabanın kapısını dışarıdan kapatmak.
III. Topa vurmak.
IV. Ağaçtan meyve koparmak.

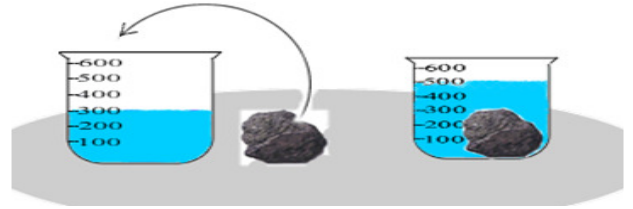
5. Yukarıdakilerden hangisi ya da hangileri **itmeye** örnektir?

- A) I, II ve IV B) I ve IV
C) I ve III D) II ve III

6. Zeytinyağı kabının darası 60g'dır. Brüt kütlesi, 240g olduğuna göre zeytinyağının **net kütlesi** ne kadardır?

- A) 120 g B) 160g C) 200g D) 180g

7.



İçinde 300 ml su bulunan kabın içine taş parçası atıldığında su seviyesi 500 ml olarak gözlemlenmiştir.

Buna göre taş parçasının hacmi kaç ml'dir?

- A) 200 B) 300 C) 400 D) 500

8. **Kuvvet, cisimlere etki ederek cisimlerin hareketini.....**

Yukarıdaki cümlede noktalı yere hangisi **yazılamaz**?

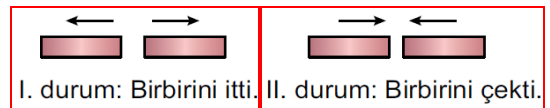
- A) durdurur B) yavaşlatır
C) eritir D) hızlandırır

9. **Alkol ve sigara** ile mücadele eden kuruluşun adı aşağıdakilerden hangisidir?

- A) Kızılay B) Yeşilay
C) TÜBİTAK D) Tüketici Hakem Heyeti

10. Mıknatıslarla ilgili olarak hangisi **söylenemez**?

- A) Mıknatıs demiri çeker
B) Mıknatıs bütün maddeleri çeker.
C) Mıknatısın gücü uç kutuplarda toplanmıştır.
D) Mıknatıs altın ve gümüşü çeker.



11. Yukarıdaki duruma göre mıknatısların birbirine yakın olan karşılıklı kutupları aşağıdakilerden hangisi olabilir?

- | I. durumda | II. durumda |
|------------|-------------|
| A) N – S | N – S |
| B) N – N | S – S |
| C) N – S | S – S |
| D) S – S | S – N |

Mıknatıs tarafından çekilmez.

Suda yüzer.

Suyu emmez.

12. Yukarıda özellikleri verilen madde aşağıdakilerden hangisidir?

- A) plastik top B) demir ataş
C) mermer D) pamuk

SOSYAL BİLGİLER

1. Aşağıdaki meslek sahiplerinden hangisi için hava durumu daha az önemlidir?

- A) Çiftçi B) Pilot
C) Öğretmen D) Balıkçı

2. Aşağıdaki yerlerden hangisinin krokisini çizeme - yiz?

- A) Mahallemizin B) Okulumuzun
C) Evimizin D) Dünyamızın

3. "Türk milleti milli mücadele döneminde; **Doğuda.....güneyde.....,batıda** savaşmıştır."

Noktalı yerlere sırasıyla aşağıdakilerden hangisi getirilmelidir?

- | <u>Doğuda</u> | <u>Güneyde</u> | <u>Batıda</u> |
|---------------|----------------|---------------|
| A) Ermeniler | Fransızlar | Yunanlılar |
| B) Fransızlar | İngilizler | Ermeniler |
| C) İngilizler | Ermeniler | Fransızlar |
| D) Ermeniler | Fransızlar | İngilizler |

4. Aşağıdaki olaylardan hangisi en son gerçekleşmiştir?

- A) Erzurum Kongresi B) Sivas Kongresi
C) TBMM'nin açılması D) Havza Genelgesi

I. Batı





II. Güneybatı

III. Dolu

5. Yukarıda verilen kavramların sınıflandırılması hangi seçenekte doğru verilmiştir?

- A) Ana yön - hava olayı- ara yön
B) Hava olayı- ara yön -ana yön
C) Ana yön - ara yön - hava olayı
D) Ana yön - ara yön - hava durumu

6. Aşağıdakilerden hangisi **sağlık alanında** kullanılan teknolojik bir ürün **değildir?**

- A)  ultrason
B)  stetoskop
C)  MR
D)  projeksiyon

7. Aşağıdakilerden hangisi **yön bulma** yöntemlerinden **değildir?**

- A) Rüzgârdan faydalanarak yön bulma.
B) Kutup Yıldızından faydalanarak yön bulma.
C) Yosunlardan faydalanarak yön bulma.
D) Karınca yuvalarından faydalanarak yön bulma.

8. **Fiziki haritalarda** dağlar hangi renk tonuyla gösterilir?

- A) Kahverengi B) yeşil C) sarı D) beyaz

9. Kurtuluş Savaşı sonrasında bazı illerimize savaşta gösterdikleri kahramanlıklar nedeni ile unvanlar verilmiştir.

Aşağıdakilerden hangisi bu illerimizden **değildir?**

- A) Kars B) Maraş C) Urfa D) Antep



10. Yukarıdaki haritaya göre aşağıdaki açıklamalardan hangisi **doğrudur?**

- A) Antalya'nın doğusunda Bartın vardır.
B) Sinop'un kuzeyinde Adana vardır.
C) Antalya, Gaziantep'in batısındadır.
D)Manisa, Muş'un kuzeydoğusundadır.

Havada meydana gelen ısınma, soğuma, rüzgar, yağış, sis gibi değişimlere..... denir.

11. Yukarıda verilen cümle aşağıdakilerden hangisiyle tamamlanmalıdır?

- A) hava durumu B) beşeri unsur
C) hava olayı D) doğal unsur

12. Televizyonda hava durumu haberlerini izleyen Melike, Konya için yandaki sembolü görmüştür. **Okula giderken Melike'nin hangisini yapması beklenir?**

- A) Kısa kollu giymesi.
B) Havanın düzelmesini beklemesi.
C) Arkadaşlarıyla beraber gitmesi.
D) Yanına şemsiye alması.

