

GENEL DEĞERLENDİRME TESTİ-3

TÜRKÇE Bölümü

1. Bu testte 12 soru bulunmaktadır.

2. Cevaplarınızı, cevap kâğıdının TÜRKÇE Testi için ayrılan kısmına işaretleyiniz.

1.

Dedemlerin köydeki tarlası yandı

Biberler o kadar acıydı ki içim yandı.

Yukarıdaki cümlelerde altı çizili sözcükler sırasıyla hangi anlamda kullanılmıştır?

- A) Gerçek Anlam – Mecaz Anlam
- B) Mecaz Anlam – Gerçek Anlam
- C) Gerçek Anlam – Gerçek Anlam
- D) Mecaz Anlam – Mecaz Anlam

2.

Aşağıdaki sözcüklerden hangisi hem gerçek hem de mecaz anlamda kullanılır?

- A) Otobüs
- B) Köprü
- C) Kırık
- D) Tahta

3.

tatlı sözcüğü hangi cümlede gerçek anlamıyla kullanılmıştır?

- A) O kadar tatlı bir gülüşü vardı ki...
- B) Senin tatlı sözlerin beni mutlu ediyor.
- C) Acı - tatlı günleri olur her insanın.
- D) Yemekten sonra tatlı da yedik.

4.

O kadar soğuktu ki bana karşı anlatamam.

Yukarıda altı çizili sözcük için aşağıdakilerden hangisi söylenebilir?

- A) Eş anlamı vardır.
- B) Zıt anlamı yoktur.
- C) Gerçek anlamlıdır.
- D) Mecaz anlamlıdır.

5.

Aşağıdaki cümlelerin hangisinde altı çizili sözcük mecaz anlamda kullanılmıştır?

- A) Kışın soğuk olduğu zaman camlar buz tutar.
- B) Bahçedeki çapanın başlığı kırıktı.
- C) Bu tavırlarıyla gözümden düştü.
- D) Sabahtan beri taksiyi bekliyorum.

6.

Aşağıdaki sözcüklerden hangisi bir cümlede hem gerçek hem de mecaz anlamda kullanılabilir?

- A) tatlı
- B) kitap
- C) telefon
- D) masa

7.



Yukarıda görseli de verilen varlık aşağıdaki cümlelerin hangisinde mecaz anlamda kullanılmıştır?

- A) Soğukta üşümemek için ateş yaktık.
- B) Uzakta yakılmış bir ateşin dumanı görünüyor.
- C) O, burdan gidince içime ateş düştü.
- D) Ateşin bulunması hayatı kolaylaştırdı.

8.

Aşağıdaki cümlelerden hangisinde mecaz anlamlı bir sözcük vardır?

- A) Annesini o kadar özlemişti ki sanki burnunda tütüyordu.
- B) Bütün bu yapılanların sorumlusu olarak beni görmelerine çok üzüldüm.
- C) Hasta olduğundan nefes alıp vermekte çok zorlanıyordu.
- D) Yazın bizim buralara birçok kişi tarlalarda çalışmak için gelir.

9.



Yukarıda görseli verilen varlıklardan hangisi hem gerçek mecaz anlamda kullanılır?

- A) Buz
- B) Otobüs
- C) Ağaç
- D) Telefon

10.

Beni arkadaşlarımın içerisinde rencide ettiği için ona çok kırıldım.

Aşağıdaki cümlelerden hangisinde, yukarıda verilen cümlede altı çizili sözcükle aynı anlamda kullanılan bir sözcük vardır?

- A) Babam sabah odunları kırdı.
- B) Okulun pencere camları kırıldı.
- C) Arkadaşım beni çok kötü kıldı.
- D) Çürük olan ağacın dalı kırıldı.

11. Aşağıda verilenlerden hangisi neden-sonuç cümlesi değildir?

- A) Pili bittiği için saat durdu.
- B) Parka gittim ama arkadaşlarımı göremedim.
- C) Hastalandım çünkü soğuk su içtim.
- D) Kar çok yağınca yollar kapandı.

12. "Bahar gelince etrafı çiçek kokusu sardı." cümlesinden aşağıdakilerden hangisi çıkarılabilir?

- A) Çiçekler rengârenktir.
- B) En güzel kokan çiçek güldür.
- C) Bahar sona ermiştir.
- D) Ortamda çiçekler vardır.

GENEL DEĞERLENDİRME TESTİ-3

MATEMATİK Bölümü

1. Bu testte 12 soru bulunmaktadır.
2. Cevaplarınızı, cevap kâğıdının MATEMATİK Testi için ayrılan kısmına işaretleyiniz.

1. 1. Adım → ●
2. Adım → ● ●
3. Adım → ● ● ● ●
4. Adım → ● ● ● ● ● ● ● ●

Yukarıdaki örüntünün 8. adımında kaç tane ● olur ?

- A) 10 B) 12 C) 14 D) 16

2. 21 28 35 A B

Yukarıdaki örüntüde A ve B toplamı kaçtır ?

- A) 91 B) 94 C) 97 D) 100

3. Eren, 12'den başlayıp ileriye doğru 9'ar saymaya başlıyor. Eren 6. saymada hangi sayıyı söyler ?

- A) 48 B) 57 C) 66 D) 75

4. 96 88 80 73 64 56

Yukarıdaki örüntüde kuralı bozan sayı aşağıdakilerden hangisidir?

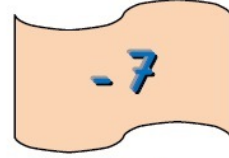
- A) 80 B) 73 C) 64 D) 56

5. 52 - 61 - 71 - 79 - 88 - 97

Yukarıda örüntüde kuralı bozan sayı aşağıdakilerden hangisidir ?

- A) 52 B) 61 C) 71 D) 88

- 6.



Aşağıdaki örüntülerden hangisinin kuralı yukarıdaki gibidir?

- A) 47 → 40 → 33 → 25
B) 52 → 45 → 37 → 31
C) 34 → 27 → 20 → 13
D) 60 → 55 → 50 → 45

7. Aşağıdakilerden hangisi örüntü değildir?

- A) 45 → 48 → 51 → 54
B) 52 → 60 → 68 → 76
C) 70 → 64 → 58 → 52
D) 25 → 30 → 34 → 38

8.



Bir ayakkabı firması mart ayında yurt dışına 3 820 adet ayakkabı, nisan ayında 2650 adet ayakkabı ve mayıs ayında ise 3262 adet ayakkabı ihraç etmiştir.

Buna göre ayakkabı firması üç ayda kaç adet ayakkabı ihraç etmiştir ?

A) 9520 B) 9562 C) 9732 D) 9892

9.

✓ Dört bin sekiz yüz kırk beş

✓ Üç bin yedi yüz elli bir

Yukarıda okunuşları verilen sayıların toplamı kaçtır?

A) 8596 B) 8606 C) 8706 D) 8806

10.

3 296

4 159

1 475

3847

Yukarıda kutularda verilen sayılar büyükten küçüğe doğru sıralandığında 3.ve 4. sıradaki sayıların toplamı kaçtır ?

A) 4771 B) 4781 C) 4791 D) 4801

11.

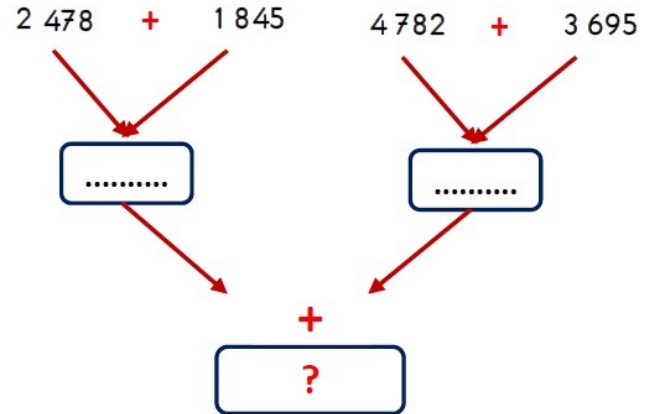
İLÇE	NÜFUS
BAYAT	5 235
LAÇIN	3 278
DODURGA	2 758
ALACA	4 523

Tabloda Türkiye'de bulunan bazı ilçelerin nüfusları verilmiştir.

Buna göre nüfusu en fazla olan ilçe ile nüfusu en az olan ilçenin toplam nüfusu kaçtır?

A) 7853 B) 7953 C) 7983 D) 7993

12.



Yukarıda verilen şemada ? ile yazılan yere aşağıdakilerden hangisi yazılmalıdır ?

A) 12 500

B) 12 600

C) 12 700

D) 12 800

GENEL DEĞERLENDİRME TESTİ-3

FEN BİLİMLERİ Bölümü

1. Bu testte 12 soru bulunmaktadır.

2. Cevaplarınızı, cevap kâğıdının FEN BİLİMLERİ Testi için ayrılan kısmına işaretleyiniz.

1.



Yer kabuğunun yapısında kayalar bulunur.

Murat



Yer kabuğunun kalınlığı her yerde aynı değildir.

Merve



Okyanus diplerinde yer kabuğu incedir.

Esra



Yer kabuğu kırılmalı bir yapıda değildir.

Emre

Yukarıdaki öğrencilerden hangisinin ifadesi yanlıştır?

A) Murat

B) Merve

C) Esra

D) Emre

2.

Dünya'nın Güneş etrafında dolanma hareketine ne denir?

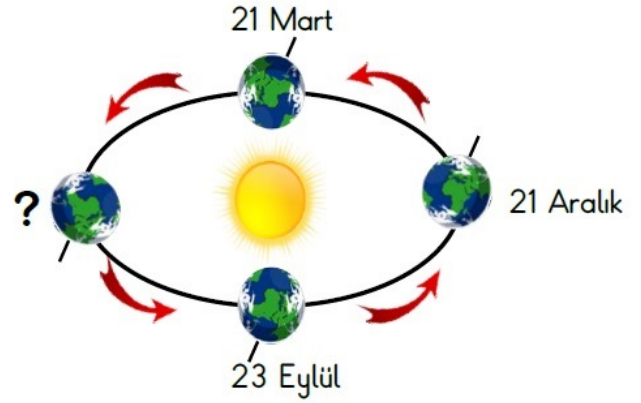
A) Günlük hareket

B) Gün

C) Yıllık hareket

D) Mevsim

3.



Yukarıda Dünya'nın Güneş Etrafında Dolanma hareketi verilmiştir.

Buna göre " ? " yerine hangi tarih yazılmalıdır?

A) 21 Haziran

B) 21 Mayıs

C) 23 Haziran

D) 21 Kasım

4.

Ülkemizde 1 yılda 4 mevsimin yaşanır. Bu durumun sebebi nedir?

A) Dünya'nın kendi etrafında dönmesi

B) Dünya'nın Güneş etrafında dolanması

C) Güneş'in kendi etrafında dönmesi

D) Güneş'in Dünya etrafında dolanması

5.

Kayaçların yapılarının birbirlerinden farklı; sert, yumuşak, parlak, mat ve renkli olmasını sağlayan madde aşağıdakilerden hangisidir?

A) Kayaç

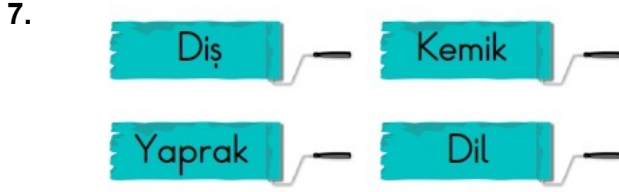
B) Maden

C) Fosil

D) Mineral

6. Fosilleri inceleyen bilim insanına ne ad verilir?

- A) Arkeolog B) Paleontolog
C) Zoolog D) Fosilog



Yukarıda verilenlerden hangisi fosil kalıntısı olamaz?

- A) Diş B) Kemik
C) Yaprak D) Dil

8.

İnşaat sektöründe, mutfak tezgâh yapımında kullanılan madendir. Ülkemizde Afyon, Bursa gibi şehirlerde çıkarılır.

Emre

Yukarıda Emre'nin bahsettiği maden aşağıdakilerden hangisidir?

- A) Bakır B) Mermer
C) Bor D) Altın



Yukarıdaki otomobil aracı yapımında hangi maden kullanılmamıştır?

- A) Bakır B) Demir
C) Alüminyum D) Mermer

10.



Yukarıdaki görselde Güneş ışıklarının gün içinde farklı açılarla gelme sebebi nedir?

- A) Dünya'nın kendi etrafında dönmesi
B) Dünya'nın Güneş etrafında dolanması
C) Güneş'in kendi etrafında dönmesi
D) Güneş'in Dünya etrafında dolanması

11.

Ülkemizde her gün geceden sonra gündüzün birbirini takip ederek gelmesinin sebebi nedir?

- A) Dünya'nın Güneş etrafında dolanırken izlediği yörüngenin elips şeklinde olması
B) Dünya'nın Güneş etrafında dolanması
C) Dünya'nın kendi etrafında dönmesi
D) Dünya dönüşünü batıdan doğuya doğru yapması

12.

Dünya kendi etrafındaki dönüşünü kaç saatte tamamlar?

- A) 6 saatte B) 12 saatte
C) 24 saatte D) 365 saatte

GENEL DEĞERLENDİRME TESTİ-3

SOSYAL BİLGİLER Bölümü

1. Bu testte 12 soru bulunmaktadır.
2. Cevaplarınızı, cevap kâğıdının SOSYAL BİLGİLER Testi için ayrılan kısmına işaretleyiniz.

1. Nüfus cüzdanında yer alan bilgilerden hangisi yanlıştır?

- A) Babamızın adı
B) T.C. kimlik numaram
C) Okuduğum kitap sayısı
D) Seri numarası

2.

Kimlik bilgilerimiz	
İmza	
Adımız	
Anne adı	
Baba adı	

Yukarıdakilerden hangisi kimliklerimizin ön tarafında yer alır?

- A) İmza – Adımız
B) İmza – Baba adı
C) Adımız – Baba adı
D) Anne adı – Baba adı

3.



Kimlik kartımızda kişisel bilgilerimiz yer alır.

Bu bilgiye göre aşağıdakilerden hangisi kimlik kartımızda yer almaz?

- A) Anne adı B) Kardeş sayısı
C) Doğum tarihi D) T.C. kimlik numarası

4.

Türkiye Cumhuriyeti kimlik numaramız kaç rakamdan oluşur?

- A) 10 B) 11 C) 12 D) 13

5.

Yeni kimlik kartlarımızla ilgili bilgilerden hangisi yanlıştır?

- A) Son geçerlilik tarihi bellidir.
B) Elektronik çip bulunur.
C) Erkeklerin mavi, kadınların pembe renkli kartları vardır.
D) Soyadımız ve adımız yazılıdır.

6.

“Bir kimsenin bir şeyi anlama veya yapabilme niteliğine denir.”

Bu bilgiye göre boş bırakılan yere ne gelmelidir?

- A) Yetenek B) Fiziksel özellik
C) İlgi D) Farklılık

7. Aşağıdakilerden hangisi ilgilerimiz arasındadır?
- A) Sınıfın en uzun boylusuyum.
- B) Bizim ailede herkesin gözü yeşildir.
- C) En iyi oynadığım oyun voleyboldur.
- D) Resim çizmekten hoşlanırım.

8. Olayların tarihsel sıralanışı ile ilgilenen bilim dalına ne denir?
- A) Arkeoloji B) Jeoloji
- C) Kronoloji D) Filoloji

9. Kütüphanecilik kulübüne öğrenci seçilecektir. Buna göre aşağıdakilerden hangi öğrenci bu kulübe seçilmelidir?

- A)  Kitap okumayı seviyorum.
- B)  Futbol oynamayı seviyorum.
- C)  Doğa resimleri yapmaktan hoşlanırım.
- D)  Gitar çalmaktan başarılıyım.

10. Aşağıdakilerden hangisi yanlıştır?
- A) İlgilerim ve yeteneklerim bana özeldir.
- B) Herkes güzel resim çizebilir.
- C) Basketbol seven biri spor dalında başarılı olur.
- D) Yeteneklerimizi geliştirerek daha da iyi olabiliriz.

11. Aşağıdaki ifadelerden hangisi empatiye örnek olabilir?
- A) Yaramazlık yapan çocuklara kızmak.
- B) Yaşlı bir adamın yerine kendimizi koyarak ona yardım etmek.
- C) Parktaki çocuklara misket vermek.
- D) Komşumuzun köpeği hastalanınca veterinerine götürmek.

12. Kronolojik bilgilerden faydalanarak aşağıdakilerden hangisine ulaşılmaz?
- A) Hangi mesleği seçeceğimize
- B) Doğum tarihimize
- C) İlkokulu ne zaman bitirdiğimize
- D) Olayların oluş sırasına

GENEL DEĞERLENDİRME TESTİ-3

DİN KÜLTÜRÜ-İNGİLİZCE Bölümü

1. Bu testte 12 soru bulunmaktadır.

2. Cevaplarınızı, cevap kâğıdının DİN KÜLTÜRÜ-İNGİLİZCE Testi için ayrılan kısmına işaretleyiniz.

1.

1. Hayırlı yolculuklar
2. Allah gönlünüze göre versin
3. Allah kaza bela vermesin
4. Allah yolunuzu açık etsin

Yukarıdakilerden hangisi diğerlerinden farklı bir durum için **söylenir** ?

- A) 1 B) 2 C) 3 D) 4

2.

Aşağıdaki cümlenin İngilizce karşılığı nedir?
"BANA KALEMİNİ VER, LÜTFEN!"

- A) Sit down!
B) Give me the ruler, please!
C) Be quiet!
D) Give me the pencil, please!

3.

"Allahumme salli ala Muhammed"
Verilen ifade hangi duaya **örnektir** ?

- A) Salavat B) Subhaneke
C) Fatiha D) Besmele

4.

1. İyi niyet ve dostluk ifadesidir
2. İletişimin ilk adımıdır
3. İnsanlar arasında güvensizlik oluşturmaktadır

Selam vermek ile ilgili yukarıda verilenlerden hangisi **yanlıştır** ?

- A) 1 B) 2 C) 3 D) 1, 2 ve 3

5.

'Subhaneke' duasının **sadece cenaze namazlarında okunan kısmı hangisidir?**

- A) Ve Teala ceddük
B) Ve celle senaük
C) Ve tebara kesmük
D) Ve la ilahe ğayruk

6.

Müslümanlar bir işe başlarken **ne söyler?**

- A) Bismillahirrahmanirrahim.
B) Allah yardım etsin.
C) Elhamdülillah
D) Hayırlı olsun.

7.



- A) Student - Mother
B) Teacher - Father
C) Teacher - Student
D) Student - School

8. "CLEAN THE BLACKBOARD, PLEASE !"
Türkçe karşılığı hangisidir?
A) Işığı kapat, lütfen !
B) Sessiz ol !
C) Tahtayı temizle, lütfen !
D) İçeri girebilir miyim?

9.



Is she japanese ?

Yukarıdaki sorunun cevabı hangi seçenekte **doğru verilmiştir?**

- A) No. she isn't. B) Yes, she is.
C) Yes, I am. D) Yes, he is.

10.



- A) Be quiet ! B) Go out !
C) Stand up ! D) Sit down !

11. Besmele'nin anlamı **aşağıdakilerden hangisidir?**

- A) Allah en büyüktür.
B) Allah'a hamd ederim.
C) Muhammed Allah'ın elçisidir.
D) Esirgeyen bağışlayan Allah'ın adıyla

12.

"SİLGİNİ ALABİLİR MİYİM?"
İngilizce karşılığını bulunuz.

- A) May I go out?
B) May I take the eraser?
C) Give me the eraser!
D) May I take the chalk?