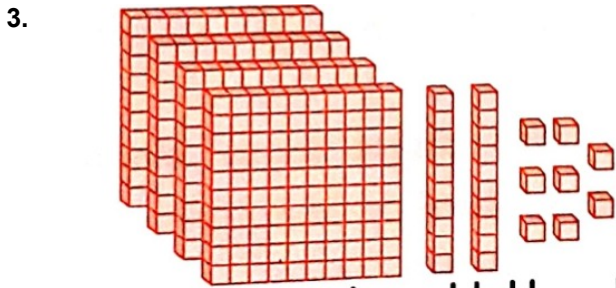


DOĞAL SAYILAR TEST 3

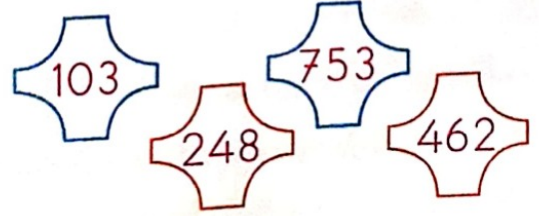
1. Sayıları yazmada kullanılan rakamlar kaç tanedir?
A.8 B.9 C.10

2. "6, 8, 5" rakamlarıyla yazılabilecek en büyük doğal sayı kaçtır?
A.685 B.856 C.865



- Yukarıdaki taban bloklarıyla oluşturulan sayı hangisidir?
A.482 B.428 C.424

4.

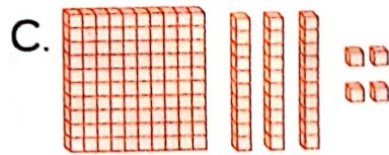

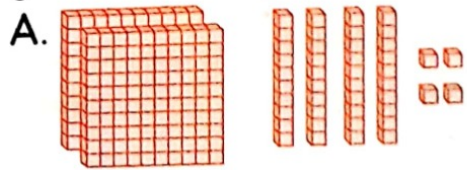


- Yukarıda belirtilen doğal sayılardan hangileri çifttir?
A.103 - 248
B. 248 - 753
C.248 - 462

5.



- Yukarıdaki uzaktan kumandalı arabanın fiyatını gösteren sayının taban bloklarıyla gösterilişi hangisidir?



6. 185 doğal sayısının onlar basamağında hangi rakam vardır?

- A.8 B.15 C.18

7. Aşağıdaki doğal sayıların hangisi 699 ile 704 doğal sayıları arasındadır?

- A.698 B.702 C.706

8. "1, 3, 2" rakamlarını birer kez kullanarak yazılabilecek en büyük ve en küçük üç basamaklı doğal sayılar aşağıdakilerden hangileridir?

- A.213 - 321
B.132 - 123
C.321 - 123

9. Aşağıdaki eşitliklerden hangisi yanlıştır?

- A.400 birlik = 40 onluk = 4 yüzlük
B.60 onluk = 600 birlik = 6 yüzlük
C.7 yüzlük = 700 onluk = 70 birlik

10.



Tırtılın üzerinde verilen rakamlarla yazılabilecek üç basamaklı en küçük çift doğal sayı aşağıdakilerden hangisidir?

- A.148 B.184 C.418

11.

Hangi seçenekteki sayı diğerlerinden farklıdır?

- A.100 birlik
B.1 yüzlük
C.10 birlik

12. (507) (597) (517) (547) (557)

Yukarıda verilen sayıları büyükten küçüğe doğru sıraladığımızda ortadaki sayı hangisi olur?

- A.517 B.547 C.557

13. Trafik lambasında

verilen rakamlarla yazılabilecek üç basamaklı en büyük tek doğal sayı aşağıdakilerden hangisidir?



- A.627 B.726 C.762

14. 680 doğal sayısı için aşağıdakilerden hangisini söyleyemeyiz?

- A.680 birliğe eşittir.
B. 68 yüzlüğe eşittir.
C.6 yüzlük, 8 onluğa eşittir.

- 15.

▲126 ▲224

▲165 ▲341

Yukarıdaki doğal sayıların büyükten küçüğe doğru sıralanışı hangi seçenekte verilmiştir?

A.▲ > ▲ > ▲ > ▲

B.▲ > ▲ > ▲ > ▲

C.▲ > ▲ > ▲ > ▲