

AD-SOYAD:

PUAN:

NUMARA:

1.

TURUNCU TOP

Dize'nin en sevdiği renk turuncuydu. Küçükken yani neredeyse iki yaşındayken babasıyla oyuncakçıya gittiler. Topların olduğu bölüme geldiklerinde renginden dolayı taşımakta zorlansa da topu elinden bırakmadı. "Basketbolu olan merakı o gün o topa başladı." der annesi. Şimdi okul takımında çok başarılı maçlar yapıyor. Basketbol onun için vazgeçilmez, idmanlarını asla aksatmıyor. Bir gün hastalanıp gitmese kahroluyor. Şuan öğrenci olduğundan meslek olarak yapmıyor ama hayali bu işten para kazanacak kadar iyi bir oyuncu olmak.

Umay ATEŞ




(1, 2, 3, 4 ve 5. soruları metne göre yanıtlayalım.)

1. Dize'nin en sevdiği renk hangisidir?

A)  B)  C) 

2.

2. Oyuncakçıda Dize'nin ilgisini çeken hangisi olmuş?

A)  B)  C) 

3.

3. Dize hangi takımda basketbol oynuyor?

A) Sınıf takımı
B) Okul takımı
C) Mahalle takımı

4.

4. Dize'nin hayali nedir?

A) Çok ünlü bir film yıldızı olmak.
B) Basketbolu meslek olarak yapmak.
C) Ünlü bir ressam olmak.

5. 5.



Yukarıdaki olaylar metinde oluş sırasına göre dizildiğinde sembollerin sıralanışı nasıl olur?

- A) ▲ - ● - ■
B) ■ - ▲ - ●
C) ▲ - ■ - ●

6.

Hangi cümlede yazım hatası yoktur?

- A) Okul Müdürü koridorlarda geziyor.
B) zehra teyze bize kek yaptı.
C) "Öğretmenim" Türkçe kitabınızı çıkarın dedi.

7.

1. Okula gitmek için hazırlandım.
2. Yola çıktım.
3. Kahvaltımı yaptım.
4. Çantamı sırtıma taktım.

Olayları oluş sırasına göre dizdiğimizde sıralama nasıl olur?

- A) 2 - 3 - 4 - 1
B) 3 - 1 - 4 - 2
C) 1 - 3 - 4 - 2

8.

- Arkadaşım Eda, sırasını çizmiş.
▲ Ay, ayağımı sıraya çarptım.
● Yarın size geleyim mi?

Hangi sembollerle gösterilen cümlelerde doğru noktalama işareti kullanılmıştır?

- A) ■ - ● B) ▲ - ■ C) ▲ - ●

9.

Hangi kelimelerin eş anlamlıları aynı harf ile başlar?

- A) beceri - cimri
B) yoksul - genç
C) ev - misafir

10. "Yoksul" kelimesinin eş anlamlısı hangi cümlede kullanılmıştır?
A) Zengin adam çok iyi biriydi.
B) Fakir ama gururludur.
C) Yokluktan ne yapacağını şaşırıldı.

11. Aşağıdaki cümlelerden hangisinde aynı harfle başlayan zıt anlamlı kelimeler verilmiştir?
A) Sabahtan akşama aynı şeyi anlatıp durdu.
B) Hava sıcak soğuk demeden her gün çalışıyor.
C) İster inan, ister inanma hepsi doğru.

12.

Sağlıklı olmak için,
Doğal beslenmelisin.
Yediğin içtiğinin,
İçeriğini bilmelisin.

Spor yapmazsan olmaz,
Vücudun dayanmaz.
Hem spor hem beslenme,
Yararlıdır bünyene.

Umay ATEŞ

(1. 2. 3 ve 4. soruları şiire göre cevaplayalım.)

1. Şiire en uygun başlık hangisidir?

- A) Doğal Beslen
B) Sağlıklı Yaşam
C) Sporun Önemi

13. 2. Şiire göre sağlıklı olmak isteyen biri nasıl beslenmelidir?

- A) Ambalajlı ürünler yemelidir.
B) Açıkta satılan yiyecekleri tercih etmelidir.
C) Doğal ürünlerle beslenmelidir.

14. 3. Sağlıklı olmak için beslenmenin yanında neye dikkat etmeliyiz?
A) Spora
B) Uykuya
C) Çalışmaya

15. 4. Şiirin konusu nedir?
A) Dengeli beslenme
B) Sağlıklı yaşama
C) Uyku düzeni

16.



Emre, hangisini söylemiş olabilir?

- A) En sevdiğim spor tenistir.
B) Spor yapmak bana göre değil.
C) Yüzme sporuyla sağlığımı koruyorum.

17. Hangi çocuk dinleme kurallarına uygun davranmamaktadır?

A)




B)



C)

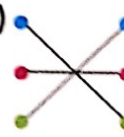


18.



Spor dalları görselleriyle eşleştirildiğinde görüntü nasıl olur?

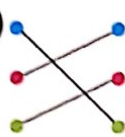
A)



B)






C)



19. Hangi kelime "usta" kelimesinin zıt anlamlısıdır?

- A) bilgili
- B) acemi
- C) marangoz

20. Hangi çocuk noktalama işaretlerini doğru kullanmamıştır?

- A)  Begüm'ü tanıyorsun değil mi.
- B)  Buradan mı geçeceksin?
- C)  Seninle konuşmayı düşünmüyorum.

21. "barış mançonun şarkısını dinledik." cümlesinin doğru yazılışı hangisidir?

- A) Barış mançonun şarkısını dinledik.
- B) Barış Mançonun şarkısını dinledik.
- C) Barış Manço'nun şarkısını dinledik.

22. Sevgi ya da nefret sağlığımızı iyi veya kötü yönde etkiler.

Yukarıdaki cümlede kaç tane zıt anlamlı kelime vardır?

- A) 1
- B) 2
- C) 3

23. Aşağıdakilerden hangisi yazma kurallarından biridir?

- A) İmla ve noktalamaya dikkat etmek.
- B) Telaffuza dikkat etmek.
- C) Dinleyici ile göz teması kurmak.

24.

- kulaç
- parmak
- karış

Yukarıdaki standart olmayan ölçme birimlerinin, en uzundan en kısaya doğru sıralanması hangi seçenekte verilmiştir?

- A) 
- B) 
- C) 

25. adım karış ayak kulaç

Yukarıdaki kavramlar hangi seçenekte ilgilidir?

- A) Standart olan uzunluk
B) Standart olmayan ağırlık
C) Standart olmayan uzunluk

26. 3 parmak • silgi • defter
• kalem • cetvel
• kalem tıraş • kitap



Yukarıdaki kibrit kutusunun uzunluğu üç parmak kadardır. Sağdaki kaç tane nesnenin uzunluğu kibrit kutusunun uzunluğundan fazladır?

- A) 5 B) 4 C) 3

27. Kalem adım ile ölçebiliriz.
 Sıramızı karışımızla ölçebiliriz.
 Silgi kulaç ile ölçülebilir.

Yukarıdaki ifadelerin doğru veya yanlış dizilimi hangi seçenekte verilmiştir?

- A) D Y Y B) Y D D C) Y D Y

28. 1 parmak 2 adım 3 karış 4 kulaç

Yukarıdaki kavramların el ve ayak ile ölçüm gruplaması hangi seçenekte verilmiştir?

	El	Ayak
A)	1 ve 3	2
B)	2 ve 3	4
C)	1 ve 4	2

29. • Karış, kulaçtan

• Karış, parmaktan

İfadelerdeki boşluklara sırasıyla hangi kelimeler gelmelidir?

A) büyüktür
küçüktür

B) küçüktür
büyüktür

C) küçüktür
küçüktür

30. Aşağıdaki ifadelerden hangisi doğrudur?

A) Ayak, adımdan büyüktür.

B) Ayak, adımdan küçüktür.

C) Ayak ile adım aynıdır.

31.

Standart Olmayan Ölçme Birimleri	Sınıfın Uzunluğu	Siranın Uzunluğu	Silginin Uzunluğu
Karış			
Adım			
Parmak			

Yukarıdaki tablo doğru şekilde ✓ atarak doldurulduğunda hangi seçeneğe ulaşılır?

A)

	✓	
		✓
✓		

B)

✓		
	✓	
		✓

C)

	✓	
✓		
		✓

32. • Kulacımız, ayağımızdan uzun mu?

• Defterimizi kulaçla ölçebilir miyiz?


• Adımımız, ayağımızdan uzun mu?

Yukarıdaki sorulardan kaç tanesinin cevabı evettir?

A) 3

B) 2

C) 1

33.  Sınıfımızdaki yazı tahtasının uzunluğunu hangisiyle ölçmeye çalışırsak daha fazla zaman kaybetmiş oluruz?

- A) Parmak
B) Karış
C) Adım

34. Odamızın uzunluğunu en hızlı hangisiyle ölçebiliriz?
A) karış B) ayak C) adım

35.

İki kolumuzu ve ellerimizi gergin bir şekilde açarız.	Elimizi açıp, baş ve serçe parmağımızı gergin şekilde tutarız.
---	--

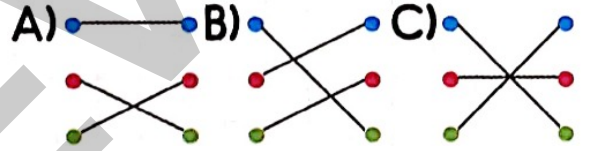
Yukarıdaki tanımlar seçeneklerden hangisiyle ilgilidir?

- A) kulaç karış
B) kulaç adım
C) karış kulaç

36.

Çoğunlukla terziler kullanır.	• metre
Çoğunlukla inşaatta çalışanlar kullanır.	• cetvel
Çoğunlukla öğrenciler kullanır.	• mezura

Yukarıdaki eşleştirmeler hangi seçenekte doğru olarak verilmiştir?



37. Aşağıdakilerden hangisinde tüm verilenlerin uzunlukları santimetre ile ifade edilir?

A) kalemtıraş	kaşık	kitap
B) kapı	kamyon	koltuk
C) kupa	kazma	kanepe

38. Aşağıdaki uzunluk ölçme gruplarından hangileri standart değildir?

- A) cetvel - katlanır metre
B) metre - mezura
C) adım - kulaç

39.

Nesneler	Metre	Santimetre
Kalem		
Kapı		
Tebeşir		

Yukarıdaki tabloyu ✓ atarak doldurursak hangi seçeneğe ulaşırız?

- A)

	✓
✓	
	✓

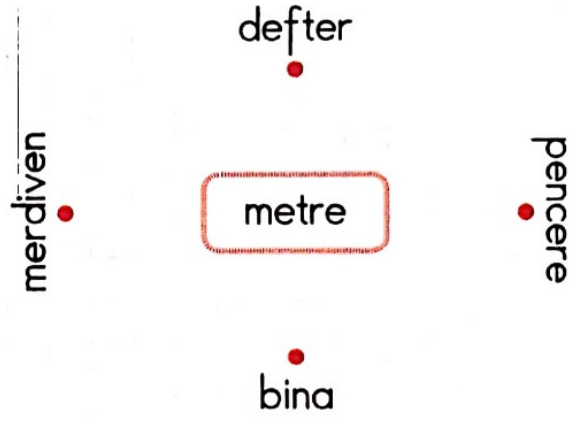
 B)

✓	
	✓
✓	

 C)

	✓
	✓
✓	

40.



Metre ile ölçülen kavramların eşleştirmesi hangi seçenekte verilmiştir?

- A) B) C)

41.

• metre	• ayak
• kulaç	• santimetre
• karış	• adım

Yukarıdakilerden kaç tanesi standart uzunluk birimlerindedir?

- A) 4 B) 3 C) 2

42. • Yazı tahtasının uzunluğunu ile ölçer;
• Defterimizin uzunluğunu ile ifade ederiz.

Yukarıdaki boşluklara hangi kavramlar gelirse standart ölçümler yapmış oluruz?

- A) metre
adım
- B) metre
santimetre
- C) kulaç
karış

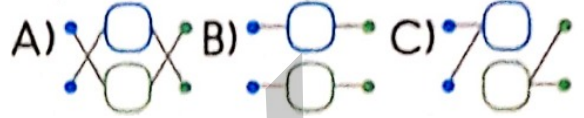
43. Aşağıdaki nesne ve alan gruplarından hangilerinin tümü metre ile ölçülür?

- A) kapı, duvar, direk
B) silgi, kitap, yol
C) otomobil, kalem, sokak

44.

- ağaç metre • kalem
• duvar santimetre • yaprak

Yukarıdaki eşleştirmeler hangi seçenekte doğru olarak verilmiştir?



45. Aşağıdakilerden hangisi kumaşların uzunluklarını ölçmek için yararlanılan standart uzunluk ölçme aracıdır?

- A) karış B) mezura C) kulaç

46. Metre standart uzunluk ölçme araçlarından biridir.
 Santimetre birimiyle çok uzun nesnelere kolayca ölçeriz.

İfadelerin doğru veya yanlış sıralaması hangi seçenekte verilmiştir?

- A) D
Y
- B) Y
Y
- C) Y
D


47.

- mezura
- cetvel
- kulaç
- parmak
- metre
- adım

Yukarıdakilerden kaç tanesi standart ölçme aracıdır?

- A) 5 B) 4 C) 3

48. Aşağıdaki liderlerden hangisinin önderliğinde Türk milleti Kurtuluş Savaşı'nı kazanmıştır?




Kâzım Karabekir

İsmet İnönü

Atatürk

49.

- ;
- Plânlı çalışırdı.
 - Alçak gönüllüydü.
 - Halkını sever ve halkına güvenirdi.
 - Dünya milletlerinin barış içerisinde yaşamasını isterdi.
- 


Yukarıda kişisel özellikleri verilen büyüğümüz kimdir?

- A) Atatürk
B) Ziya Gökalp
C) Mehmet Akif Ersoy

50.

Yandaki şairimizin yazdığı şiir, millî marş olarak kabul edilmiştir.

Bu şairimizin yazdığı şiir, aşağıdaki-lerden hangisidir?



- A) Bayrak
B) İstiklâl Marşı
C) Onuncu Yıl Marşı

51.

Yandaki görsel, aşağıdaki bayramlardan hangisiyle ilgilidir?



- A) Ramazan Bayramı
B) Cumhuriyet Bayramı
C) Zafer Bayramı

52.

Cumhuriyet kurulmadan önce, yurdumuzu padişahlar yönetiyordu. Devletimizin adı Osmanlı Devleti idi. Son zamanlarda Osmanlı Devleti iyi yönetilememiş, yapılan savaşlarda yenilmeye başlamıştı. Ülkemizi düşmanlar işgal etmişti. Ülkemizin bu durumunu değerlendiren Mustafa Kemal, Samsun'a çıkarak Milli Mücadele'yi başlattı. Yapılan savaşlardan sonra yurdumuz düşmanlardan temizlendi.

(5. ve 6. soruları parçaya göre cevaplandırınız.)

5. Yukarıda anlatılan savaş, aşağıdakilerden hangisidir?

- A) Kurtuluş Savaşı
- B) Birinci Dünya Savaşı
- C) İkinci Dünya Savaşı

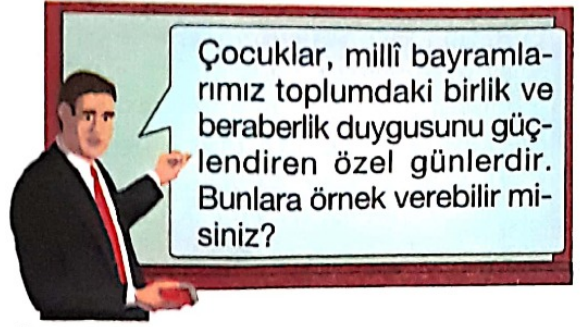
53. 6. Cumhuriyet kurulmadan önce, yurdumuzu kim yönetiyordu?

- A) Atatürk
- B) Padişah
- C) Krallar

54. Yurdumuzun düşmanlardan kurtarılmasında Atatürk'ün hangi özelliği en etkili olmuştur?

- A) Acele karar vermemesi
- B) Başkalarını da dinlemesi
- C) Plânlı ve sabırlı çalışması

55.



Öğretmenin anlatımına hangi öğrencisinin verdiği örnek uygun değildir?

A)



Cumhuriyet Bayramı

B)



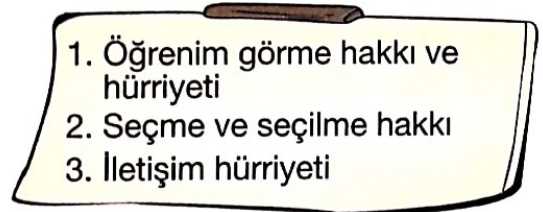
Ramazan Bayramı

C)



23 Nisan Ulusal Egemenlik ve Çocuk Bayramı


56.



Yukarıdakilerden hangisi ya da hangileri, Türk milletinin cumhuriyet yönetimi ile birlikte kavuştuğu hak ve hürriyetlerdendir?

- A) Yalnız 1
- B) 1 ve 2
- C) 1, 2 ve 3

57. Yandaki görsel, İstiklâl Marşı'mızın şairine aittir. Bu yazarımızın adı nedir?



- A) Mehmet Âkif Ersoy
B) Ziya Gökalp
C) Osman Zeki Üngör

58.



Yukarıdaki olayları oluş sırasıyla anlatmak isteyen bir öğrenci ilk olarak numaralı olaylardan hangisiyle başlamalıdır?

- A) I B) II C) III

59.



Yukarıdaki ifadeyi, aşağıdakilerden hangisi uygun bir şekilde tamamlar?

- A) plânlı ve düzenli
B) savaştan yana
C) bir çok cephede savaşmış

60. Aşağıdaki bayramlardan hangisi dini bayramlarımızdan biridir?

- A) Kurban Bayramı
B) Zafer Bayramı
C) Cumhuriyet Bayramı

61. En küçük yerleşim birimi aşağıdakilerden hangisidir?

- A) İllerimiz
B) Köylerimiz
C) İlçelerimiz

62.

İFADELER	Doğru Yanlış
Türkiye Cumhuriyeti'nin kurucusu Mustafa Kemal Atatürk'tür.
Bayrağımız, bağımsızlığımızın sembolüdür.
İstiklâl Marşı'nı Osman Zeki Üngör yazmıştır.
Türkiye Büyük Millet Meclisi Ankara'da açılmıştır.

Ceren, yukarıdaki tabloda yer alan ifadelerden doğru olanlar için D, yanlış olanlar için Y harfi koyarak tabloyu dolduracaktır.

Buna göre, Ceren'in "Doğru -Yanlış" tablosu aşağıdakilerden hangisi gibi olmalıdır?

- A)

D
D
Y
D

 B)

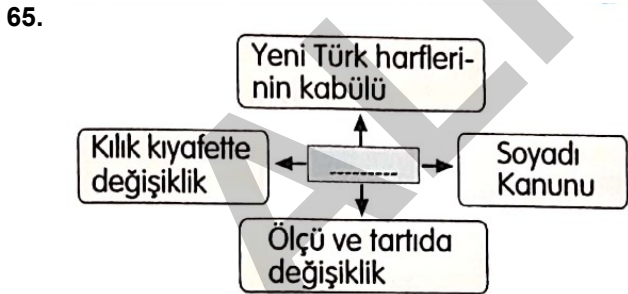
D
D
D
Y

 C)

D
Y
D
Y

63. Her yıl 29 Ekim'de millî bir bayramı kutlarız, çünkü o gün
-
- Yukarıdaki cümle aşağıdakilerden hangisiyle tamamlanmalıdır?**
- A) Büyük Millet Meclisi açıldı.
B) Cumhuriyet ilan edildi.
C) Atatürk, Samsun'a çıkarak Kurtuluş Savaşı'nı başlattı.

64. **Denizi, kumu ve güneşi ile ünlü ilimiz, aşağıdakilerden hangisidir?**
- A) Antalya
B) Ankara
C) Trabzon



Yukarıdaki şemada boş bırakılan yere aşağıdakilerden hangisini yazabiliriz?

- A) Atatürk'ün önderliğinde yapılan yenilikler
B) Atatürk'ün yaşadığı şehirler
C) Atatürk'ün okuduğu okullar

66. Liderler, toplumun yaşantısını değiştirirler. **Yaptığı yeniliklerle Türk milletinin yaşantısını değiştiren lider, aşağıdakilerden hangisidir?**



67. **Aşağıdakilerden hangisi, ülkemizin etrafındaki denizlerden biri değildir?**
- A) Akdeniz
B) Hazar Denizi
C) Ege Denizi