


Fiyatlar en az **15** adet ve üzeri alımlarda  
5 Temmuz 2021'e kadar geçerlidir.

# FUFUK İLE TÜRKİYE MACERASI



**7 KİTAP**

**22TL**



WHATSAPP SİPARİŞ

**0 552 252 83 85**



Fiyatlar toplu alım için geçerlidir.

✓ 1.Sınıf ✓ 2.Sınıf  
✓ 3.Sınıf ✗ 4.Sınıf

Bulmacalı Türkiye  
Haritası Hediye



KARGO  
BEDAVA

Youtube kitap isimlerini yazarak içeriğini  
anlattığımız videoyu izleyebilirsiniz.

# FUFUK İLE HIZLI VE ANLAMLILI OKUYORUM



**5 KİTAP**

**18TL**



WHATSAPP SİPARİŞ

**0 552 252 83 85**



Fiyatlar toplu alım için geçerlidir.

✓ 1.Sınıf ✓ 2.Sınıf  
✓ 3.Sınıf ✓ 4.Sınıf

Her kitaba özel  
Değerlendirme Kitapçığı



KARGO  
BEDAVA




1) Aşağıdakilerden hangisinin hem anlamdaşı vardır hem de sesteşi?

- a) Kara
- b) Ben
- c) Kent
- d) Kuzu

www.ufukkoca.com

3)



Yukarıdaki resme baktığımızda zihnimizde çağrışım yapan en önemli şey nedir?

- a) Yazar
- b) Şair
- c) Lider
- d) Baba

2) Bir metin, paragraf ya da hikâyenin en önemli unsuru nedir?

- a) Yer
- b) Zaman
- c) Kahraman
- d) Olay

www.etkinlikburada.com

4) “Duygu ve düşüncesini belli etmemek, bir şeyi bildiği halde bilmez gibi görünmek.” Anlamına gelen deyim aşağıdakilerden hangisidir?

- A) Rengi atmak
- B) Renk vermemek
- C) Renkten renge girmek
- D) Resmiyete dökmek

5) Ak akçe kara gün içindir.

Yukarıda altı çizili kelimeler arasındaki ilişki nedir?

- a) Eş anlam
- b) Mecaz anlam
- c) Terim anlam
- d) Zıt anlam

www.ufukkoca.com

7) Hangi cümlelerin sonuna farklı bir noktalama işareti farklı olur?

- a) Hey, beni duyuyor musun
- b) Ayyy, yazık çocuğa
- c) Eyvah, çay döküldü
- d) Hava oldukça soğuk

6) Aşağıdaki cümlelerde yer alan deyimlerden hangisinde "kavga etmek" anlamı vardır?

- A) Kardeşim, gırtlığına düşkün biridir.
- B) Bir bidon su yüzünden gırtlak gırtlığa geldiler.
- C) Şansızlığından, gırtlığına kadar borç içinde yüzüyordu.
- D) Kızını hatırlayınca lokmalar gırtlığına dizildi.

www.etkinlikburada.com

8) "Gönül kazanmak" deyiminin zıt anlamlısı aşağıdakilerden hangisidir?

- A) Gönlüne girmek
- B) Gönül yıkmak
- C) Gönül yapmak
- D) Gönül fethetmek

9) “Konuşmak yararlı olabilir. Kimi zaman susmak, ondan da iyidir. Çünkü, gereksiz konuşmak insanın başına bir takım işler açabilir.” anlamına gelen atasözü, hangisidir?

- A) Söz gümüşse sükut altındır.
- B) Tatlı dil yılanı deliğinden çıkarır.
- C) Önce düşün, sonra söyle.
- D) Söz ağızdan çıkar.

11) Aysu, dün alışveriş yaparken ayağını burktu.

Yukarıdaki cümlede hangi sorunun cevabı yoktur?

- a) Nerede?
- b) Kim?
- c) Ne?
- d) Ne zaman?

10) Aşağıdaki kelimelerden hangisi satır sonunda ayrılmaz?

- a) Kara
- b) Haber
- c) Tren
- d) Sinir

12) “Kimsenin kimseyi tanımayacağı kadar kalabalık, karışık ve telaşlı bir durum.” Anlamına gelen deyim hangisidir?

- A) Anasından doğduğuna pişman olmak
- B) Anasını ağlatmak
- C) Ana baba eline bakmak
- D) Ana baba günü

13) Verilen iki yargıdan biri diğzerinin sebebi ise bu tür cümlelere ..... denir.

Boş bırakılan yere hangisi gelmelidir?

- a) sebep – sonuç
- b) karşılaştırma
- c) öznel – nesnel
- d) zamirler

14) Aşağıdakilerden hangisi sebep-sonuç ilişkisi cümlelerinde yer almaz?

- A) bunun sonucunda
- B) bunun nedeni
- C) gibi
- D) çünkü

15) Aşağıdaki atasözlerinden hangisinde neden-sonuç ilişkisi vardır?

- A) Et tırnaktan ayrılmaz.
- B) İşleyen demir ışıldar.
- C) Demir tavında dövülür.
- D) Deveyi yardan uçuran bir tutam ottur.

www.ufukkoca.com

www.etkinlikburada.com

1) “Yetmiş bin yedi yüz altı” sayısının rakamla yazılışı aşağıdakilerden hangisidir?

- a) 77 706
- b) 7706
- c) 70 766
- d) 70 706

3) ABC  
BCA  
+CAB

.....

“A+B+C= 18” olduğuna göre yukarıdaki işlemin sonucu kaçtır?

- a) 1998
- b) 1888
- c) 54
- d) 100

2) 2- 4-8-A-32-B

Örüntüde a ve b yerine gelen sayıların toplamı nedir?

- a) 44
- b) 64
- c) 80
- d) 84

4) Dört basamaklı en küçük sayı ile dört basamaklı en büyük çift sayının toplamı nedir?

- a) 99 999
- b) 10 998
- c) 11 998
- d) 10 996

5) 727717

Yukarıdaki sayının tekrar eden sayıların sayı değerleri toplamı kaçtır?

- a) 25
- b) 26
- c) 27
- d) 28

7)  $8763 > a$   
 $1071 < b$

En büyük a sayısı ile en küçük b sayısının toplamı kaçtır?

- a) 9824
- b) 9834
- c) 9786
- d) 9888

www.ufukkoca.com

6) "4,3,1,6" rakamları ile oluşturulabilecek en büyük çift sayı ile en küçük tek sayının farkı kaçtır?

- a) 4851
- b) 5085
- c) 5186
- d) 4951

8)  $6A5 \longrightarrow 700$

Yukarıdaki sayının yüzlüğe yuvarlanmış halidir. Aşağıdakilerden hangisi A olamaz?

- a) 7
- b) 6
- c) 5
- d) 4

www.etkinlikburada.com

9) En yakın yüzlüğü 400 olan en büyük sayı ile en küçük sayının farkı nedir?

- a) 99
- b) 101
- c) 109
- d) 110

www.ufukkoca.com

11)  $48 < \dots < 96$  sayıları arasında kaç tane sayı vardır?

- a) 49
- b) 48
- c) 47
- d) 46

10) Bir çıkarma işleminde eksilen, çıkan ve farkın toplamı 1492'dir. Buna göre eksilen nedir?

- a) 746
- b) 339
- c) 564
- d) 918

www.etkinlikburada.com

12)

$$\begin{array}{r} \underline{\quad\quad\quad} \\ + \quad \underline{\quad\quad\quad} \\ \hline 666 \end{array}$$

Yukarıdaki işlemde en fazla 3 basamaklı 3 sayının toplamıdır. En büyük sayı en çok kaç olur?

- a) 222
- b) 333
- c) 225
- d) 466



13) İki sayının farkı 106' dır. Büyük sayıdan 40 çıkarırsak yeni sonuç kaç olur?

- a) 146
- b) 66
- c) 70
- d) 88

14) Aralarında ikişer yaş farkı olan 5 kardeşin yaşları toplamı 70 tir. En küçük kardeş ile büyük kardeşin yaşları toplamı kaçtır?

- a) 28
- b) 27
- c) 26
- d) 25

15) 
$$\begin{array}{r} 3140 \\ \dots\dots \\ + 1648 \\ \hline 6350 \end{array}$$

Yukarıdaki toplama işleminde boş bırakılan yere hangi sayı gelmelidir?

- a) 1562
- b) 1536
- c) 1485
- d) 1978

ÇAKIL

BOR

LİNYİT

DEMİR

1-) Yukarıdakilerden hangisi maden değildir?

- A) Çakıl B) Bor  
C) Linyit D) Demir

2-) Mevsimler aşağıdaki olayların hangisinin sonucunda oluşur?

- A) Dünya'nın kendi eksenini etrafında dönmesi  
B) Dünya'nın Güneş etrafında dolanması  
C) Güneş'in Dünya etrafında dolanmasının  
D) Güneş'in kendi etrafında dönmesi

3-) Aşağıdaki ifadelerden hangisi doğrudur?

- A) Fosillerin oluşumu sadece denizlerde gerçekleşir.  
B) Madenlerin ekonomik değeri yoktur.  
C) Kayaçlar canlı türlerinin günümüzdeki yaşamı hakkında bilgi verir.  
D) Fosillerin oluşumu çok eski çağlarda gerçekleşmiştir.



1



2



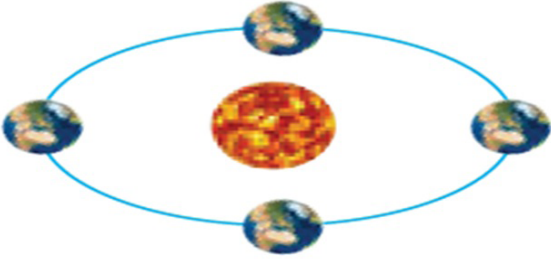
3



4

4-) Yukarıdaki kayaçlardan hangileri değerli birer madendir?

- A) 1 - 2 B) 2 - 3  
C) 1 - 3 D) 1 - 4



5-) Aşağıdakilerden hangisi Dünya'nın yukarıda verilen hareketi ile ilgili değildir?

- A) 1 yıl 365 gün 6 saattir.
- B) 1 yıl 12 aydır.
- C) 1 yıl 52 haftadır.
- D) 1 gün 24 saattir.

6-) Dünya Güneş etrafında bir turunu tamamladığında kendi etrafında kaç tam tur dönmüş olur?

- A) 12
- B) 365
- C) 1
- D) 24

- I- Gece gündüz oluşumu
- II- Gün içinde oluşan sıcaklık farkları
- III- Gölge uzunluğunun değişmesi

7-) Yukarıdakilerden hangisi veya hangileri Dünya'nın kendi etrafında dönmesi sonucunda oluşur?

- A) Yalnız I
- B) I, II
- C) I, III
- D) I,II,III

8-) Vücudumuzda düzenleyici olarak görev yapan besin içeriği aşağıdakilerden hangisidir?

- A) Vitaminler
- B) Su ve Mineraller
- C) Proteinler
- D) Yağlar



9-) Yukarıda verilen besin içeriğinde en çok hangisi bulunur?

- A) Karbonhidrat  
B) Protein  
C) Yağ  
D) Vitamin

www.ufukkoca.com

11-) Düşüp yaralandığımızda, en çok hangi besin içeriğini içeren besinleri daha fazla tüketmeliyiz?

- A) Karbonhidratlar ve yağlar  
B) Proteinler  
C) Vitaminler  
D) Su

10-) Yaşamımızı sağlıklı bir şekilde sürdürebilmek için **tüm besinlerden** vücudumuzun ihtiyaç duyduğu miktarda tüketerek beslenmeye ne ad verilir?

- A) Düzenli beslenme  
B) Dengeli beslenme  
C) Sağlıksız beslenme  
D) Besin israfı

www.etkinlikburada.com

12-) Paketlenmiş besinleri alırken:

- I - TSE damgasının olmasına  
II - Paketinin renkli, resimli olmasına  
III - Son Kullanma Tarihine

Yukarıdakilerden hangilerine dikkat edilmelidir?


- A) Yalnız III  
B) I ve II  
C) I ve III  
D) II ve III



13-) Sağlıklı beslenen bir kişi aşağıdakilerden hangisini yapmaz?

- A) Taze ve doğal besinler tüketir.
- B) Paketlenmiş ürünlerin son kullanma tarihine dikkat eder.
- C) Her çeşit besinden yeteri kadar yer.
- D) Yağ ve şeker gibi enerji verici besinlere öncelik verir.

www.ufukkoca.com



- A) Naftalin
- C) Nikotin

15-) İnsan sağlığını tehdit eden kötü bir alışkanlık olan sigaranın içindeki maddelerden hangisi bağımlılık yapar?

- B) Arsenik
- D) Tiner

14-) Aşağıdakilerden hangisi alkolün zararlarından değildir?

- A) Alkol kullanan kişi, davranış ve duygularını kontrol etmekte zorlanır.
- B) Alkol refleksleri yavaşlatır
- C) Alkol beyni, kasları ve damarları olumsuz etkiler.
- D) Alkol kullanan kendini mutlu hisseder.

www.etkinlikburada.com



1-) Aşağıda verilenlerden hangisi kimlik kartımızın ön veya arka yüzünde yer alan bir bilgi değildir?

- A) Ad Soyad  
B) Doğum tarihi  
C) Cinsiyet  
D) Medeni halli

2-) Aşağıdakilerden hangisi kişiden kesinlikle kişiye değişmez?

- A) Parmak İzi  
B) T.C. Kimlik No  
C) Saç rengi  
D) Gözdeki İris Tabakası

3-) Yeni kimlik kartlarımızda bulunan akıllı kart olarak da adlandırılan çipin adı nedir?

- A) Yonca  
B) Yanga  
C) Yonga  
D) Yunga

www.ufukkoca.com

4-) "Zamanı bölümlere ayıran ve olayları tarihlerine göre sıralayan bilim dalına ..... denir."

Yukarıdaki noktalı yere hangisi gelmelidir?

- A) Soy ağacı  
B) Takvim  
C) Kronoloji  
D) Saat

www.etkinlikburada.com

Farklı fikirlere saygı gösterir.

Anlayışlıdır.

Kolay iletişim kurar.

Sabırsızdır.

5-) Yukarıda hoşgörülü bireylerle ilgili olarak hangisi yanlıştır?

- A)  B)   
C)  D)

6-) Aşağıdakilerden hangisi resmi kimlik belgesi olarak kullanılmaz?

- A) Kütüphane kimlik kartı  
B) Pasaport  
C) Nüfus cüzdanı  
D) Ehliyet

7-) Aile tarihimizi en iyi kimden öğrenebiliriz?

- A) Baba B) Anne  
C) Amca D) Büyükbaba

8-) Aşağıdakilerden hangisi soy ağacında bulunmaz?

- A) Dedemiz B) Komşumuz  
C) Annemiz D) Amcamız

www.ufukkoca.com

www.etkinlikburada.com

9-) Aşağıdakilerden hangisi gelenek ve göreneklerimizden **değildir**?

- A) Bayramlarda akraba ziyaretlerine gitmek.
- B) Düğünlerde kına gecesi yapmak.
- C) Büyüklerimizin elini öpmek.
- D) Doğum günü partisine gitmek.

www.ufukkoca.com

11-) Aşağıdakilerden hangisi Türk kültürüne ait **değildir**?

- A) Manti
- B) Kruvasan
- C) Etli Ekmek
- D) Baklava





10-) " Benim yerimde sen olsaydın ne yapardın?", " Kendine yapılmasını istemediğin bir davranışı başkasına **yapma**." diyen bir kişinin karşısındakine nasıl davranması beklenir?

- A) Ön yargılı
- B) Empati kurarak
- C) Cömert
- D) İyimser

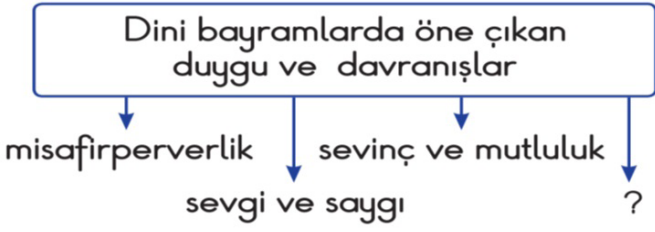
www.etkinlikburada.com

12-) Bir toplumu diğer toplumlardan ayıran kültürel değerlere "**milli kültür**" denir.

Buna göre görsellerden hangisi, milli kültürümüze ait **değildir**?

- A) 
- B) 
- C) 
- D) 





13-) Soru işareti konulan yere  
aşağıdakilerden hangisi yazılmalıdır?

- A) Çalışkanlık B) Tarafsız olmak  
C) Paylaşmak D) Tatil

- Göz rengi
- Merhamet
- Mutluluk
- Parmak izi
- Saç rengi
- Karamsarlık

14-) Yukarıdakilerden kaç tanesi duygusal  
özelliklerimizdendir?

- A) 3 B) 4  
C) 5 D) 6

I- Yaşantılar sonucu oluşurlar.

II- Nesilden nesile aktarılırlar.

III- Toplumdan topluma değişiklik  
gösterirler.

15-) Yukarıda açıklaması yapılan terim  
aşağıdakilerden hangisidir?

- A) kültür B) kronoloji  
C) soy ağacı D) kanunlar

www.ufukkoca.com

www.etkinlikburada.com

## SORU 1

Boş bırakılan yerlere uygun düşen seçeneği işaretleyiniz.



I'm from ..... I'm .....

- A) Japan / Japanese
- B) Iranian / Iran
- C) Pakistani / Pakistan
- D) Iraqi / Iraq

## SORU 2

Diyalogda boş bırakılan yere en uygun ifadeyi işaretleyiniz.

- A: Give me the ruler, please.
- B: Sorry, .....
- B: The ruler, please.

- A) here you are
- B) not right now
- C) say that again, please
- D) of course

## SORU 3

Verilen resme göre boş bırakılan yere uygun düşen seçeneği işaretleyiniz.



The board is .....

- A) black
- B) green
- C) blue
- D) brown

## SORU 4

Boş bırakılan yerlere uygun düşen seçeneği işaretleyiniz.



She is from.....

- A) Turkey
- B) Iran
- C) Iraq
- D) Pakistan

## SORU 5

Konuşma balonunda boş bırakılan yere uygun düşen seçeneği işaretleyiniz.

..... ?

No, I'm not. I'm French.



- A) Where is France
- B) Who is this
- C) Are you German
- D) Where are you from

## SORU 6


Boş bırakılan yere uygun düşen seçeneği işaretleyiniz.

forty - one, forty - four,  
forty - seven, .....

- A) fifty-one
- B) fifty
- C) forty-nine
- D) forty-eight

## SORU 7

Verilen resme uygun düşen seçeneği işaretleyiniz.



- A) Turn off the lights.
- B) Stand up.
- C) Stay in the line.
- D) Sit down.

## SORU 8

Verilen resme göre boş bırakılan yere uygun düşen seçeneği işaretleyiniz.



This is a .....

- A) ruler
- B) compass
- C) dictionary
- D) map

www.ufukkoca.com

www.etkinlikburada.com

## SORU 9

Verilen resme göre konuşma balonunda boş bırakılan yere uygun düşen seçeneği işaretleyiniz.



- A) turn off
- B) sit down
- C) turn on
- D) stand up

## SORU 10

Verilen matematiksel işlemde soru işaretinin bulunduğu yere uygun düşen seçeneği işaretleyiniz.

$$24 + 12 = ?$$

- A) forty-five
- B) forty-six
- C) thirty-five
- D) thirty-six

www.ufukkoca.com

www.ercanmercancan.com

www.etkinlikburada.com



## TÜRKÇE CEVAPLAR

1-A 6-B 11-A  
2-C 7-D 12-D  
3-C 8-B 13-A  
4-B 9-A 14-C  
5-D 10-C 15-B

## MATEMATİK CEVAPLAR

1-D 6-A 11-C  
2-C 7-B 12-D  
3-A 8-D 13-B  
4-B 9-A 14-A  
5-D 10-A 15-A

## FEN BİLİMLERİ CEVAPLAR

1-A 6-B 11-B  
2-B 7-D 12-C  
3-D 8-B 13-D  
4-D 9-A 14-D  
5-D 10-B 15-C

## SOSYAL BİLGİLER CEVAP

1-D 6-A 11-B  
2-C 7-D 12-D  
3-C 8-B 13-C  
4-C 9-D 14-A  
5-B 10-B 15-A

## İNGİLİZCE CEVAPLAR

1-A 6-B  
2-C 7-B  
3-B 8-D  
4-D 9-B  
5-C 10-D

www.ufukkoca.com

www.ercanckmrcan.com

www.etkinlikburada.com



@ufukkoca61



@ufukkoca61



@ufukkoca



www.ufukkoca.com



@ufukkoca61



0 552 252 83 85