

➤ Madeni paralardan en büyük değere sahip olanın altındaki yıldızı boyayalım..



➤ Kağıt paralardan en büyük değere sahip olanın altındaki yıldızı boyayalım..



➤ Aşağıdaki paraların miktarını altlarına yazınız.



50 TL



➤ Ön ve arka yüzleri verilen paraları eşleştirin.



➤ Aşağıdaki madeni paraları değeri çok olandan az olana doğru sıra sayılarını kullanarak yazalım..



Aşağıda çocukların sorduğu soruların içine cevapları yazalım



➤ Aşağıdaki paraları toplayıp kaç lira olduğunu yanlarına yazın.

	7 lira
--	--------

 lira
--	---------------

 lira
--	---------------

 kuruş
---	----------------

 kuruş
--	----------------

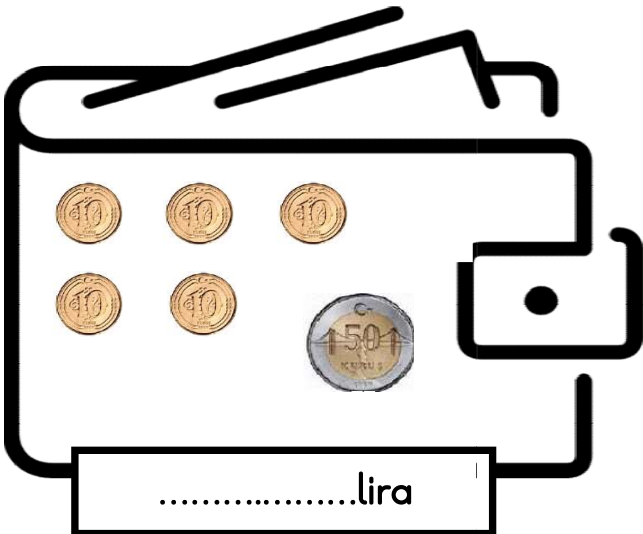
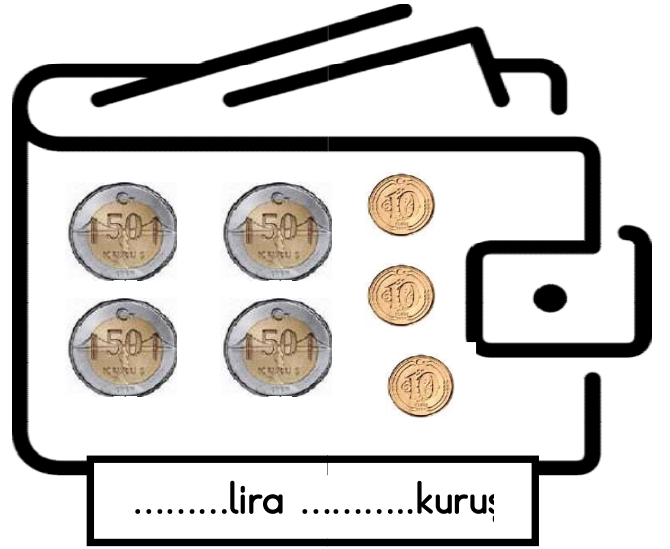


lirakuruş
--	-------------------------


 kuruş	= lira
---	----------------	---	---------------

 kuruş
--	----------------

lirakuruş
---	-------------------------

Cüzdanların içindeki paraları sayalım, altlarındaki bölüme yazalım.





Aşağıda verilen paralarla alabileceğimiz eşyaları eşleştirelim.



E

