

30 NİSAN 2020

**ÖĞRENCİ
GÖREVLERİ**

😊Sizin Başarınız Benim Mutluluğumdur😊



nihalkaralikorkmaz

SORU CÜMLESİ YAZ VE CEVAPLA

Aşağıdaki görselleri inceleyin. Görsele uygun soru yazın ve soruyu cevaplayın.

ÖRNEK



SORU: Resimdeki kız ne yapıyor?

CEVAP: Resimdeki kız, dans ediyor.

 nihalkaralikorkmaz
Instagram

1



SORU:

CEVAP:

2



SORU:

CEVAP:

3



SORU:

CEVAP:


4



SORU:

CEVAP:

5



SORU:

CEVAP:

PARALARIMIZ DEFTER ÇALIŞMASI

Aşağıdaki bilgileri özenle ve en güzel yazınla matematik defterine yazar mısın?

PARALARIMIZ

Ülkemizin para birimi **Türk lirası**dır. Kısaca «**TL**» olarak gösterilir. Sembolü **₺** 'dir.
Liradan küçük para birimine **kuruş** denir. Kısaca «**kr.**» ile gösterilir. Paralarımız **kağıt para** ve **madeni para** olmak üzere iki çeşittir.

Kağıt Paralarımız

 [nihalkaralikorkmaz](#)
Instagram



200 Türk Lirası
200 TL
₺ 200



100 Türk Lirası
100 TL
₺ 100



50 Türk Lirası
50 TL
₺ 50



20 Türk Lirası
20 TL
₺ 20



10 Türk Lirası
10 TL
₺ 10



5 Türk Lirası
5 TL
₺ 5

★ Değeri en büyük olan kağıt paramız **200 TL**, en küçük olan kağıt paramız **5 TL**'dir.

Madeni Paralarımız



1 Türk Lirası
1 TL



50 Kuruş
50 kr.



25 Kuruş
25 kr.



10 Kuruş
10 kr.



5 Kuruş
5 kr.










1 Kuruş
1 kr.

★ Değeri en büyük olan madeni paramız **1 TL**, en küçük olan madeni paramız **1 kr.** 'tur.

PARALARIMIZ ÇALIŞMAMIZ

Aşağıdaki soruları defterine yaz ve cevapla.

✓

 +  +  =  +  =  = 

..... tane kuruş \equiv tane kuruş \equiv tane kuruş \equiv 1 lira

Aşağıdaki cüzdanlarda bulunan para miktarını hesaplayarak yazın.

1



2



3



4



5

