

Aşağıdaki boşlukları

tamamlar mısınız?



Bir yıl.....mevsimdir.  
Bir ay.....gündür.

Bir yıl.....haftadır.  
Bir gün.....saattir.



Bir hafta .....gündür.  
Bir ay.....haftadır

Bir yıl.....aydır.  
Bir yıl.....gün..saattir



Yılın 1. ayı.....tır  
Yılın 6.ayı.....dır.

Yılın 10.ayı.....dir.  
Yılın 2. ayı.....tır.

İŞARETLİ YERLERDEN KES DEFTERİNE YAPIŞTIR ALTINA YAZ

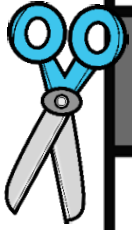


İSİM

BİTKİ

HAYVAN

ŞEHİR



ŞEHİR

İSİM

HAYVAN

ÜLKE




İSİM

ŞEHİR

HAYVAN

BİTKİ





Merhaba sevgili çocuklar  
aşağıda verilen sayılarla çarpma  
işlemini yapıp madalyayı  
kaptmaya ne dersiniz?



$$7 \times 4 = \text{[ ]}$$

$$2 \times 9 = \text{[ ]}$$

$$5 \times 8 = \text{[ ]}$$


$$9 \times 5 = \text{[ ]}$$

$$8 \times 6 = \text{[ ]}$$

$$6 \times 7 = \text{[ ]}$$

$$3 \times 9 = \text{[ ]}$$

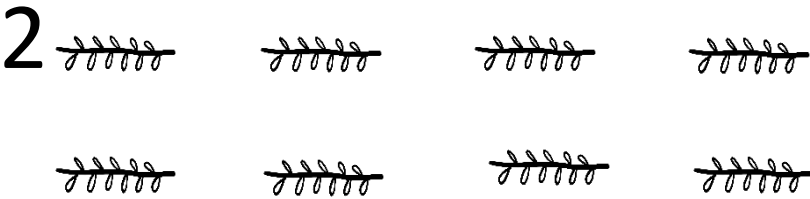



$$8 \times 7 = \text{[ ]}$$



Dansı ve boyamayı hak etmedik mi?

2'şer 2'şer ileriye ritmik saymaları

5 kere sayalım






# ZIT KELİMELER



**SICAK**



**SOĞUK**



**BÜYÜK**




**KÜÇÜK**




**SİYAH**



**BEYAZ**



**UZUN**



**KISA**

