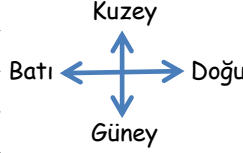


## YÖNLER

### Numaralı Taşlar

1	2	3	4	5	6	7	8
9	10	11	12	13	14	15	16
17	18	19	20	21	22	23	24
25	26	27	28	29	30	31	32
33	34	35	36	37	38	39	40



- 3) Kıvanç 1 numaralı taşın üzerinde durmaktadır. 3 adım doğuya, 1 adım güneye, 3 adım batıya ve 1 adım kuzeye ilerledikten sonra hangi taşa ulaşır?
- 4) Ali 16 numaralı taşın üzerinde durmaktadır. 1 adım batıya, 3 adım güneye, 1 adım doğuya ve 4 adım kuzeye ilerledikten sonra hangi taşa ulaşır?
- 5) Elif 31 numaralı taşın üzerinde durmaktadır. 1 adım doğuya, 1 adım güneye, 7 adım batıya ve 1 adım kuzeye ilerledikten sonra hangi taşa ulaşır?
- 6) Ayşe 25 numaralı taşın üzerinde durmaktadır. 5 adım doğuya, 1 adım güneye, 2 adım batıya ve 3 adım kuzeye ilerledikten sonra hangi taşa ulaşır?

1) Alihan 4 numaralı taşın üzerinde durmaktadır. 2 adım batıya, 2 adım güneye, 1 adım doğuya ve 2 adım kuzeye ilerledikten sonra hangi taşa ulaşır?

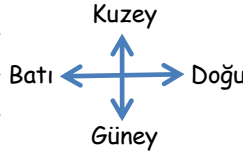
2) Burak 8 numaralı taşın üzerinde durmaktadır. 6 adım batıya, 1 adım güneye, 6 adım doğuya ve 1 adım kuzeye ilerledikten sonra hangi taşa ulaşır?

**Kontrol için doğru cevaplardaki sayıları topla. Toplamı 57 ise aferin sana!**

## YÖNLER

### Numaralı Taşlar

1	2	3	4	5	6	7	8
9	10	11	12	13	14	15	16
17	18	19	20	21	22	23	24
25	26	27	28	29	30	31	32
33	34	35	36	37	38	39	40



- 3) Ayşe 24 numaralı taşın üzerinde durmaktadır. 2 adım batıya, 1 adım güneye, 1 adım doğuya ve 3 adım kuzeye ilerledikten sonra hangi taşa ulaşır?
- 4) Eda 28 numaralı taşın üzerinde durmaktadır. 3 adım doğuya, 1 adım güneye, 3 adım batıya ve 3 adım kuzeye ilerledikten sonra hangi taşa ulaşır?
- 5) Şeyma 3 numaralı taşın üzerinde durmaktadır. 2 adım batıya, 2 adım güneye, 5 adım doğuya ve 1 adım kuzeye ilerledikten sonra hangi taşa ulaşır?
- 6) Ecenur 13 numaralı taşın üzerinde durmaktadır. 4 adım batıya, 3 adım güneye, 1 adım doğuya ve 3 adım kuzeye ilerledikten sonra hangi taşa ulaşır?

1) Alihan 25 numaralı taşın üzerinde durmaktadır. 1 adım doğuya, 2 adım kuzeye, 1 adım batıya ve 2 adım güneye ilerledikten sonra hangi taşa ulaşır?

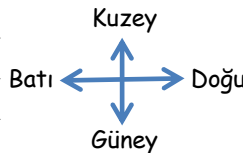
2) Ece 19 numaralı taşın üzerinde durmaktadır. 2 adım batıya, 1 adım güneye, 3 adım doğuya ve 3 adım kuzeye ilerledikten sonra hangi taşa ulaşır?

**Kontrol için doğru cevaplardaki sayıları topla. Toplamı 72 ise aferin sana!**

## YÖNLER

### Numaralı Taşlar

1	2	3	4	5	6	7	8
9	10	11	12	13	14	15	16
17	18	19	20	21	22	23	24
25	26	27	28	29	30	31	32
33	34	35	36	37	38	39	40



- 3) Ece 3 numaralı taşın üzerinde durmaktadır. 4 adım doğuya, 2 adım güneye, 6 adım batıya ve 2 adım kuzeye ilerledikten sonra hangi taşa ulaşır?
- 4) Serhat 18 numaralı taşın üzerinde durmaktadır. 6 adım doğuya, 2 adım güneye, 1 adım batıya ve 4 adım kuzeye ilerledikten sonra hangi taşa ulaşır?
- 5) Elif 40 numaralı taşın üzerinde durmaktadır. 5 adım batıya, 3 adım kuzeye, 1 adım doğuya ve 3 adım güneye ilerledikten sonra hangi taşa ulaşır?
- 6) Reyhan 5 numaralı taşın üzerinde durmaktadır. 2 adım doğuya, 3 adım güneye, 5 adım batıya ve 3 adım kuzeye ilerledikten sonra hangi taşa ulaşır?

1) İsa 16 numaralı taşın üzerinde durmaktadır. 7 adım batıya, 1 adım kuzeye, 4 adım doğuya ve 2 adım güneye ilerledikten sonra hangi taşa ulaşır?

2) Burak 10 numaralı taşın üzerinde durmaktadır. 1 adım batıya, 1 adım güneye, 3 adım doğuya ve 2 adım kuzeye ilerledikten sonra hangi taşa ulaşır?

**Kontrol için doğru cevaplardaki sayıları topla. Toplamı 71 ise aferin sana!**