

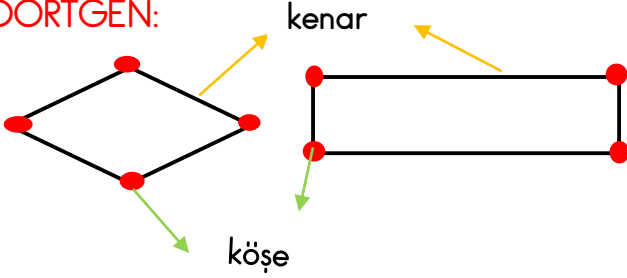
Sevgili öğrencim, aşağıda verilen konu anlatımını güzelce **MATEMATİK** defterinize yazınız. Konuyu okuyup anlamaya çalışınız.

Şekilleri Kenar Sayılarına Göre İsimlendirelim

Çokgenler:

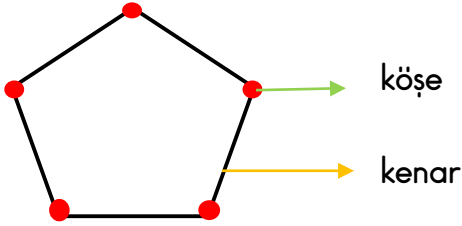
- Çokgen, çok kenarlı olan kapalı şekillere denir.
- Çokgenler en az 3 kenarlı en çok ise sonsuz sayıda olur.
- Geometrik şekillerden çokgenler kenar sayılarına göre isimlendirilir.

DÖRTGEN:



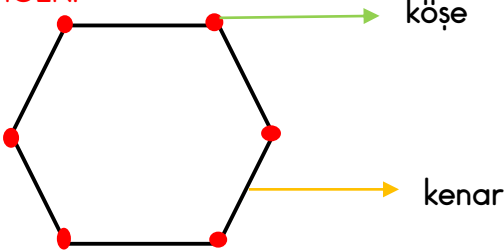
- 4 kenarı ve 4 köşesi olan kapalı şekillere **dörtgen** adı verilir.

BEŞGEN:



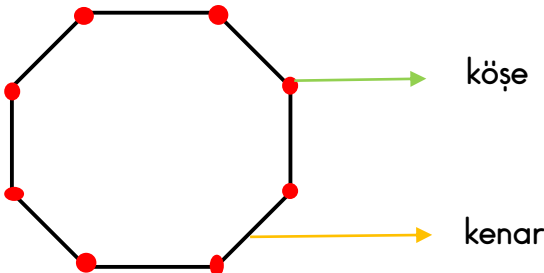
- 5 kenarı ve 5 köşesi olan kapalı şekillere **beşgen** adı verilir.

ALTİGEN:



- 6 kenarı ve 6 köşesi olan kapalı şekillere **altıgen** adı verilir.

SEKİZGEN:



- 8 kenarı ve 8 köşesi olan kapalı şekillere **sekizgen** adı verilir.